

01.	Which State in India is the largest producer of natural rubber? (A). Arunachal Pradesh (B). Andhra Pradesh (C). Kerala (D). Karnataka	01.	ಭಾರತದ ಯಾವ ರಾಜ್ಯವು ನೈಸರ್ಗಿಕ ರಬ್ಬರ್‌ನ ಅತಿ ಹೆಚ್ಚು ಉತ್ಪಾದಿಸುತ್ತದೆ? (ಎ) ಅರುಣಾಚಲ ಪ್ರದೇಶ (ಬಿ) ಆಂಧ್ರಪ್ರದೇಶ (ಸಿ) ಕೇರಳ (ಡಿ) ಕರ್ನಾಟಕ
02.	The Western Ghats region runs to a length of 1600 Kilometres. Which among the following States are covered by the Western Ghats ? (A). Tamil Nadu, Karnataka, Kerala (B). Tamil Nadu, Karnataka, Kerala, Goa (C). Tamil Nadu, Karnataka, Kerala, Goa, Maharashtra (D). Tamil Nadu, Karnataka, Kerala, Goa, Maharashtra, Gujarat	02.	ಪಶ್ಚಿಮ ಘಟ್ಟಗಳ ಪ್ರದೇಶವು 1600 ಕಿಲೋಮೀಟರ್ ಉದ್ದದವರೆಗೆ ಸಾಗುತ್ತದೆ. ಈ ಕೆಳಗಿನ ಯಾವ ರಾಜ್ಯಗಳು ಪಶ್ಚಿಮ ಘಟ್ಟಗಳಿಂದ ಆವರಿಸಲ್ಪಟ್ಟಿವೆ? (ಎ) ತಮಿಳುನಾಡು, ಕರ್ನಾಟಕ, ಕೇರಳ (ಬಿ) ತಮಿಳುನಾಡು, ಕರ್ನಾಟಕ, ಕೇರಳ, ಗೋವಾ (ಸಿ) ತಮಿಳುನಾಡು, ಕರ್ನಾಟಕ, ಕೇರಳ, ಗೋವಾ, ಮಹಾರಾಷ್ಟ್ರ (ಡಿ) ತಮಿಳುನಾಡು, ಕರ್ನಾಟಕ, ಕೇರಳ, ಗೋವಾ, ಮಹಾರಾಷ್ಟ್ರ, ಗುಜರಾತ್
03.	Parliament of India consists of the following : (A). Lok Sabha & Rajya Sabha & President of India (B). Rajya Sabha (C). Lok Sabha & Rajya Sabha (D). Lok Sabha	03.	ಭಾರತದ ಸಂಸತ್ತು ಈ ಕೆಳಗಿನವುಗಳನ್ನು ಒಳಗೊಂಡಿದೆ: (ಎ) ಲೋಕಸಭೆ ಮತ್ತು ರಾಜ್ಯಸಭೆ ಮತ್ತು ಭಾರತದ ರಾಷ್ಟ್ರಪತಿ (ಬಿ) ರಾಜ್ಯಸಭೆ (ಸಿ) ಲೋಕಸಭೆ ಮತ್ತು ರಾಜ್ಯಸಭೆ (ಡಿ) ಲೋಕಸಭೆ
04.	Which of the following is the longest river in South India? (A). Krishna (B). Godavari (C). Bhima (D). Cauvery	04.	ಕೆಳಗಿನ ನದಿಗಳಲ್ಲಿ ಯಾವ ನದಿಯು ದಕ್ಷಿಣ ಭಾರತದ ಅತಿ ಉದ್ದದ ನದಿಯಾಗಿದೆ? (ಎ) ಕೃಷ್ಣಾ (ಬಿ). ಗೋದಾವರಿ (ಸಿ) ಭೀಮಾ (ಡಿ). ಕಾವೇರಿ
05.	Vijay Singh (Golf player) is from which Country ? (A). UK (B). USA (C). India (D). Fiji	05.	ವಿಜಯ್ ಸಿಂಗ್ (ಗಾಲ್ಫ್ ಆಟಗಾರ) ಯಾವ ದೇಶದವರು? (ಎ) ಯುಕೆ (ಬಿ). ಯುಎಸ್‌ಎ (ಸಿ) ಭಾರತ (ಡಿ). ಫಿಜಿ
06.	Rameshbabu Vaishali is belongs to ? (A). Volley Ball (B). Carrom (C). Table Tennis (D). Chess	06.	ರಮೇಶ್‌ಬಾಬು ವೈಶಾಲಿಯವರು ಯಾವ ಕ್ರೀಡೆಗೆ ಸಂಬಂಧಿಸಿದವರು ? (ಎ) ವಾಲಿ ಬಾಲ್ (ಬಿ). ಕೇರಂ (ಸಿ) ಟೇಬಲ್ ಟೆನ್ನಿಸ್ (ಡಿ). ಚದುರಂಗ
07.	Please match the following : a. Mohiniattam i. Tamil Nadu b. Kuchipudi ii. Karnataka c. Bharatanatyam iii. Kerala d. Kathak iv. Uttar Pradesh v. Andhra Pradesh (A). a, iii & b, v & c, i & d, iv (B). a, i & b, iii & c, v & d, iv	07.	ದಯವಿಟ್ಟು ಕೆಳಗಿನವುಗಳನ್ನು ಹೊಂದಿಸಿ: ಎ. ಮೋಹಿನಿಯಾಟ್ಟಂ i. ತಮಿಳುನಾಡು ✓ ಬಿ. ಕೂಚಿಪುಡಿ ii. ಕರ್ನಾಟಕ ಸಿ. ಭರತನಾಟ್ಯ iii. ಕೇರಳ ಡಿ. ಕಥಕ್ iv. ಉತ್ತರ ಪ್ರದೇಶ v. ಆಂಧ್ರಪ್ರದೇಶ (ಎ) a, iii & b, v & c, i & d, iv (ಬಿ) a, i & b, iii & c, v & d, iv

	(C). a, iii & b, ii & c. i & d, iv (D). a, i & b, ii & c, iv & d, v		(ಸಿ) a, iii & b, ii & c. i & d, iv (ಡಿ) a, i & b, ii & c, iv & d, v
08.	Quit India Movement launched during the year & under the leadership of ? (A). 1944 & Jawarharlal Nehru (B). 1941 & Subash Chandra Bose (C). 1942 & Mohandas (D). 1945 & Mahatma Gandhi	08.	ಕ್ವಿಟ್ ಇಂಡಿಯಾ ಚಳುವಳಿಯನ್ನು ವರ್ಷದಲ್ಲಿ ಮತ್ತು ನೇತೃತ್ವದಲ್ಲಿ ಪ್ರಾರಂಭಿಸಲಾಯಿತು? (ಎ) 1944 & ಜವಾಹರಲಾಲ್ ನೆಹರು (ಬಿ) 1941 & ಸುಭಾಷ್ ಚಂದ್ರ ಬೋಸ್ (ಸಿ) 1942 & ಮೋಹನ್ ದಾಸ್ (ಡಿ) 1945 & ಮಹಾತ್ಮ ಗಾಂಧಿ
09.	Who gave the slogan "Vande Mataram" ? (A). Mohandas Karamchand Gandhi (B). Bankim Chandra Chatterjee (C). Rabindranath Tagore (D). Lal Bhadur Shastri	09.	"ವಂದೇ ಮಾತರಂ" ಘೋಷಣೆಯನ್ನು ನೀಡಿದವರು ಯಾರು? (ಎ) ಮೋಹನ್ ದಾಸ್ ಕರಮಚಂದ ಗಾಂಧಿ (ಬಿ) ಬಂಕಿಮ್ ಚಂದ್ರ ಚಟರ್ಜಿ (ಸಿ) ರವೀಂದ್ರನಾಥ ಟ್ಯಾಗೋರ್ (ಡಿ) ಲಾಲ್ ಬಹಾದೂರ್ ಶಾಸ್ತ್ರಿ
10.	THE OBSTACLE IN OUR PATH : In ancient times, a king had a boulder placed on a roadway. Then he hide himself and watched to see if anyone would remove the huge rock. Some of the king's wealthiest merchants and courtiers came by and simply walked around it. Many loudly blamed the king for not keeping the roads clear, but none did anything about getting the big stone out of the way. Then a peasant came along carrying a load of vegetables. On approaching the boulder, the peasant laid down his burden and tried to move the stone to the side of the road. After much pushing and straining, he finally succeeded. As the peasant picked up his load of vegetables, he noticed a purse lying in the road where the boulder had been. The purse contained many gold coins and a note from the king indicating that the gold was for the person who removed the boulder from the roadway. The peasant learned what many others never understand.	10.	ನಮ್ಮ ದಾರಿಯಲ್ಲಿನ ಅಡಚಣೆ: ಪ್ರಾಚೀನ ಕಾಲದಲ್ಲಿ, ಒಬ್ಬ ರಾಜನು ರಸ್ತೆಯ ಮೇಲೆ ಬಂಡೆಯನ್ನು ಇಟ್ಟನು. ನಂತರ ಮರೆಯಲ್ಲಿ ಅಡಚಣೆಯನ್ನು ಯಾರಾದರೂ ಬೃಹತ್ ಬಂಡೆಯನ್ನು ದಾರಿಯಿಂದ ತೆಗೆದುಹಾಕುತ್ತಾರೆಯೇ ಎಂದು ನೋಡಿದನು. ರಾಜನ ಕೆಲವು ಶ್ರೀಮಂತ ವ್ಯಾಪಾರಿಗಳು ಮತ್ತು ಆಸ್ಥಾನಿಕರು ಬಂದು ಅದರ ಸುತ್ತಲೂ ಸುಮ್ಮನೆ ನಡೆದು ಹೋದರು. ರಸ್ತೆಗೆ ಅಡಚಣೆಯಾಗಿದೆ ಎಂದು ಅನೇಕರು ರಾಜನನ್ನು ಬಹುವಾಗಿ ದೂಷಿಸಿದರು, ಆದರೆ ಬಂಡೆಯನ್ನು ದಾರಿಯಿಂದ ತೆಗೆಯುವ ಬಗ್ಗೆ ಯಾರೂ ಏನನ್ನೂ ಮಾಡಲಿಲ್ಲ. ಆಗ ಒಬ್ಬ ರೈತ ತರಕಾರಿ ತುಂಬಿಕೊಂಡು ಬಂದ, ಬಂಡೆಯನ್ನು ಸಮೀಪಿಸಿದಾಗ, ರೈತನು ತನ್ನ ಹೊರೆಯನ್ನು ಕೆಳಗೆ ಹಾಕಿ ಮತ್ತು ಬಂಡೆಯನ್ನು ರಸ್ತೆಯ ಬದಿಗೆ ಸರಿಸಲು ಪ್ರಯತ್ನಿಸಿದನು, ಸಾಕಷ್ಟು ಒತ್ತಡ ಮತ್ತು ಪ್ರಯತ್ನಗಳ ನಂತರ, ಅವನು ಅಂತಿಮವಾಗಿ ಯಶಸ್ವಿಯಾದನು, ರೈತನು ತನ್ನ ತರಕಾರಿಗಳ ಹೊರೆಯನ್ನು ಮೇಲಕ್ಕೆ ಎತ್ತಿದಾಗ, ಬಂಡೆಯಿದ್ದ ರಸ್ತೆಯಲ್ಲಿ ಒಂದು ಹಣದ ಚೀಲ ಬಿದ್ದಿರುವುದನ್ನು ಅವನು ಗಮನಿಸಿದನು. ಆ ಹಣದ ಚೀಲದಲ್ಲಿ ಅನೇಕ ಚಿನ್ನದ ನಾಣ್ಯಗಳು ಮತ್ತು ರಾಜನು ಬರೆದಿರುವ ಚೀಟಿ ಇತ್ತು, ಆ ಚಿನ್ನವು ರಸ್ತೆಯಿಂದ ಬಂಡೆಯನ್ನು ಸರಿಸಿದ ವ್ಯಕ್ತಿಗೆ ಸೇರಿದುದಾಗಿದೆ ಎಂದು ಸೂಚಿಸುತ್ತಿತ್ತು. ಹಲವರಿಗೆ ಅರ್ಥವಾಗದ ವಿಷಯವು ರೈತನಿಗೆ ಅರ್ಥವಾಯಿತು. ದಯವಿಟ್ಟು ಮೇಲಿನ ಪ್ರಾರಾಧನಾ ಓದಿ ಕೆಳಗಿನ ಪ್ರಶ್ನೆಗೆ ಉತ್ತರಿಸಿ:

	the above paragraph : Like peasant, for removing any obstacles in our life requires ? (A). Full & own efforts (B). Laziness (C). Wait for others to remove (D). Half & own efforts		ಆ ರೈತನಂತೆ, ನಮ್ಮ ಜೀವನದಲ್ಲಿ ಯಾವುದೇ ಅಡೆತಡೆಗಳನ್ನು ತೆಗೆದುಹಾಕಲು ಅಗತ್ಯವಿರುವ ವಿಷಯ ಯಾವುದು? (ಎ) ಪೂರ್ಣ ಮತ್ತು ಸ್ವಂತ ಪ್ರಯತ್ನ (ಬಿ) ಸೋಮಾರಿತನ (ಸಿ) ಇತರರು ತೆಗೆದುಹಾಕುತ್ತಾರೆಂದು ನಿರೀಕ್ಷಿಸಿ (ಡಿ) ಅರ್ಧ ಮತ್ತು ಸ್ವಂತ ಪ್ರಯತ್ನಗಳು
11.	Abbreviation of RTN in DoP ? (A). Railway Transport Network (B). Route Transit Number (C). Road Transport Network (D). Routing Transit Number	11.	ಆರ್ ಟಿ ಎನ್ ನ ಪೂರ್ಣರೂಪವೇನು? (ಎ) ರೈಲ್ವೆ ಟ್ರಾನ್ಸ್‌ಪೋರ್ಟ್ ನೆಟ್‌ವರ್ಕ್ (ಬಿ) ರೂಟ್ ಟ್ರಾನ್ಸಿಟ್ ನಂಬರ್ (ಸಿ) ರೋಡ್ ಟ್ರಾನ್ಸ್‌ಪೋರ್ಟ್ ನೆಟ್‌ವರ್ಕ್ (ಡಿ) ರೂಟಿಂಗ್ ಟ್ರಾನ್ಸ್‌ಪೋರ್ಟ್ ನಂಬರ್
12.	Sender of an Article posted in RMS Van & if the Sender requested to examine ; (A). May be permitted (B). Not permitted (C). Handover to nearest PO (D). Send along with work papers	12.	RMS ವ್ಯಾನ್‌ನಲ್ಲಿ ಪೋಸ್ಟ್ ಮಾಡಿದ ಅಂಚೆ ವಸ್ತುವನ್ನು ಕಳುಹಿಸುವವರು ಪರಿಶೀಲಿಸಲು ವಿನಂತಿಸಿದರೆ; (ಎ) ಅನುಮತಿ ನೀಡಬಹುದು (ಬಿ) ಅನುಮತಿ ಇಲ್ಲ (ಸಿ) ಹತ್ತಿರದ ಪಿಒಗೆ ಹಸ್ತಾಂತರಿಸಿ (ಡಿ) ವರ್ಕ್ ಪೇಪರ್‌ಗಳೊಂದಿಗೆ ವಸ್ತುವನ್ನು ಕಳುಹಿಸಿ
13.	Metal Token is carried by ? (A). Sorting Assistant (B). Mail Guards (C). Other than Supervising Officers (D). All except C	13.	ಲೋಹದ ಟೋಕನ್ ಅನ್ನು ಸಾಗಿಸುವವರು? (ಎ) ವಿಂಗಡಣೆ ಸಹಾಯಕ (ಬಿ) ಮೇಲ್ ಗಾರ್ಡ್ಸ್ (ಸಿ) ಮೇಲ್ವಿಚಾರಣಾ ಅಧಿಕಾರಿಗಳನ್ನು ಹೊರತುಪಡಿಸಿ (ಡಿ) ಸಿ ಹೊರತುಪಡಿಸಿ ಎಲ್ಲರೂ
14.	What is the maximum weight limit of an Aerogramme ? (A). 3 grams (B). 10 grams (C). 8 grams (D). 5 grams	14.	ಏರೋಗ್ರಾಮ್‌ನ ಗರಿಷ್ಠ ತೂಕದ ಮಿತಿ ಎಷ್ಟು? (ಎ) 3 ಗ್ರಾಂ (ಬಿ) 10 ಗ್ರಾಂ (ಸಿ) 8 ಗ್ರಾಂ (ಡಿ) 5 ಗ್ರಾಂ
15.	The cost of Digital Life Certificate by a Pensioner through Postman ? (A). Rs.50 (B). Rs.70 (C). Free (D). Rs.20	15.	ಪೋಸ್ಟಲ್ ಡಿಜಿಟಲ್ ಲೈಫ್ ಪ್ರಮಾಣಪತ್ರದ ಮೂಲಕ ಪಿಂಚಣಿದಾರರಿಗೆ ಮಾಡಿಸಲ್ಪಟ್ಟ ಡಿಜಿಟಲ್ ಲೈಫ್ ಪ್ರಮಾಣಪತ್ರದ ಬೆಲೆ? (ಎ) ರೂ.50 (ಬಿ) 70 ರೂ (ಸಿ) ಉಚಿತ. (ಡಿ) ರೂ.20
16.	When a registered articles of the letter mail or a parcel is received in the office of delivery in a damaged condition, a _____ will be sent by the postmaster of that office to the _____ requesting him to attend the post office within _____ days in the case of inland articles and _____ days in	16.	ಲೆಟರ್ ಮೇಲ್ ಅಥವಾ ಪಾರ್ಸೆಲ್‌ನ ನೋಂದಾಯಿತ ವಸ್ತುಗಳು ಹಾನಿಗೊಳಗಾದ ಸ್ಥಿತಿಯಲ್ಲಿ ವಿತರಣಾ ಕಛೇರಿಗೆ ಬಂದಾಗ, _____ ನ್ನು ಆ ಕಚೇರಿಯ ಪೋಸ್ಟ್‌ಮಾಸ್ಟರ್ _____ ಗೆ ಕಳುಹಿಸಲಾಗುತ್ತದೆ. _____ ನಿಂದ _____ ಗೆ _____ ದಿನಗಳ ಒಳನಾಡಿನ ಅಂಚೆ ವಸ್ತುಗಳಾದರೆ _____ ದಿನಗಳ ಒಳಗೆ ಮತ್ತು ವಿದೇಶಿ ಅಂಚೆ ವಸ್ತುಗಳಾದರೆ _____ ಒಳಗೆ _____ ಕಛೇರಿಗೆ ಹಾಜರಾಗಲು

	the case of foreign article to take delivery of it. (A). notice, addressee, seven, ten (B). notice, addressee, seven, twenty (C). notice, addressee, seven, fifteen (D). notice, addressee, ten, fifteen		ವಿನಂತಿಸುತ್ತಾರೆ. (ಎ) ಸೂಚನೆ, ವಿಳಾಸದಾರ, ಏಳು, ಹತ್ತು (ಬಿ) ಸೂಚನೆ, ವಿಳಾಸದಾರ, ಏಳು, ಇಪ್ಪತ್ತು (ಸಿ) ಸೂಚನೆ, ವಿಳಾಸದಾರ, ಏಳು, ಹದಿನೈದು (ಡಿ) ಸೂಚನೆ, ವಿಳಾಸದಾರ, ಹತ್ತು, ಹದಿನೈದು
17.	Size of ID Card as per PO Guide ? (A). 88 millimeter x 63 millimeter (B). 86 millimeter x 66 millimeter (C). 88 millimeter x 64 millimeter (D). 86 millimeter x 63 millimeter	17.	PO ಗೈಡ್‌ನ ಪ್ರಕಾರ ID ಕಾರ್ಡ್‌ನ ಗಾತ್ರ? (ಎ) 88 ಮಿಲಿಮೀಟರ್ x 63 ಮಿಲಿಮೀಟರ್ (ಬಿ) 86 ಮಿಲಿಮೀಟರ್ x 66 ಮಿಲಿಮೀಟರ್ (ಸಿ) 88 ಮಿಲಿಮೀಟರ್ x 64 ಮಿಲಿಮೀಟರ್ (ಡಿ) 86 ಮಿಲಿಮೀಟರ್ x 63 ಮಿಲಿಮೀಟರ್
18.	"Post Restante" means ? (A). "To wait arrival" (B). "Care of Post Office" (C). "Care of postmaster" (D). All the above	18.	"ಪೋಸ್ಟ್ ರೆಸ್ಟಾಂಟೆ" ಎಂದರೆ ? (ಎ) "ಆಗಮನಕ್ಕಾಗಿ ಕಾಯಲು" (ಬಿ) " ಕೇರಾಫ್ ಪೋಸ್ಟ್ ಆಫೀಸ್ " (ಸಿ) " ಕೇರಾಫ್ ಪೋಸ್ಟ್ ಮಾಸ್ಟರ್ " (ಡಿ) ಮೇಲಿನ ಎಲ್ಲಾ
19.	Period within which Complaints should be referred for MO, VP, IPOs ? (A). 24 months (B). 12 months (C). 6 months (D). 18 months	19.	MO, VP, IPO ಗಳಿಗೆ ಯಾವ ಅವಧಿಯೊಳಗೆ ದೂರುಗಳನ್ನು ಉಲ್ಲೇಖಿಸಬೇಕು? (ಎ) 24 ತಿಂಗಳುಗಳು (ಬಿ) 12 ತಿಂಗಳುಗಳು (ಸಿ) 6 ತಿಂಗಳುಗಳು (ಡಿ) 18 ತಿಂಗಳುಗಳು
20.	Registered Letter can be delivered to ? (A). Anyone residing at home in the address (B) Name & any family member (C) Addressee only (D). All the above	20.	ನೋಂದಾಯಿತ ಪತ್ರವನ್ನು ಯಾರಿಗೆ ಬಟವಾಡೆ ಮಾಡಬಹುದು? (ಎ) ವಿಳಾಸದ ಮನೆಯಲ್ಲಿ ವಾಸಿಸುವ ಯಾರಿಗಾದರೂ (ಬಿ) ಹೆಸರು ಮತ್ತು ಕುಟುಂಬದ ಯಾವುದೇ ಸದಸ್ಯರಿಗೆ (ಸಿ) ವಿಳಾಸದಾರರಿಗೆ ಮಾತ್ರ (ಡಿ) ಮೇಲಿನ ಎಲ್ಲರಿಗೂ
21.	Cases in which Registration is compulsory? (A). Any Parcel exceeding 4 kgs (B). Money Order (C). Any registered article with is re-posted after having been delivered (D). Both A & C	21.	ಯಾವ ಪ್ರಕರಣಗಳಲ್ಲಿ ನೋಂದಣಿ ಕಡ್ಡಾಯವಾಗಿದೆ? (ಎ) 4 ಕೆಜಿಗಿಂತ ಹೆಚ್ಚಿನ ಯಾವುದೇ ಪಾರ್ಸೆಲ್ (ಬಿ) ಮನಿಯರ್ಡರ್ (ಸಿ) ಯಾವುದೇ ಬಟವಾಡೆಯಾದ ನೋಂದಾಯಿತ ವಸ್ತುವನ್ನು ಮರು ಪೋಸ್ಟ್ ಮಾಡುವಾಗ (ಡಿ) ಎ ಮತ್ತು ಸಿ ಎರಡೂ
22.	Where there has been mis-delivery arising out of incorrectness or incompleteness of the address written by the sender in Insurance article, then compensation will be ? (A). no compensation (B). Registration charges + Insurance value (C). upto Insurance value (D). Maximum of Rs. 100	22.	ವಿಮೆಯಾದ ವಸ್ತುಗಳನ್ನು ಕಳುಹಿಸುವವರು ಬರೆದ ದೋಷಪೂರ್ಣ ವಿಳಾಸದ ಕಾರಣ ಅಥವಾ ಅಪೂರ್ಣತೆಯಿಂದಾಗಿ ಬಟವಾಡೆಯಲ್ಲಿ ತಪ್ಪಾದರೆ ಆಗ ದೊರಕುವ ಪರಿಹಾರವು ? (ಎ) ಪರಿಹಾರವಿಲ್ಲ (ಬಿ) ನೋಂದಣಿ ಶುಲ್ಕಗಳು + ವಿಮಾ ಮೌಲ್ಯ (ಸಿ) ವಿಮಾ ಮೌಲ್ಯದವರೆಗೆ (ಡಿ) ಗರಿಷ್ಠ ರೂ. 100

23.	Void MOs can be paid before ? (A). 18 months (B). 1 year (C). 2 years (D). 6 months	23.	ವಾಯ್ಡ್ MO ಗಳನ್ನು ಎಷ್ಟು ಸಮಯದವರೆಗೂ ಪಾವತಿಸಬಹುದು? (ಎ) 18 ತಿಂಗಳುಗಳು (ಬಿ). 1 ವರ್ಷ (ಸಿ) 2 ವರ್ಷಗಳು (ಡಿ). 6 ತಿಂಗಳುಗಳು
24.	Booking of Registered articles in Bulk, atleast _____ (excluding Insurance) per day is required. (A).5 (B).3 (C).20 (D).10	24.	ನೋಂದಾಯಿತ ವಸ್ತುಗಳ ಬಲ್ಕ್ ಬುಕಿಂಗ್ ಮಾಡಲು ಕನಿಷ್ಠ _____ (ವಿಮೆಗೊಂಡ ವಸ್ತುಗಳನ್ನು ಹೊರತುಪಡಿಸಿ) ವಸ್ತುಗಳು ಅಗತ್ಯ. (ಎ) 5 (ಬಿ) 3 (ಸಿ) 20 (ಡಿ) 10
25.	AMRITPEX 2023 was organized in consultation with the ? (A). Ministry of Culture (B). Philatelic Congress of India (C). Both A & B (D). Department of Posts	25.	AMRITPEX 2023 ಅನ್ನು ಇವರೊಂದಿಗೆ ಸಮಾಲೋಚಿಸಿ ಆಯೋಜಿಸಲಾಗಿದೆ? (ಎ) ಸಂಸ್ಕೃತಿ ಸಚಿವಾಲಯ (ಬಿ) ಫಿಲಾಟೆಲಿ ಕಾಂಗ್ರೆಸ್ ಆಫ್ ಇಂಡಿಯಾ (ಸಿ) ಎ ಮತ್ತು ಬಿ ಎರಡೂ (ಡಿ) ಅಂಚೆ ಇಲಾಖೆ
26.	The Headquarters of Asian-Pacific Postal Union (APPU) is located in which Country? (A). Singapore (B). Malaysia (C). Thailand (D). Hong Kong	26.	ಏಷ್ಯನ್-ಪೆಸಿಫಿಕ್ ಪೋಸ್ಟಲ್ ಯೂನಿಯನ್ (APPU) ನ ಪ್ರಧಾನ ಕಛೇರಿಯು ಯಾವ ದೇಶದಲ್ಲಿದೆ? (ಎ) ಸಿಂಗಾಪುರ (ಬಿ). ಮಲೇಷ್ಯಾ (ಸಿ) ಥೈಲ್ಯಾಂಡ್ (ಡಿ). ಹಾಂಗ್ ಕಾಂಗ್
27.	If any articles posted in on board Ships, ocean going Vessels, during the stay of the Ship in an Indian port ; (A). Must be Indian Stamps (B). If in high sea, may be Country of origin (C). Both (A) & (B) are correct (D). None of the above	27.	ಭಾರತೀಯ ಬಂದರಿನಲ್ಲಿ ಹಡಗಿನ ತಂಗುವ ಸಮಯದಲ್ಲಿ ಹಡಗುಗಳು, ಸಾಗರಕ್ಕೆ ಹೋಗುವ ಹಡಗುಗಳಲ್ಲಿ ಯಾವುದೇ ವಸ್ತುಗಳನ್ನು ಪೋಸ್ಟ್ ಮಾಡಿದ್ದರೆ; (ಎ) ಭಾರತೀಯ ಅಂಚೆಚೀಟಿಗಳಾಗಿರಬೇಕು (ಬಿ) ಬಾಹ್ಯ ಸಮುದ್ರ ಪ್ರದೇಶದಲ್ಲಿದ್ದರೆ, ಮೂಲ ದೇಶಕ್ಕೆ ಸಂಬಂಧಿಸಿರಬೇಕು (ಸಿ) (ಎ) ಮತ್ತು (ಬಿ) ಎರಡೂ ಸರಿ (ಡಿ) ಮೇಲಿನ ಯಾವುದೂ ಅಲ್ಲ
28.	Articles for the personnel of the Indian Armed Forces serving outside India should be addressed to ; (A). 56 A.P.O (B). Fleet mail Office, Bombay (C). Such articles should be prepaid at inland rates (D). All the above	28.	ಭಾರತದ ಹೊರಗೆ ಸೇವೆ ಸಲ್ಲಿಸುತ್ತಿರುವ ಭಾರತೀಯ ಸಶಸ್ತ್ರ ಪಡೆಗಳ ಸಿಬ್ಬಂದಿಗೆ ಅಂಚೆ ವಸ್ತುಗಳನ್ನು ಕಳುಹಿಸುವಾಗ ಈ ವಿಳಾಸಕ್ಕೆ ಕಳುಹಿಸಬೇಕು; (ಎ) 56 ಎ.ಪಿ.ಓ (ಬಿ) ಫ್ಲೀಟ್ ಮೇಲ್ ಆಫೀಸ್, ಬಾಂಬೆ (ಸಿ) ಅಂತಹ ಅಂಚೆ ವಸ್ತುಗಳು ಒಳನಾಡಿನ ದರಗಳಲ್ಲಿ ಪೂರ್ವಪಾವತಿಯಾಗಿರಬೇಕು (ಡಿ) ಮೇಲಿನ ಎಲ್ಲಾ
29.	Compensation for loss / total theft / total damage of International Registered M Bag is ? (A). 130 SDR (B). 120 SDR (C). 150 SDR (D). 100 SDR	29.	ಅಂತರರಾಷ್ಟ್ರೀಯ ನೋಂದಾಯಿತ ಎಂ ಬ್ಯಾಗ್‌ನ ನಷ್ಟ / ಒಟ್ಟು ಕಳ್ಳತನ / ಒಟ್ಟು ಹಾನಿಗೆ ಪರಿಹಾರವೇನು? (ಎ) 130 SDR (ಬಿ) 120 SDR (ಸಿ) 150 SDR (ಡಿ) 100 SDR

30.	Cost of one Aerogramme is ? (A). Rs.7.50 (B). Rs.20 (C). Rs.10 (D). Rs.25	30.	ಒಂದು ಏರೋಗ್ರಾಮ್‌ನ ಬೆಲೆ ಎಷ್ಟು? (ಅ) ರೂ. 7.50 (ಬಿ) ರೂ. 20 (ಸಿ) ರೂ. 10 (ಡಿ) ರೂ. 25
31.	What is the International Registration Tariff for Air Letters, Post Cards, Packets? (A). Rs.17 (B). Rs.150 (C). Rs.100 (D). Rs.75	31.	ಏರ್ ಲೆಟರ್‌ಗಳು, ಪೋಸ್ಟ್ ಕಾರ್ಡ್‌ಗಳು, ಪ್ಯಾಕೆಟ್‌ಗಳಿಗೆ ಅಂತರರಾಷ್ಟ್ರೀಯ ನೋಂದಣಿ ಸುಂಕದ ಮೊತ್ತವೆಷ್ಟು? (ಎ) ರೂ. 17 (ಬಿ) ರೂ. 150 (ಸಿ) ರೂ. 100 (ಡಿ) ರೂ. 75
32.	What is SDR ? (A). Sales Development Representative (B). Software Defined Ratio (C). Standard Dynamic Range (D). Special Drawing Rights	32.	SDR ಎಂದರೇನು? (ಎ) ಸೇಲ್ಸ್ ಡೆವಲಪ್‌ಮೆಂಟ್ ರೆಪ್ರೆಸೆಂಟೇಟಿವ್ (ಬಿ) ಸಾಫ್ಟ್‌ವೇರ್ ಡಿಫೈನ್ಡ್ ರೇಶಿಯೋ (ಸಿ) ಸ್ಟ್ಯಾಂಡರ್ಡ್ ಡೈನಾಮಿಕ್ ರೇಂಜ್ (ಡಿ) ಸ್ಪೆಷಲ್ ಡ್ರಾಯಿಂಗ್ ರೈಟ್ಸ್
33.	Dr. Vinaya Prakash Singh is the Secretary-General of the Asian-Pacific Postal Union (APPU) was elected to this position during the APPU Congress held during ? (A). 2024 (B). 2021 (C). 2023 (D). 2022	33.	ಏಷ್ಯನ್-ಪೆಸಿಫಿಕ್ ಪೋಸ್ಟಲ್ ಯೂನಿಯನ್ (APPU) ನ ಪ್ರಧಾನ ಕಾರ್ಯದರ್ಶಿಯಾಗಿರುವ ಡಾ. ವಿನಯ ಪ್ರಕಾಶ್ ಸಿಂಗ್ ಅವರು APPU ಕಾಂಗ್ರೆಸ್ ಸಂದರ್ಭದಲ್ಲಿ ಈ ಸ್ಥಾನಕ್ಕೆ ಚುನಾಯಿತರಾದ ವರ್ಷ? (ಎ) 2024 (ಬಿ) 2021 (ಸಿ) 2023 (ಡಿ) 2022
34.	Weight of a International M Bag is ? (A). 30 kgs (B). 50 kgs (C). 20 kgs (D). 10 kgs	34.	ಅಂತರರಾಷ್ಟ್ರೀಯ ಎಂ ಬ್ಯಾಗ್‌ನ ತೂಕ ಎಷ್ಟು? (ಎ) 30 ಕೆ.ಜಿ (ಬಿ) 50 ಕೆ.ಜಿ (ಸಿ) 20 ಕೆ.ಜಿ (ಡಿ) 10 ಕೆ.ಜಿ
35.	Dak Ghar Niryat Kendra is a ? (A). Delivery Centre in India (B). Related to Foreign Articles (C). Indian Parcel Centre (D). Parcel Administrative Office	35.	ಡಾಕ್ ಘರ್ ನಿರ್ಯಾತ ಕೇಂದ್ರ ಎಂದರೆ? (ಎ) ಭಾರತದಲ್ಲಿರುವ ಬಟವಾಡೆ ಕೇಂದ್ರ (ಬಿ) ವಿದೇಶಿ ಅಂಚೆ ವಸ್ತುಗಳಿಗೆ ಸಂಬಂಧಿಸಿದೆ (ಸಿ) ಭಾರತೀಯ ಪಾರ್ಸೆಲ್ ಕೇಂದ್ರ (ಡಿ) ಪಾರ್ಸೆಲ್ ಆಡಳಿತ ಕಚೇರಿ
36.	Using the rule of BODMAS, determine the answer of $18/10-4+32/(4+10/2-1)$ (A). 1.2 (B). 1.8 (C). 1.6 (D). 1.4	36.	ಬಾಡ್‌ಮಾಸ್‌ನ ನಿಯಮ ಉಪಯೋಗಿಸಿ $18/10-4+32/(4+10/2-1)$ ರ ಉತ್ತರವನ್ನು ಕಂಡು ಹಿಡಿಯಿರಿ (ಎ) 1.2 (ಬಿ) 1.8 (ಸಿ) 1.6 (ಡಿ) 1.4
37.	The value of a washing machine depreciates at the rate of 10% every year. If its present value is Rs. 8,748, then what was the price of the washing machine three years ago? (A). Rs. 8,748 (B). Rs.9,720 (C). Rs.10,800 (D). Rs.12,000	37.	ವಾಷಿಂಗ್ ಮೆಷಿನ್ ಬೆಲೆಯು ಪ್ರತಿ ವರ್ಷ 10% ದರದಲ್ಲಿ ಕುಸಿಯುತ್ತದೆ. ಅದರ ಪ್ರಸ್ತುತ ಬೆಲೆ ರೂ. 8,748 ಆಗಿದ್ದರೆ ಮೂರು ವರ್ಷಗಳ ಹಿಂದೆ ವಾಷಿಂಗ್ ಮೆಷಿನ್ ಬೆಲೆ ಎಷ್ಟಿತ್ತು? (ಎ) ರೂ.8,748 (ಬಿ). ರೂ.9,720 (ಸಿ) ರೂ.10,800 (ಡಿ). ರೂ.12,000
38.	The MRP of an umbrella decreased by 20%. As a result of which the sale is increased by 40%. What will be the net effect on the total revenue of the shop ?	38.	ಛತ್ರಿಯ MRP 20% ರಷ್ಟು ಕಡಿಮೆಯಾಗಿದೆ. ಇದರ ಪರಿಣಾಮವಾಗಿ ಮಾರಾಟವು 40% ಹೆಚ್ಚಾಗಿದೆ. ಇದರಿಂದ ಅಂಗಡಿಯ ಒಟ್ಟು ಆದಾಯದ ಮೇಲೆ ನಿವ್ವಳ ಪರಿಣಾಮ ಏನಾಗುತ್ತದೆ?

	(A). 12% decrease (C). 20% decrease	(B). 15% increase (D). 12% increase		(ಎ) 12% ಇಳಿಕೆ (ಸಿ) 20% ಇಳಿಕೆ	(ಬಿ). 15ರಷ್ಟು ಹೆಚ್ಚಳವಾಗಿದೆ (ಡಿ). 12ರಷ್ಟು ಹೆಚ್ಚಳವಾಗಿದೆ
39.	A number is decreased by 10% and then increased by 10%. The number so obtained is 10 less than the original number. What was the original number? (A). 2000 (C). 1000	(B). 3000 (D). 4000	39.	ಸಂಖ್ಯೆಯನ್ನು 10% ರಷ್ಟು ಕಡಿಮೆಗೊಳಿಸಲಾಗುತ್ತದೆ ಮತ್ತು ನಂತರ 10% ರಷ್ಟು ಹೆಚ್ಚಿಸಲಾಗುತ್ತದೆ. ಹೀಗೆ ಪಡೆದ ಸಂಖ್ಯೆಯು ಮೂಲ ಸಂಖ್ಯೆಗಿಂತ 10 ಕಡಿಮೆಯಾಗಿದೆ. ಮೂಲ ಸಂಖ್ಯೆ ಯಾವುದು? (ಎ) 2000 (ಬಿ) 3000 (ಸಿ) 1000 (ಡಿ) 4000	
40.	Raju gave 20% to his sister & 20% to his brother of his pocket money and was left with Rs. 600. What is his pocket money (in Rs.) ? (A). Rs.800 (C). Rs.1,200	(B). Rs.1,500 (D). Rs.1,000	40.	ರಾಜು ತನ್ನ ಪಾಕೆಟ್ ಮನಿಯಲ್ಲಿ 20% ತನ್ನ ಸಹೋದರಿಗೆ ಮತ್ತು 20% ತನ್ನ ಸಹೋದರನಿಗೆ ನೀಡಿದರು ಮತ್ತು ರೂ. 600. ಅವನಲ್ಲಿ ಉಳಿಯಿತು. ಹಾಗಿದ್ದರೆ ಆತನ ಬಳಿಯಿದ್ದ ಒಟ್ಟು ರೂ. ಪಾಕೆಟ್ ಮನಿ ಎಷ್ಟು (ರೂ.ಗಳಲ್ಲಿ) ? (ಎ) ರೂ.800 (ಬಿ) ರೂ.1,500 (ಸಿ) ರೂ.1,200 (ಡಿ) ರೂ.1,000	
41.	If the price of petrol has increased from Rs. 40 per litre to Rs. 60 per litre, by how much percentage a person has to decrease his consumption so that his expenditure remains same ? (A). 1/4 (C). 1/5	(B). 1/2 (D). 1/3	41.	ಪೆಟ್ರೋಲ್ ಬೆಲೆ ರೂ.40 ನಿಂದ ರೂ. 60ಕ್ಕೆ ಏರಿಕೆಯಾಗಿದ್ದರೆ ಒಬ್ಬ ವ್ಯಕ್ತಿಯು ಅವನ ಖರ್ಚು ಅಷ್ಟೇ ಮೊತ್ತದಷ್ಟು ಆಗಬೇಕಾದರೆ ತನ್ನ ಬಳಕೆಯನ್ನು ಎಷ್ಟು ಶೇಕಡಾವಾರು ಕಡಿಮೆ ಮಾಡಬೇಕು? (ಎ) 1/4 (ಬಿ). 1/2 (ಸಿ) 1/5 (ಡಿ). 1/3	
42.	By using BODMAS, if "+" means "-", "- " means "x", "x" means "/" and "/" means "+" then $15 \times 3/5 + 5 - 2$ equals ? (A). 2 (B). 0 (C). 1 (D). 5		42.	ಬಾಡ್‌ಮಾಸ್ ಉಪಯೋಗಿಸಿ "+" ಎಂದರೆ "-", "- " ಎಂದರೆ "x", "x" ಎಂದರೆ "/" ಮತ್ತು "/" ಎಂದರೆ "+" ಹಾಗಾದರೆ $15 \times 3/5 + 5 - 2$ ರ ಮೌಲ್ಯ ಎಷ್ಟು? (ಎ) 2 (ಬಿ) 0 (ಸಿ) 1 (ಡಿ) 5	
43.	In a PSO, Set 3A sorted all the pending unusual bulk mails in 20 days. How many days will Set 3B takes to complete the same work if Set 3B is 25% more efficient than Set 3A ? (A). 10 days (B). 12 days (C). 16 days (D). 14 days		43.	PSO ನಲ್ಲಿ, ಸೆಟ್ 3A ಎಲ್ಲಾ ಬಾಕಿ ಉಳಿದಿರುವ ಅನಯೋಪಯುಕ್ತ ಬಲ್ಕ್ ಮೇಲ್ಗಳನ್ನು 20 ದಿನಗಳಲ್ಲಿ ವಿಂಗಡಿಸಿದೆ. 3B ಸೆಟ್ 3A ಗಿಂತ 25% ಹೆಚ್ಚು ಪರಿಣಾಮಕಾರಿಯಾಗಿದ್ದರೆ ಅದೇ ಕೆಲಸವನ್ನು ಪೂರ್ಣಗೊಳಿಸಲು 3B ಎಷ್ಟು ದಿನಗಳನ್ನು ತೆಗೆದುಕೊಳ್ಳುತ್ತದೆ? (ಎ) 10 ದಿನಗಳು (ಬಿ). 12 ದಿನಗಳು (ಸಿ) 16 ದಿನಗಳು (ಡಿ). 14 ದಿನಗಳು	
44.	Ms. Arpitha deposited some amount of money in Post Office at the rate of simple interest of 5.25% per annum. After 2 years, she has got Rs. 840 as Interest. Let us write by calculating, the money she has deposited in her Account : (A). Rs.9,000 (B). Rs.8,500 (C). Rs.8,000 (D). Rs.7,500		44.	ಶ್ರೀಮತಿ ಅರ್ಪಿತಾ ಅವರು ವಾರ್ಷಿಕ 5.25% ರಷ್ಟು ಸರಳ ಬಡ್ಡಿ ದರದಲ್ಲಿ ಅಂಚೆ ಕಚೇರಿಯಲ್ಲಿ ಸ್ವಲ್ಪ ಹಣವನ್ನು ಠೇವಣಿ ಮಾಡಿದರು. 2 ವರ್ಷಗಳ ನಂತರ ಆಕೆಗೆ ರೂ. 840 ಬಡ್ಡಿ ದೊರೆಯಿತು. ಅವಳು ತನ್ನ ಖಾತೆಯಲ್ಲಿ ಠೇವಣಿ ಮಾಡಿದ ಹಣವನ್ನು ಲೆಕ್ಕಹಾಕಿ ಬರೆಯೋಣ: (ಎ) ರೂ. 9,000 (ಬಿ) ರೂ. 8,500 (ಸಿ) ರೂ. 8,000 (ಡಿ) ರೂ. 7,500	

160
160
320
600
420
110
10
160
10
160

45.	While going to office, Ramesh travels at a speed of 30 kmph and on his way back, he travels at a speed of 45 kmph. What is his average speed of the whole journey? (A). 45 kmph (B). 36 kmph (C). 32 kmph (D). 42 kmph	45.	ರಮೇಶ್ ಕಛೇರಿಗೆ ಹೋಗುವಾಗ ಗಂಟೆಗೆ 30 ಕಿ.ಮೀ ವೇಗದಲ್ಲಿ ಮತ್ತು ಕಛೇರಿಯಿಂದ ಹಿಂದಿರುಗುವಾಗ 45 ಕಿ.ಮೀ ವೇಗದಲ್ಲಿ ವಾಹನ ಚಾಲನೆ ಮಾಡುತ್ತಾರೆ. ಇಡೀ ಪ್ರಯಾಣದಲ್ಲಿ ಅವರ ಸರಾಸರಿ ವೇಗ ಎಷ್ಟು? (ಎ) ಗಂಟೆಗೆ 45 ಕಿ.ಮೀ (ಬಿ) ಗಂಟೆಗೆ 36 ಕಿ.ಮೀ (ಸಿ) ಗಂಟೆಗೆ 32 ಕಿ.ಮೀ (ಡಿ) ಗಂಟೆಗೆ 42 ಕಿ.ಮೀ
46.	Rs. 7,000 is borrowed at 3.5% rate of simple interest per annum, borrowed for 2 years. Find the amount to be paid at the end of the second year? (A). Rs.7,590 (B). Rs.7,480 (C). Rs.7,470 (D). Rs.7,490	46.	ರೂ. 7,000 ವರ್ಷಕ್ಕೆ 3.5% ಸರಳ ಬಡ್ಡಿ ದರದಲ್ಲಿ 2 ವರ್ಷಗಳವರೆಗೆ ಎರವಲು ಪಡೆಯಲಾಗುತ್ತದೆ. ಎರಡನೇ ವರ್ಷದ ಅಂತ್ಯದಲ್ಲಿ ಪಾವತಿಸಬೇಕಾದ ಮೊತ್ತವನ್ನು ಕಂಡುಹಿಡಿಯಿರಿ (ಎ) ರೂ.7,590 (ಬಿ) ರೂ.7,480 (ಸಿ) ರೂ.7,470 (ಡಿ) ರೂ.7,490
47.	The price of wheat is reduced by 4%. How many more or less kg of wheat can now be bought for the money which was sufficient to buy 48 kgs of wheat earlier? (A). 1 kg less (B). 1 kg more (C). 2 kgs more (D). 2 kgs less	47.	ಗೋಧಿ ಬೆಲೆ ಶೇ.4ರಷ್ಟು ಇಳಿಕೆಯಾಗಿದೆ. ಈ ಹಿಂದೆ 48 ಕೆಜಿ ಗೋಧಿ ಖರೀದಿಸಲು ಸಾಕಾಗುತ್ತಿದ್ದ ಹಣಕ್ಕೆ ಈಗ ಎಷ್ಟು ಹೆಚ್ಚು ಅಥವಾ ಕಡಿಮೆ ಕೆಜಿ ಗೋಧಿಯನ್ನು ಖರೀದಿಸಬಹುದು? (ಎ) 1 ಕೆಜಿ ಕಡಿಮೆ (ಬಿ) 1 ಕೆಜಿ ಹೆಚ್ಚು (ಸಿ) 2 ಕೆಜಿ ಹೆಚ್ಚು (ಡಿ) 2 ಕೆಜಿ ಕಡಿಮೆ
48.	A bus for Delhi leaves every 30 minutes from a bus stand. An enquiry clerk told a passenger that the bus had already left 10 minutes ago and the next bus will leave at 9.35 am. At what time did the enquiry clerk give this information to the passenger? (A). 9:05 am (B). 9:15 am (C). 8:55 am (D). 9:25 am	48.	ದೆಹಲಿಗೆ ಬಸ್ ನಿಲ್ದಾಣದಿಂದ ಪ್ರತಿ 30 ನಿಮಿಷಕ್ಕೆ ಒಂದು ಬಸ್ ಹೊರಡುತ್ತದೆ. 10 ನಿಮಿಷಗಳ ಹಿಂದೆಯೇ ಬಸ್ ಹೊರಟಿದ್ದು, ಮುಂದಿನ ಬಸ್ ಬೆಳಿಗ್ಗೆ 9.35ಕ್ಕೆ ಹೊರಡಲಿದೆ ಎಂದು ವಿಚಾರಣಾ ಗುಮಾಸ್ತ ಪ್ರಯಾಣಿಕರೊಬ್ಬರಿಗೆ ತಿಳಿಸಿದರು. ವಿಚಾರಣಾ ಗುಮಾಸ್ತರು ಯಾವ ಸಮಯದಲ್ಲಿ ಪ್ರಯಾಣಿಕರಿಗೆ ಈ ಮಾಹಿತಿಯನ್ನು ನೀಡಿದರು? (ಎ) ಬೆಳಿಗ್ಗೆ 9:05 (ಬಿ) ಬೆಳಿಗ್ಗೆ 9:15 (ಸಿ) ಬೆಳಿಗ್ಗೆ 8:55 (ಡಿ) ಬೆಳಿಗ್ಗೆ 9:25
49.	A thief is noticed by a policeman from a distance of 200 meter. The thief starts running and the policeman chases him. The thief and the policeman run at the rate of 10 km per hour and 11 km per hour respectively. What is the distance between them after 6 minutes? (A). 100 meter (B). 150 meter (C). 190 meter (D). 200 meter	49.	ಒಬ್ಬ ಕಳ್ಳನನ್ನು 200 ಮೀಟರ್ ದೂರದಿಂದ ಪೊಲೀಸರು ಗಮನಿಸುತ್ತಾರೆ. ಕಳ್ಳ ಓಡಲು ಪ್ರಾರಂಭಿಸುತ್ತಾನೆ ಮತ್ತು ಪೊಲೀಸ್ ಅವನನ್ನು ಬೆನ್ನಟ್ಟುತ್ತಾನೆ. ಕಳ್ಳ ಮತ್ತು ಪೊಲೀಸರು ಕ್ರಮವಾಗಿ ಗಂಟೆಗೆ 10 ಕಿಮೀ ಮತ್ತು ಗಂಟೆಗೆ 11 ಕಿಮೀ ವೇಗದಲ್ಲಿ ಓಡುತ್ತಾರೆ. 6 ನಿಮಿಷಗಳ ನಂತರ ಅವರ ನಡುವಿನ ಅಂತರ ಎಷ್ಟು? (ಎ) 100 ಮೀಟರ್ (ಬಿ) 150 ಮೀಟರ್ (ಸಿ) 190 ಮೀಟರ್ (ಡಿ) 200 ಮೀಟರ್
50.	A pack of 120 soaps is Rs. 540. Find the cost of 12 soaps? (A). 54 (B). 56 (C). 50 (D). 52	50.	120 ಸಾಬೂನುಗಳ ಪ್ಯಾಕ್ ರೂ. 540. 12 ಸಾಬೂನುಗಳ ಬೆಲೆಯನ್ನು ಕಂಡುಹಿಡಿಯಿರಿ? (ಎ) 54 (ಬಿ) 56 (ಸಿ) 50 (ಡಿ) 52
51.	Anil, Bhavana and Chandru divided a total of 900 stamps among themselves in the ratio of 6 : 5 : 4, respectively. Then the differences between the number of stamps of Anil and Bhavana is: (A). 55 (B). 60 (C). 45 (D). 40	51.	ಅನಿಲ್, ಭಾವನಾ ಮತ್ತು ಚಂದ್ರು ಅವರು ಕ್ರಮವಾಗಿ 6 : 5 : 4 ರ ಅನುಪಾತದಲ್ಲಿ ಒಟ್ಟು 900 ಅಂಚೆಚೀಟಿಗಳನ್ನು ತಮ್ಮ ನಡುವೆ ಹಂಚಿಕೊಂಡಿದ್ದಾರೆ. ಹಾಗಾದಲ್ಲಿ ಅನಿಲ್ ಮತ್ತು ಭಾವನಾ ಅವರು ಹೊಂದಿರುವ ಅಂಚೆಚೀಟಿಗಳ ಸಂಖ್ಯೆಯ ನಡುವಿನ ವ್ಯತ್ಯಾಸವೆಷ್ಟು? (ಎ) 55 (ಬಿ) 60 (ಸಿ) 45 (ಡಿ) 40

A B C
6 : 5 : 4

A, B, C

1.30
1.45
2.5
3.5
4.5
4.92
4.55
4
9.5
9.10
4.15
Kalu - 200
10 - 200
240
540
120
45
4.5
a

52. The price list of vegetables in a market is given as follows :

Sl.	Item	Quantity	Price Rs.
01.	Potato	2 kgs	60
02.	Onion	1 kg	35
03.	Tomato	1 kg	40
04.	Chillies	50 gms	10
05.	Carrot	250 gms	25
06.	Lemon	2 pieces	10

Raju buys 1 kg Potatoes, 1/2 kg Onion, 1/2 kg Tomatoes, 250 gms Carrot, 100 gms Chillies and 4 Lemons. He gives a currency note of Rs. 500 to the shopkeeper. How much money will he get back ?

- (A). Rs.231.50 (B). Rs.367.50
(C). Rs.132.50 (D). Rs.376.50

53. One Divisional Head distributed the PLI Commission of Rs. 1,62,000 among one Inspector, 3 Postman and one SPM in such a way that the Inspector gets double of what the SPM gets and the SPM gets double of what each of the Postman get. How much PLI Commission will the SPM get?

- (A). Rs.38,000 (B). Rs.36,000
(C). Rs.32,000 (D). Rs.30,000

54. The population of a town increases at the rate of 3.7% each year. It is 31,110 now. What was it last year?

- (A). 31,000 (B). 29,000
(C). 30,270 (D). 30,000

55. One person went to Shoe store for purchase of shoes. Because of different size of both foot, he is asking to the store keeper, only one pair is required but actually how many pairs required to be sold to him by the storekeeper?

- (A). One (B). Two (C). Half (D). Three

56. In India, all Banks branches are having dedicated IFSC Code for transacting NEFT & RTGS transactions, whereas in DoP ?

- (A). All Post Offices having dedicated IFSC

52. ಮಾರುಕಟ್ಟೆಯಲ್ಲಿ ತರಕಾರಿಗಳ ಬೆಲೆ ಪಟ್ಟಿಯನ್ನು ಈ ಕೆಳಗಿನಂತೆ ನೀಡಲಾಗಿದೆ:

Sl.	ವಸ್ತು	ಪ್ರಮಾಣ	ಬೆಲೆ ರೂ.
01.	ಆಲೂಗಡ್ಡೆ	2 ಕೆಜಿ	60
02.	ಈರುಳ್ಳಿ	1 ಕೆಜಿ	35
03.	ಟೊಮ್ಯಾಟೊ	1 ಕೆಜಿ	40
04.	ಮೆಣಸಿನಕಾಯಿ	50 ಗ್ರಾಂ	10
05.	ಕ್ಯಾರಟ್	250 ಗ್ರಾಂ	25
06.	ನಿಂಬೆ	2 ತುಂಡುಗಳು	10

ರಾಜು ಅವರು 1 ಕೆಜಿ ಆಲೂಗಡ್ಡೆ, 1/2 ಕೆಜಿ ಈರುಳ್ಳಿ, 1/2 ಕೆಜಿ ಟೊಮ್ಯಾಟೊ, 250 ಗ್ರಾಂ ಕ್ಯಾರಟ್, 100 ಗ್ರಾಂ ಮೆಣಸಿನಕಾಯಿ ಮತ್ತು 4 ನಿಂಬೆಹಣ್ಣುಗಳನ್ನು ಖರೀದಿಸುತ್ತಾರೆ. ಆತ 500 ರೂ.ನ ನೋಟು ನೀಡುತ್ತಾನೆ. ಅಂಗಡಿಯವರು ಎಷ್ಟು ಹಣವನ್ನು ಹಿಂದಿರುಗಿಸುತ್ತಾರೆ?

- (ಎ) ರೂ.231.50 (ಬಿ). ರೂ.367.50
(ಸಿ) ರೂ.132.50 (ಡಿ). ರೂ.376.50

53. ಒಬ್ಬ ಅಂಚೆ ಅಧೀಕ್ಷಕರು ರೂ. 1,62,000 ರಷ್ಟು ಪಿಎಲ್‌ಐ ಕಮಿಷನ್ ಒಬ್ಬ ಇನ್ಸ್‌ಪೆಕ್ಟರ್, ಪ್ರೋಸ್ಟ್ರೋಮ್ಯಾನ್ ಮತ್ತು ಒಬ್ಬರು ಎಸ್ ಪಿ ಎಂ ಗಳಿಗೆ ಹಂಚುತ್ತಾರೆ. ಆಗ ಇನ್‌ಸ್ಟ್ರಕ್ಟರ್ ಎಸ್‌ಪಿಎಂ ಪಡೆಯುವುದಕ್ಕಿಂತ ದುಪ್ಪಟ್ಟು ಮತ್ತು ಎಸ್‌ಪಿಎಂ ಪ್ರತಿಯೊಬ್ಬ ಪ್ರೋಸ್ಟ್ರೋಮ್ಯಾನ್ ಪಡೆಯುವುದಕ್ಕಿಂತ ದುಪ್ಪಟ್ಟು ಪಡೆಯುತ್ತಾನೆ. ಎಸ್ ಪಿ ಎಂ ಎಷ್ಟು ಪಿ ಎಲ್ ಐ ಕಮಿಷನ್ ಪಡೆಯುತ್ತಾನೆ?

- (ಎ) ರೂ.38,000 (ಬಿ). ರೂ.36,000
(ಸಿ) ರೂ.32,000 (ಡಿ). ರೂ.30,000

54. ಒಂದು ಪಟ್ಟಣದ ಜನಸಂಖ್ಯೆಯು ಪ್ರತಿ ವರ್ಷ 3.7% ದರದಲ್ಲಿ ಹೆಚ್ಚಾಗುತ್ತದೆ. ಈಗ 31,110 ಆಗಿದೆ. ಕಳೆದ ವರ್ಷ ಎಷ್ಟಿತ್ತು?

- (ಎ) 31,000 (ಬಿ) 29,000
(ಸಿ) 30,270 (ಡಿ) 30,000

55. ಒಬ್ಬ ವ್ಯಕ್ತಿ ಶೂ ಖರೀದಿಗಾಗಿ ಶೂ ಅಂಗಡಿಗೆ ಹೋಗಿದ್ದರು. ಎರಡೂ ಪಾದಗಳ ವಿಭಿನ್ನ ಗಾತ್ರದ ಕಾರಣ, ಅವರು ಕೇವಲ ಒಂದು ಜೋಡಿ ಅಗತ್ಯವಿದೆ ಎಂದು ಅಂಗಡಿಯವರಿಗೆ ಕೇಳುತ್ತಿದ್ದಾರೆ. ಹಾಗಾದರೆ ಅವರಿಗೆ ಮಾರಾಟ ಮಾಡಲು ಅಂಗಡಿಯವರಿಗೆ ಎಷ್ಟು ಜೋಡಿ ಶೂಗಳು ಬೇಕಾಗುತ್ತವೆ?

- (ಎ) ಒಂದು (ಬಿ). ಎರಡು
(ಸಿ) ಅರ್ಧ (ಡಿ). ಮೂರು

56. ಭಾರತದಲ್ಲಿ, ಎಲ್ಲಾ ಬ್ಯಾಂಕ್‌ಗಳ ಶಾಖೆಗಳು NEFT ಮತ್ತು RTGS ವಹಿವಾಟುಗಳನ್ನು ನಡೆಸಲು ಮೀಸಲಾದ IFSC ಕೋಡ್ ಅನ್ನು ಹೊಂದಿವೆ, ಆದರೆ DoP ನಲ್ಲಿ?

- (ಎ) ಎಲ್ಲಾ ಅಂಚೆ ಕಛೇರಿಗಳಿಗೆ ಪ್ರತ್ಯೇಕವಾದ IFSC ಗಳಿವೆ

(C). Identified Post Offices having IFSC
(D). All Head Post Offices having IFSC

(ಬಿ) ಕೇವಲ ಒಂದು IFSC
(ಸಿ) IFSC ಹೊಂದಿರುವ ಗುರುತಿಸಲಾದ ಅಂಚೆ ಕಛೇರಿಗಳು
(ಡಿ) IFSC ಹೊಂದಿರುವ ಎಲ್ಲಾ ಪ್ರಧಾನ ಅಂಚೆ ಕಛೇರಿಗಳು

57. For generating RPLI Quote in Customer Portal, the following data are essential ?
(i). Mobile Number (ii). Name
(iii). Pincode (iv). Date of Birth
(v). Product Type (vi). Gender
(vii). Product Name (viii). State
(ix). Sum Assured (x). Occupation
(A). All the above except (vii)
(B). All the above except (vi)
(C). All the above except (x)
(D). All the above except (ii)

57. ಗ್ರಾಹಕ ಪ್ರೋಟೀಫಲ್‌ನಲ್ಲಿ ಆರ್‌ಪಿಎಲ್‌ಐ ಕೋಟನ್ನು ಜನರೇಟ್ ಮಾಡಲು, ಈ ಕೆಳಗಿನ ಯಾವ ಡೇಟಾ ಅತ್ಯಗತ್ಯ?
(i) ಮೊಬೈಲ್ ಸಂಖ್ಯೆ (ii) ಹೆಸರು
(iii) ಪಿನ್‌ಕೋಡ್ (iv) ಹುಟ್ಟಿದ ದಿನ
(v) ಉತ್ಪನ್ನ ಪ್ರಕಾರ (vi) ಲಿಂಗ
(vii) ಉತ್ಪನ್ನದ ಹೆಸರು (viii) ರಾಜ್ಯ
(ix) ವಿಮಾ ಮೊತ್ತ (x) ಉದ್ಯೋಗ
(ಎ) (vii) ಹೊರತುಪಡಿಸಿ ಮೇಲಿನ ಎಲ್ಲಾ ಮಾಹಿತಿ ಬೇಕು
(ಬಿ) (vi) ಹೊರತುಪಡಿಸಿ ಮೇಲಿನ ಎಲ್ಲಾ ಮಾಹಿತಿ ಬೇಕು
(ಸಿ) (x) ಹೊರತುಪಡಿಸಿ ಮೇಲಿನ ಎಲ್ಲಾ ಮಾಹಿತಿ ಬೇಕು
(ಡಿ) (ii) ಹೊರತುಪಡಿಸಿ ಮೇಲಿನ ಎಲ್ಲಾ ಮಾಹಿತಿ ಬೇಕು

58. The following terminologies & activities in NPS (All Citizens Model) :

58. NPS ನಲ್ಲಿ ಕೆಳಗಿನ ಪರಿಭಾಷೆಗಳು ಮತ್ತು ಚಟುವಟಿಕೆಗಳು (ಎಲ್ಲಾ ನಾಗರಿಕರ ಮಾದರಿ):

a. Tier I	i. Rs. 500
b. Tier II	ii. 18 – 70 years
c. Initial Contribution for Tier I	iii. Savings Account
d. Minimum & Maximum Age	iv. Pension Account

ಎ. ಶ್ರೇಣಿ I	i. ರೂ. 500
ಬಿ. ಶ್ರೇಣಿ II	ii. 18-70 ವರ್ಷಗಳು
ಸಿ. ಶ್ರೇಣಿ I ಗಾಗಿ ಆರಂಭಿಕ ಪಾವತಿ ಮೊತ್ತ	iii. ಉಳಿತಾಯ ಖಾತೆ
ಡಿ. ಕನಿಷ್ಠ ಮತ್ತು ಗರಿಷ್ಠ ವಯಸ್ಸು	iv. ಪಿಂಚಣಿ ಖಾತೆ

(A). a, iii & b, iv & c, ii & d, i
(B). a, iii & b, iv & c, i & d, ii
(C). a, iv & b, iii & c, i & d, ii
(D). a, iv & b, iii & c, ii & d, i

(ಎ) a, iii & b, iv & c, ii & d, i
(ಬಿ) a, iii & b, iv & c, i & d, ii
(ಸಿ) a, iv & b, iii & c, i & d, ii
(ಡಿ) a, iv & b, iii & c, ii & d, i

59. What is the abbreviation of PFRDA ?

59. PFRDA ಯ ಪೂರ್ಣ ರೂಪ ಏನು?

(A). Pension Funds Repository and Development Authority
(B). Pension Fund Repository and Development Authority
(C). Pension Fund Regulatory and Development Authority
(D). Pension Funds Regulatory and Development Authority

(ಎ) ಪೆನ್ಷನ್ ಫಂಡ್ಸ್ ರಿಪಾಸಿಟರಿ ಅಂಡ್ ಡೆವಲಪ್‌ಮೆಂಟ್ ಅಥಾರಿಟಿ
(ಬಿ) ಪೆನ್ಷನ್ ಫಂಡ್ ರಿಪಾಸಿಟರಿ ಅಂಡ್ ಡೆವಲಪ್‌ಮೆಂಟ್ ಅಥಾರಿಟಿ
(ಸಿ) ಪೆನ್ಷನ್ ಫಂಡ್ ರೆಗ್ಯುಲೇಟರಿ ಅಂಡ್ ಡೆವಲಪ್‌ಮೆಂಟ್ ಅಥಾರಿಟಿ
(ಡಿ) ಪೆನ್ಷನ್ ಫಂಡ್ಸ್ ರೆಗ್ಯುಲೇಟರಿ ಅಂಡ್ ಡೆವಲಪ್‌ಮೆಂಟ್ ಅಥಾರಿಟಿ

60. 'My Stamp' was first introduced in India during the World Philatelic Exhibition in?
(A). 'INDIPEX-2012' (B). 'INDIPEX-2011'
(C). 'INDIPEX-2013' (D). 'INDIPEX-2010'

60. 'ಮೈ ಸ್ಟಾಂಪ್' ಅನ್ನು ಮೊದಲು ಭಾರತದಲ್ಲಿ ಈ ವಿಶ್ವ ಅಂಚೆಚೀಟಿಗಳ ಸಂಗ್ರಹದ ಪ್ರದರ್ಶನದ ಸಮಯದಲ್ಲಿ ಪರಿಚಯಿಸಲಾಯಿತು?
(ಎ) 'ಇಂಡಿಪೆಕ್ಸ್-2012' (ಬಿ) 'ಇಂಡಿಪೆಕ್ಸ್-2011'
(ಸಿ) 'ಇಂಡಿಪೆಕ್ಸ್-2013' (ಡಿ) 'ಇಂಡಿಪೆಕ್ಸ್-2010'

61.	Army Postal Service is established during the year ? (A). 1856 (B). 1857 (C). 1917 (D) 1949	61.	ಆರ್ಮಿ ಪೋಸ್ಟಲ್ ಸರ್ವೀಸ್‌ನ್ನು ವರ್ಷದಲ್ಲಿ ಸ್ಥಾಪಿಸಲಾಗಿದೆ? (ಎ) 1856 (ಬಿ) 1857 (ಸಿ) 1917 (ಡಿ) 1949
62.	Maximum weight of Inland Letter Card ? (A). 10 grams (B). 20 grams (C). 3 grams (D). 5 grams	62.	ಇನ್‌ಲ್ಯಾಂಡ್ ಲೆಟರ್ ಕಾರ್ಡ್‌ನ ಗರಿಷ್ಠ ತೂಕ? (ಎ) 10 ಗ್ರಾಂ (ಬಿ) 20 ಗ್ರಾಂ (ಸಿ) 3 ಗ್ರಾಂ (ಡಿ) 5 ಗ್ರಾಂ
63.	Meghdoot Post Card is available in _____ varieties. (A). One (B). Two (C). Three (D). Four	63.	ಮೇಘದೂತ್ ಪೋಸ್ಟ್ ಕಾರ್ಡ್ _____ ವಿಧಗಳಲ್ಲಿ ಲಭ್ಯವಿದೆ. (ಎ) ಒಂದು (ಬಿ) ಎರಡು (ಸಿ) ಮೂರು (ಡಿ) ನಾಲ್ಕು
64.	What is the Postage, Registration and Acknowledgement charges for Blind Literature Packets? (A). Only registration charge required (B). Fixed at Rs.1 per Kg (C). For a weight not exceeding 500 gms - Rs.19.00 (D). None of the above	64.	ಬ್ಲೈಂಡ್ ಲಿಟರೇಚರ್ ಪ್ಯಾಕೆಟ್‌ಗಳಿಗೆ ಅಂಚೆ, ನೋಂದಣಿ ಮತ್ತು ಸ್ವೀಕೃತಿ ಶುಲ್ಕಗಳು ಎಷ್ಟು? (ಎ) ನೋಂದಣಿ ಶುಲ್ಕ ಮಾತ್ರ ಅಗತ್ಯವಿದೆ (ಬಿ) ಪ್ರತಿ ಕೆ.ಜಿ.ಗೆ ರೂ.1 ನಿಗದಿಪಡಿಸಲಾಗಿದೆ (ಸಿ) 500 ಗ್ರಾಂ ಮೀರದ ತೂಕಕ್ಕೆ - ರೂ.19.00 (ಡಿ) ಮೇಲಿನ ಯಾವುದೂ ಅಲ್ಲ
65.	How many digits in MTCN in WUMT ? (A). 11 (B). 10 (C). 16 (D). 12	65.	WUMT ನಲ್ಲಿ MTCN ನಲ್ಲಿ ಎಷ್ಟು ಅಂಕಿಗಳು? (ಎ) 11 (ಬಿ) 10 (ಸಿ) 16 (ಡಿ) 12
66.	Cash Office means ; (A). it is a Sub Office (B). Supplies & receives Cash to & from other SOs (C). Serves as a depot of Cash in addition to the ordinary works of a SO (D). All the above	66.	ಕ್ಯಾಶ್ ಆಫೀಸ್ ಎಂದರೆ; (ಎ) ಇದು ಉಪ ಅಂಚೆ ಕಛೇರಿ (ಬಿ) ಇತರ ಉಪ ಅಂಚೆ ಕಛೇರಿಗಳಿಗೆ ಹಣವನ್ನು ಪೂರೈಸುತ್ತದೆ ಮತ್ತು ಅವರಿಂದ ಹಣವನ್ನು ಸ್ವೀಕರಿಸುತ್ತದೆ (ಸಿ) ಉಪ ಅಂಚೆ ಕಛೇರಿಯ ಸಾಮಾನ್ಯ ವಹಿವಾಟುಗಳ ಜೊತೆಗೆ ಹಣದ ಡಿಪೋ ಆಗಿ ಕಾರ್ಯನಿರ್ವಹಿಸುತ್ತದೆ (ಡಿ) ಮೇಲಿನ ಎಲ್ಲಾ
67.	As per GSPR-2018 under Schedule II issued during 2020, the fee for issue of statement of account is ? (A). Rs.50 (B). Free (C). Rs.20 (D). Rs.10	67.	2020 ರಲ್ಲಿ ಜಾರಿಯಾದ ಷೆಡ್ಯೂಲ್ - II ರ GSPR-2018 ರ ಪ್ರಕಾರ, ಖಾತೆಯ ಸ್ಟೇಟ್‌ಮೆಂಟ್ ವಿತರಣೆಯ ಶುಲ್ಕ ಎಷ್ಟು ? (ಎ) ರೂ. 50 (ಬಿ) ಉಚಿತ (ಸಿ) ರೂ. 20 (ಡಿ) ರೂ. 10
68.	PPF scheme is extended to Single Handed Sub Post Offices with effect from? (A). 2020 (B). 2021 (C) 1999 (D) 2022	68.	PPF ಯೋಜನೆಯನ್ನು ಸಿಂಗಲ್ ಹ್ಯಾಂಡೆಡ್ ಉಪ ಅಂಚೆ ಕಛೇರಿಗಳಿಗೆ ಯಾವ ದಿನಾಂಕದಿಂದ ಜಾರಿಗೆ ತರಲಾಗಿದೆ? (ಎ) 2020 (ಬಿ) 2021 (ಸಿ) 1999 (ಡಿ) 2022
69.	The new Post Office Act which is recently passed in Parliament related to ? (A). Powers to intercept postal articles (B). Exclusive privileges of the Central	69.	ಸಂಸತ್ತಿನಲ್ಲಿ ಇತ್ತೀಚೆಗೆ ಅಂಗೀಕರಿಸಲ್ಪಟ್ಟ ಹೊಸ ಅಂಚೆ ಕಛೇರಿ ಕಾಯಿದೆಗೆ ಸಂಬಂಧಿಸಿದೆ? (ಎ) ಅಂಚೆ ಲೇಖನಗಳನ್ನು ತಡೆಯುವ ಅಧಿಕಾರ

Government

(C). Exemptions from liability

(D). All the above

Transit bags means ?

- (A). Several bags intended for other offices received loose at the office
(B). Bags to be kept in deposit at the office
(C). Several bags intended to be dealt with the office enclosed in a bag addressed to the office
(D). None of the above

(ಆ) ಕೇಂದ್ರ ಸರ್ಕಾರದ ವಿಶೇಷ ಸವಲತ್ತುಗಳು
(ಸಿ) ಹೊಣೆಗಾರಿಕೆಯಿಂದ ವಿನಾಯಿತಿಗಳು
(ಡಿ) ಮೇಲಿನ ಎಲ್ಲಾ

70.

ಟ್ರಾನ್ಸಿಟ್ ಬ್ಯಾಗ್ ಎಂದರೆ?
(ಎ) ಇತರ ಕಛೇರಿಗಳಿಗೆ ಸಂಬಂಧಿಸಿದ್ದು ಬಿಡಿ ಬಿಡಿಯಾಗಿ ಕಛೇರಿಗೆ ಬಂದ ಹಲವಾರು ಚೀಲಗಳು
(ಬಿ) ಕಛೇರಿಯಲ್ಲಿ ಡಿಪಾಸಿಟ್‌ನಲ್ಲಿ ಇಡಬೇಕಾಗಿರುವ ಅಂಚೆ ಚೀಲಗಳು
(ಸಿ) ಒಂದೇ ಕಛೇರಿಗೆ ಸಂಬಂಧಿಸಿದ್ದು ಒಂದೇ ಚೀಲದಲ್ಲಿರುವ ಹಲವಾರು ಅಂಚೆ ಚೀಲಗಳು
(ಡಿ) ಮೇಲಿನ ಯಾವುದೂ ಅಲ್ಲ

71. There is 98 feet pole. One Monkey is jumping 10 feet & slides down to 2 feet. How many jumps are required to touch top of the pole ?

- (A). 11 (B). 12
(C). 13 (D). 10

71.

98 ಅಡಿ ಕಂಬವಿದೆ. ಒಂದು ಮಂಗ 10 ಅಡಿ ಜಿಗಿಯುತ್ತಿದೆ ಮತ್ತು 2 ಅಡಿ ಕೆಳಗೆ ಜಾರುತ್ತಿದೆ. ಕಂಬದ ಮೇಲ್ಭಾಗವನ್ನು ಸ್ಪರ್ಶಿಸಲು ಎಷ್ಟು ಜಿಗಿತಗಳು ಅಗತ್ಯವಿದೆ?
(ಎ) 11 (ಬಿ) 12 (ಸಿ) 13 (ಡಿ) 10

72. Four of the following five are alike in a certain way and so form one group. Which is the one that does not belong to that group?

- Marigold, Rose, Lily, Jasmine, Dahlia
(A). Rose (B). Lotus
(C). Lily (D). Dahlia

72.

ಕೆಳಗಿನ ಐದರಲ್ಲಿ ನಾಲ್ಕು ಒಂದು ನಿರ್ದಿಷ್ಟ ರೀತಿಯಲ್ಲಿ ಸಮಾನವಾಗಿವೆ ಮತ್ತು ಆದ್ದರಿಂದ ಒಂದು ಗುಂಪಿಗೆ ಸೇರುತ್ತವೆ. ಆ ಗುಂಪಿಗೆ ಸೇರದ ಯಾವುದು?
ಮಾರಿಗೋಲ್ಡ್, ಗುಲಾಬಿ, ಲಿಲಿ, ಜಾಸ್ಮಿನ್, - ಡೇಲಿಯಾ
(ಎ) ಗುಲಾಬಿ (ಬಿ) ಕಮಲ
(ಸಿ) ಲಿಲಿ (ಡಿ) ಡೇಲಿಯಾ

73. Four of the following five numbers are alike in a certain way and so form a group. Which is the one that does not belong to the group?

- 63, 124, 343, 215, 511
(A). 63 (B). 124
(C). 343 (D). 215

73.

ಕೆಳಗಿನ ಐದು ಸಂಖ್ಯೆಗಳಲ್ಲಿ ನಾಲ್ಕು ನಿರ್ದಿಷ್ಟ ರೀತಿಯಲ್ಲಿ ಒಂದೇ ಆಗಿರುತ್ತವೆ ಮತ್ತು ಆದ್ದರಿಂದ ಒಂದು ಗುಂಪಿಗೆ ಸೇರುತ್ತವೆ. ಗುಂಪಿಗೆ ಸೇರದಿರುವುದು ಯಾವುದು?
63, 124, 343, 215, 511
(ಎ) 63 (ಬಿ) 124 (ಸಿ) 343 (ಡಿ) 215

74. If North is changed to South West and East to North West and so on, then what will come in place of South-West?

- (A). North - East (B). East
(C). South - East (D). West

74.

ಉತ್ತರವನ್ನು ನೈಋತ್ಯಕ್ಕೆ ಮತ್ತು ಪೂರ್ವವನ್ನು ವಾಯುವ್ಯಕ್ಕೆ ಹೀಗೆ ಬದಲಾಯಿಸಿದರೆ, ನಂತರ ನೈಋತ್ಯದ ಸ್ಥಾನದಲ್ಲಿ ಏನು ಬರುತ್ತದೆ?
(ಎ) ಈಶಾನ್ಯ (ಬಿ) ಪೂರ್ವ
(ಸಿ) ವಾಯುವ್ಯ (ಡಿ) ಪಶ್ಚಿಮ

75. In a certain code 'HANGER' is written as 'ICQKJX' then which word would be written as 'LETTER' ?

- (A). KCQPZL (B). KCPQZL
(C). KDQPZL (D). KCQQCL

75.

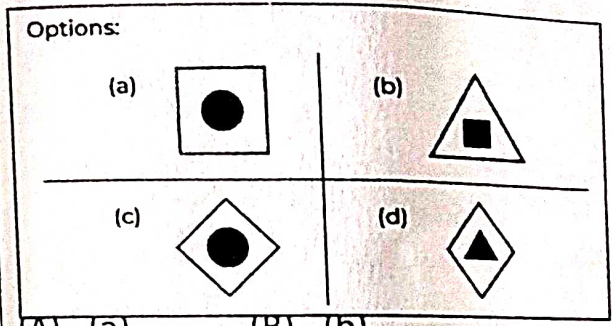

ಒಂದು ಸಂಕೇತದ ಪ್ರಕಾರ 'HANGER' ಪದವನ್ನು 'ICQKJX' ಎಂದು ಬರೆದರೆ ಯಾವ ಪದವನ್ನು 'LETTER' ಎಂದು ಬರೆಯಲಾಗುವುದು?
(ಎ) KCQPZL (ಬಿ) KCPQZL
(ಸಿ) KDQPZL (ಡಿ) KCQQCL

76.	If the code for 'LOVE' is '3695' and for 'CARE' is '1875', then which word would be coded as '16783' ? (A). COVAL (B). COVER (C). CORAL (D). COYAL	76.	ಒಂದು ಸಂಕೇತದಲ್ಲಿ 'LOVE' ಪದವು '3695' ಆದರೆ ಹಾಗೂ 'CARE' ಪದವು '1875' ಆದರೆ, ಯಾವ ಪದವನ್ನು '16783' ಎಂದು ಬರೆಯಲಾಗುವುದು ? (ಎ). COVAL (ಬಿ). COVER (ಸಿ). CORAL (ಡಿ). COYAL
77.	The average weight of a group of seven Postman is 56 kgs. The individual weights (in kg) of six of them are 52, 57, 55, 60, 59 and 55. Find the weight of the seventh Postman. (A). 52 kgs (B). 54 kgs (C). 53 kgs (D). 56 kgs	77.	ಏಳು ಪೋಸ್ಟಮನ್‌ಗಳ ಗುಂಪಿನ ಸರಾಸರಿ ತೂಕ 56 ಕೆ.ಜಿ. ಅವರುಗಳಲ್ಲಿ ಆರು ವೈಯಕ್ತಿಕ ತೂಕಗಳು (ಕೆ.ಜಿಯಲ್ಲಿ) 52, 57, 55, 60, 59 ಮತ್ತು 55. ಏಳನೇ ಪೋಸ್ಟಮನ್‌ನ ತೂಕವನ್ನು ಕಂಡುಹಿಡಿಯಿರಿ. (ಎ) 52 ಕೆ.ಜಿ (ಬಿ) 54 ಕೆ.ಜಿ (ಸಿ) 53 ಕೆ.ಜಿ (ಡಿ). 56 ಕೆ.ಜಿ
78.	At 0800 hrs, Sonu and Ravi were sitting in a lawn with their back towards each other. Sonu's shadow fell exactly towards her left-hand side. Which direction was Ravi facing? (A). East (B). West (C). North (D). South	78.	0800 ಗಂಟೆಗೆ, ಸೋನು ಮತ್ತು ರವಿ ಲಾನ್‌ನಲ್ಲಿ ಪರಸ್ಪರ ಬೆನ್ನು ಹಾಕಿ ಕುಳಿತಿದ್ದರು. ಸೋನುವಿನ ನೆರಳು ನಿಖರವಾಗಿ ಅವಳ ಎಡಭಾಗದ ಕಡೆಗೆ ಬಿದ್ದಿತು. ರವಿ ಯಾವ ದಿಕ್ಕಿಗೆ ಮುಖ ಮಾಡಿದ್ದರು? (ಎ) ಪೂರ್ವ (ಬಿ). ಪಶ್ಚಿಮ (ಸಿ) ಉತ್ತರ (ಡಿ). ದಕ್ಷಿಣ
79.	A Postman holds a Bicycle and leaves the Post Office to deliver the letters. He travels 2 kms to East direction and then 1 km to his right. He then travels 1/2 km to East and then 1/2 km to his right. He again travels 1/2 km to West and then 1 km to his left. He finally travels 2 kms to West. How far is he from the Post Office and in which direction from Post Office ? (A). 2 kms - East (B). 2 kms - West (C). 2 1/2 kms - North (D). 2 1/2 kms - South	79.	ಪೋಸ್ಟಮನ್ ಒಬ್ಬರು ಬೈಸಿಕಲ್ ಅನ್ನು ಹಿಡಿದುಕೊಂಡು ಪತ್ರಗಳನ್ನು ತಲುಪಿಸಲು ಅಂಚೆ ಕಛೇರಿಯಿಂದ ಹೊರಡುತ್ತಾರೆ. ಅವನು ಪೂರ್ವ ದಿಕ್ಕಿಗೆ 2 ಕಿಮೀ ಮತ್ತು ನಂತರ ಅವರ ಬಲಕ್ಕೆ 1 ಕಿಮೀ ಪ್ರಯಾಣಿಸುತ್ತಾರೆ. ನಂತರ ಅವರ ಪೂರ್ವಕ್ಕೆ 1/2 ಕಿಮೀ ಮತ್ತು ನಂತರ ತನ್ನ ಬಲಕ್ಕೆ 1/2 ಕಿಮೀ ಪ್ರಯಾಣಿಸುತ್ತಾರೆ. ಅವರು ಮತ್ತೆ ಪಶ್ಚಿಮಕ್ಕೆ 1/2 ಕಿಮೀ ಮತ್ತು ನಂತರ ಅವರ ಎಡಕ್ಕೆ 1 ಕಿಮೀ ಪ್ರಯಾಣಿಸುತ್ತಾರೆ. ಅವರು ಅಂತಿಮವಾಗಿ ಪಶ್ಚಿಮಕ್ಕೆ 2 ಕಿಮೀ ಪ್ರಯಾಣಿಸುತ್ತಾರೆ. ಅವರು ಅಂಚೆ ಕಛೇರಿಯಿಂದ ಎಷ್ಟು ದೂರದಲ್ಲಿದ್ದಾರೆ ಮತ್ತು ಅಂಚೆ ಕಛೇರಿಯಿಂದ ಯಾವ ದಿಕ್ಕಿನಲ್ಲಿರುತ್ತಾರೆ? (ಎ) 2 ಕಿಮೀ - ಪೂರ್ವ (ಬಿ) 2 ಕಿಮೀ - ಪಶ್ಚಿಮ (ಸಿ) 2 1/2 ಕಿಮೀ - ಉತ್ತರ (ಡಿ) 2 1/2 ಕಿಮೀ - ದಕ್ಷಿಣ
80.	In a row of persons, the position of Aparna from the left side of the row is 27th and there are 5 persons after her in the row. Find the total no. of persons in the row? (A). 34 (B). 28 (C). 36 (D). 32	80.	ವ್ಯಕ್ತಿಗಳ ಒಂದು ಸಾಲಿನಲ್ಲಿ, ಸಾಲಿನ ಎಡಭಾಗದಿಂದ ಅಪರ್ಣಾ ಅವರ ಸ್ಥಾನವು 27 ನೇ ಸ್ಥಾನದಲ್ಲಿದೆ ಮತ್ತು ಸಾಲಿನಲ್ಲಿ ಅವರ ನಂತರ 5 ಜನರಿದ್ದಾರೆ. ಸಾಲಿನಲ್ಲಿರುವ ವ್ಯಕ್ತಿಗಳ ಒಟ್ಟು ಸಂಖ್ಯೆ ಎಷ್ಟು ? (ಎ) 34 (ಬಿ) 28 (ಸಿ) 36 (ಡಿ) 32
81.	One Kite is flying in 6 th position with both sides in the sky. How many Kites are flying in this row ? (A). 10 (B). 6 (C). 12 (D). 11	81.	ಒಂದು ಗಾಳಿಪಟವು ಆಕಾಶದಲ್ಲಿ ಹಾರುತ್ತಿರುವ ಗಾಳಿಪಟಗಳ ಸಾಲಿನಲ್ಲಿ ಎರಡೂ ಬದಿಗಳಿಂದ 6 ನೇ ಸ್ಥಾನದಲ್ಲಿದೆ. ಈ ಸಾಲಿನಲ್ಲಿ ಒಟ್ಟು ಎಷ್ಟು ಗಾಳಿಪಟಗಳು ಹಾರುತ್ತಿವೆ? (ಎ) 10 (ಬಿ) 6 (ಸಿ) 12 (ಡಿ) 11

LOVE
3695
CARE
1875

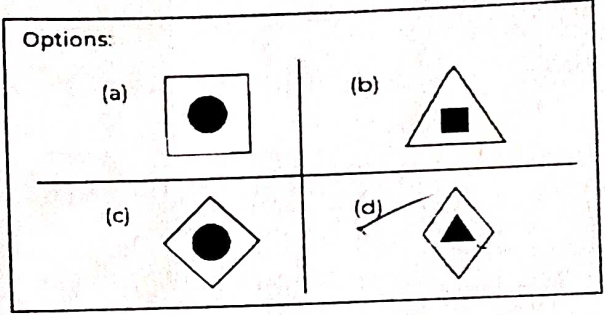

16785
CORAL

82. Select a suitable figure from the Answer mark (?).
Figures that would replace the question mark (?).



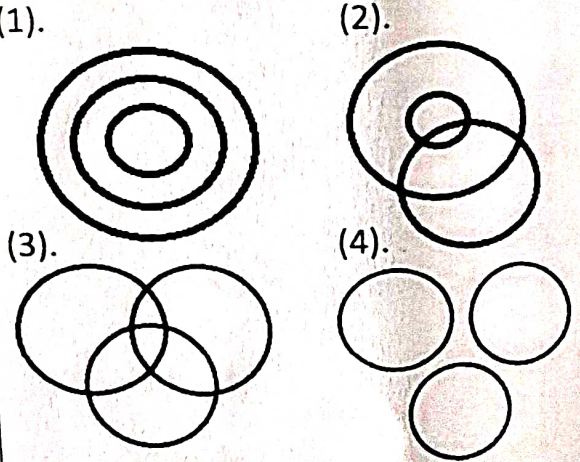
- (A). (a) (B). (b)
(C). (c) (D). (d)

82. ಪ್ರಶ್ನಾರ್ಥಕ ಚಿಹ್ನೆಯ(?) ಸ್ಥಾನಕ್ಕೆ ಉತ್ತರದ ಆಯ್ಕೆಗಳಲ್ಲಿ ತೋರಿಸಿರುವ ಚಿತ್ರಗಳಿಂದ ಸೂಕ್ತವಾದ ಚಿತ್ರವನ್ನು ಆಯ್ಕೆಮಾಡಿ.



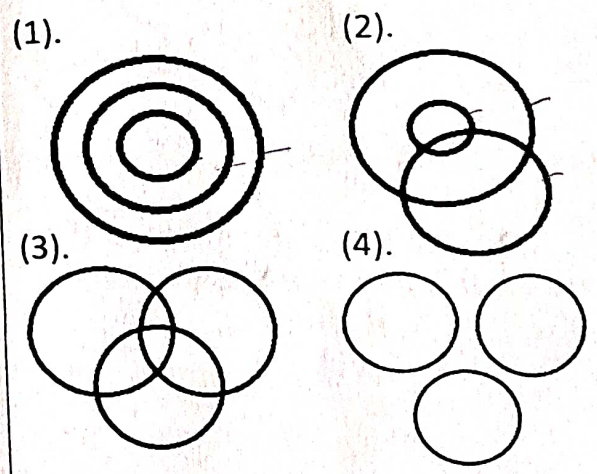
- (ಎ) (a) (ಬಿ) (b)
(ಸಿ) (c) (ಡಿ) (d)

83. Which of the following diagrams best represents the relationship amongst, "Mothers, Teachers and Females" ?



- (A). (1). (B). (2)
(C). (4). (D). (3).

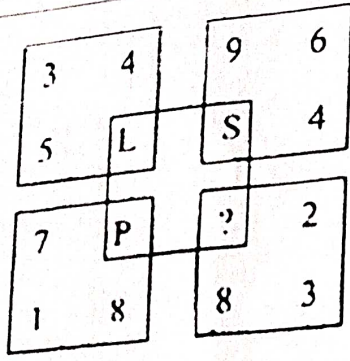
83. ಕೆಳಗಿನ ಯಾವ ರೇಖಾಚಿತ್ರವು "ತಾಯಂದಿರು, ಶಿಕ್ಷಕರು ಮತ್ತು ಹೆಣ್ಣು" ನಡುವಿನ ಸಂಬಂಧವನ್ನು ಉತ್ತಮವಾಗಿ ಪ್ರತಿನಿಧಿಸುತ್ತದೆ?




- (ಎ) (1) (ಬಿ) (2) (ಸಿ) (4) (ಡಿ) (3)

84. Find the letter to be placed in place of '?' in the figure given :

84. ನೀಡಿರುವ ಚಿತ್ರದಲ್ಲಿ '?' ನ ಸ್ಥಳದಲ್ಲಿ ಇರಿಸಬೇಕಾದ ಅಕ್ಷರವನ್ನು ಹುಡುಕಿ :



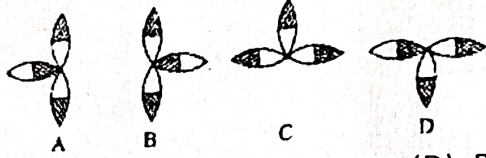
(A). M (B). N (C). Q (D). R



(ಎ). M (ಬಿ). N (ಸಿ). Q (ಡಿ). R

85.

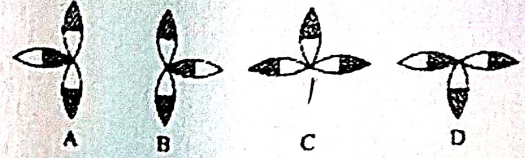
Find the odd one out ?



(A). D (B). C (C). A (D). B

85.

ಗುಂಪಿನಿಂದ ವಿಭಿನ್ನವಾದ ಚಿತ್ರವನ್ನು ಹುಡುಕಿ

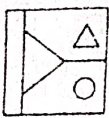


(ಎ). D (ಬಿ). C (ಸಿ). A (ಡಿ). B

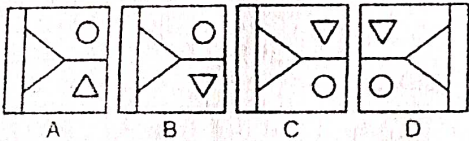
86.

Choose the correct water image of the given figure :

Problem Figure



Answer Figures




(A). A (B). B (C). C (D). D

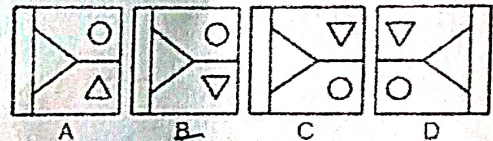
86.

ಈ ಕೆಳಗಿನ ಚಿತ್ರದ ನೀರಿನ ಪ್ರತಿಬಿಂಬವನ್ನು ಆಯ್ಕೆ ಮಾಡಿ

Problem Figure



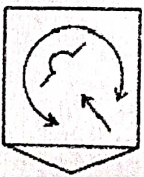
Answer Figures



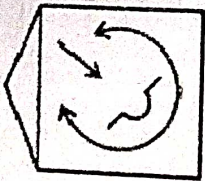
(ಎ). A (ಬಿ). B (ಸಿ). C (ಡಿ). D

87.

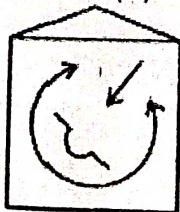
Select the correct mirror image of the given figure if the mirror is placed horizontally as shown :



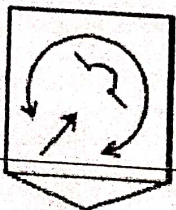
(1).



(2).




(3).



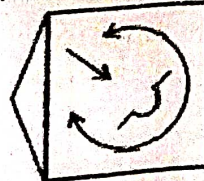
(4). None

87.

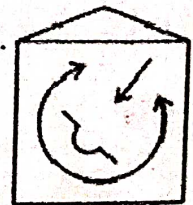
ಕನ್ನಡಿಯನ್ನು ಅಡ್ಡಲಾಗಿ ಇಟ್ಟಾಗ ಈ ಕೆಳಗಿನ ಚಿತ್ರದ ಪ್ರತಿಬಿಂಬವನ್ನು ಗುರುತಿಸಿ



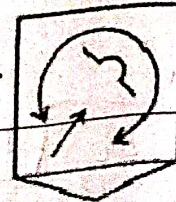
(1).



(2).



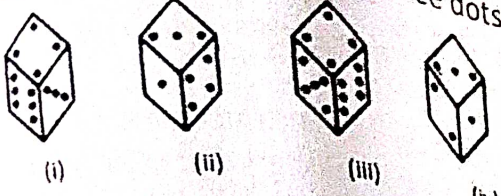
(3). ಅಲ್ಲ



(4). ಯಾವುದೂ

- (A). (3). (B). (2).
(C). (4). (D). (1).

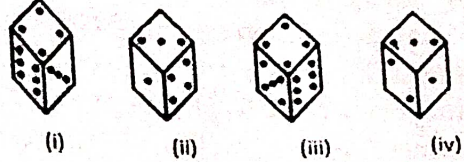
88. How many dots are there on the dice face opposite the one with three dots ?



- (A). 2 (B). 4 (C). 5 (D). 6

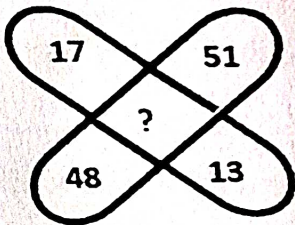
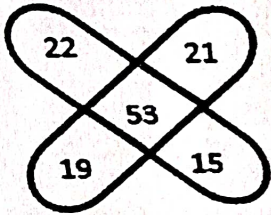
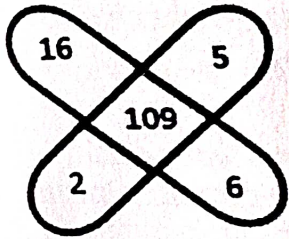
- (ಎ). (3). (ಬಿ). (2).
(ಸಿ). (4). (ಡಿ). (1).

88. ಮೂರು ಚುಕ್ಕೆಗಳಿರುವ ದಾಳದ ಮುಖದ ಹಿಂದಿರುವ ಮುಖದಲ್ಲಿ ಎಷ್ಟು ಚುಕ್ಕೆಗಳಿವೆ?



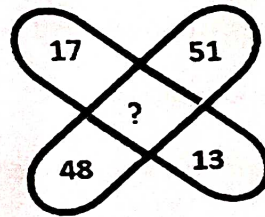
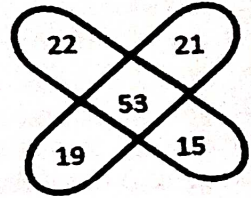

- (ಎ) 2 (ಬಿ). 4 (ಸಿ). 5 (ಡಿ). 6

89. Which number will come in place of " ? " ?



- (A). 25 (B). 129 (C). 7 (D). 49

89. " ? " ಚಿಹ್ನೆಯಿರುವ ಜಾಗದಲ್ಲಿ ಯಾವ ಸಂಖ್ಯೆಯು ಬರುತ್ತದೆ?



- (ಎ) 25 (ಬಿ). 129 (ಸಿ). 7 (ಡಿ). 49

90. A is pointing towards B. She is the only Grand Daughter of my Grand Mother. What is the relation between She & A ?
(A). Mother (B). Sister
(C). Brother (D). Son

90. A, B ಕಡೆಗೆ ತೋರಿಸಿ ಅವಳು ನನ್ನ ಅಜ್ಜಿಯ ಏಕೈಕ ಮೊಮ್ಮಗಳು ಎಂದು ಹೇಳುತ್ತಿದ್ದಾಳೆ. ಅವಳು ಮತ್ತು A ನಡುವಿನ ಸಂಬಂಧವೇನು?

- (ಎ) ತಾಯಿ (ಬಿ). ಸಹೋದರಿ
(ಸಿ) ಸಹೋದರ (ಡಿ). ಮಗ

91. What is UAT in IT ?
(A). User Aggregate Testing
(B). User Accept Testing
(C). User Acceptance Testing
(D). Unique Acceptance Testing

91. ಐಟಿಯಲ್ಲಿ ಯುವಿಟಿ ಎಂದರೇನು?

- (ಎ) ಯೂಸರ್ ಅಗ್ರೆಗೇಟ್ ಟೆಸ್ಟಿಂಗ್
(ಬಿ) ಯೂಸರ್ ಅಕ್ಸೆಪ್ಟ್ ಟೆಸ್ಟಿಂಗ್
(ಸಿ) ಯೂಸರ್ ಅಕ್ಸೆಪ್ಟೆನ್ಸ್ ಟೆಸ್ಟಿಂಗ್
(ಡಿ) ಯೂನಿಕ್ ಅಕ್ಸೆಪ್ಟ್ ಟೆಸ್ಟಿಂಗ್

92. What is the latest Finacle DOP version being used in Post Offices ?
(A). 9 (B). 10 (C). 8 (D). 7

92. ಅಂಚೆ ಕಛೇರಿಗಳಲ್ಲಿ ಇತ್ತೀಚಿನ ಫಿನಾಕಲ್ DOP ಯಾವ ಆವೃತ್ತಿಯನ್ನು ಬಳಸಲಾಗುತ್ತಿದೆ?
(ಎ) 9 (ಬಿ) 10 (ಸಿ) 8 (ಡಿ) 7

93.	Abbreviation of LMS in IT ? (A). Lead Management System (B). Lead Monitoring System (C). Lead Maintenance System (D). Learning Management System	93.	IT ನಲ್ಲಿ LMS ನ ಪೂರ್ಣರೂಪ? (ಎ) ಲೀಡ್ ಮ್ಯಾನೇಜ್ ಮೆಂಟ್ ಸಿಸ್ಟಮ್ (ಬಿ) ಲೀಡ್ ಮಾನಿಟರಿಂಗ್ ಸಿಸ್ಟಮ್ (ಸಿ) ಲೀಡ್ ಮೇಂಟೆನನ್ಸ್ ಸಿಸ್ಟಮ್ (ಡಿ) ಲರ್ನಿಂಗ್ ಮ್ಯಾನೇಜ್ ಮೆಂಟ್ ಸಿಸ್ಟಮ್
94.	Abbreviation of iGOT ? (A). Integrated Government Online Training (B). Inspector General of Taxation (C). Integrated General Online Training (D). Integrated Government Offline Training	94.	iGOT ನ ಪೂರ್ಣರೂಪ? (ಎ) ಇಂಟಿಗ್ರೇಟೆಡ್ ಗವರ್ನಮೆಂಟ್ ಆನ್‌ಲೈನ್ ಟ್ರೇನಿಂಗ್ (ಬಿ) ಇನ್ಸ್ಪೆಕ್ಟರ್ ಜನರಲ್ ಆಫ್ ಟ್ಯಾಕ್ಸೇಶನ್ (ಸಿ) ಇಂಟಿಗ್ರೇಟೆಡ್ ಜನರಲ್ ಆನ್‌ಲೈನ್ ಟ್ರೇನಿಂಗ್ (ಡಿ) ಇಂಟಿಗ್ರೇಟೆಡ್ ಗವರ್ನಮೆಂಟ್ ಆಫ್‌ಲೈನ್ ಟ್ರೇನಿಂಗ್
95.	Digital Address is based on ? (A). Pincode (B). PinPlus (C). Lat-Long (D). Delivery Office	95.	ಡಿಜಿಟಲ್ ವಿಳಾಸವನ್ನು ಆಧರಿಸಿದೆ? (ಎ) ಪಿನ್‌ಕೋಡ್ (ಬಿ). ಪಿನ್‌ಪ್ಲಸ್ (ಸಿ) ಲ್ಯಾಟ್-ಲಾಂಗ್ (ಡಿ) ಬಟವಾಡೆ ಕಛೇರಿ
96.	URL for ESS Portal ? (ಎ) https://sapep.indiapost.gov.in/irj/portal (ಬಿ) https://sapep.indiapost.gov.in/ess/portal (ಸಿ) https://sapep.indiapost.gov.in/mss/portal (ಡಿ) https://sapep.indiapost.gov.in/hrms/ess	96.	ಈ ಎಸ್ ಎಸ್ ಪೋರ್ಟಲ್‌ನ ಯೂಆರ್‌ಎಲ್ ಯಾವುದು? (ಎ) https://sapep.indiapost.gov.in/irj/portal (ಬಿ) https://sapep.indiapost.gov.in/ess/portal (ಸಿ) https://sapep.indiapost.gov.in/mss/portal (ಡಿ) https://sapep.indiapost.gov.in/hrms/ess
97.	Abbreviation of ECMS ? (A). Enterprise Content Management System (B). Enterprise Crisis Management System (C). Electronic Construction Management System (D). Enterprise Content Maintenance System	97.	ಈಸಿಎಂಎಸ್ ನ ಪೂರ್ಣರೂಪ ಯಾವುದು? (ಎ) ಎಂಟರ್ ಪ್ರೈಸ್ ಕಂಟೆಂಟ್ ಮ್ಯಾನೇಜ್‌ಮೆಂಟ್ ಸಿಸ್ಟಮ್ (ಬಿ) ಎಂಟರ್ ಪ್ರೈಸ್ ಕ್ರೈಸಿಸ್ ಮ್ಯಾನೇಜ್‌ಮೆಂಟ್ ಸಿಸ್ಟಮ್ (ಸಿ) ಎಲೆಕ್ಟ್ರಾನಿಕ್ ಕನ್ಸ್ಟ್ರಕ್ಷನ್ ಮ್ಯಾನೇಜ್‌ಮೆಂಟ್ ಸಿಸ್ಟಮ್ (ಡಿ) ಎಂಟರ್‌ಪ್ರೈಸ್ ಕಂಟೆಂಟ್ ಮೇಂಟೆನನ್ಸ್ ಸಿಸ್ಟಮ್
98.	DIGI-DAK means ? (A). Digital Driven Accelerated Knowledge-base (B). Digital DAK (C). Digitally Driven Accelerated Knowledge-base (D). Digital Driven Accelerated Knowledge	98.	DIGI-DAK ಎಂದರೆ? (ಎ) ಡಿಜಿಟಲ್ ಡ್ರಿವನ್ ಆಕ್ಸಿಲರೇಟೆಡ್ ನಾಲೆಜ್ ಬೇಸ್ (ಬಿ) ಡಿಜಿಟಲ್ ಡಾಕ್ (ಸಿ) ಡಿಜಿಟಲಿ ಡ್ರಿವನ್ ಆಕ್ಸಿಲರೇಟೆಡ್ ನಾಲೆಜ್ ಬೇಸ್ (ಡಿ) ಡಿಜಿಟಲ್ ಡ್ರಿವನ್ ಆಕ್ಸಿಲರೇಟೆಡ್ ನಾಲೆಜ್
99.	Nanyatha Software is using for ? (A). Clearance of Letters (B). AEPS (C). Philately (D). DBT Payments	99.	ನಾನ್ಯಥಾ ತಂತ್ರಾಂಶವನ್ನು ಯಾವುದಕ್ಕೆ ಬಳಸಲಾಗುತ್ತದೆ? (ಎ) ಪತ್ರಗಳ ವಿಲೇವಾರಿ (ಬಿ) ಐ ಈ ಪಿ ಎಸ್ (ಸಿ) ಫಿಲಾಟಲಿ (ಡಿ) ಡಿಬಿಟಿ ಪಾವತಿಗಳು
100.	Location of Command Control Centre in IT? (A). CEPT Mysore (B). CEPT Bangalore (C). CEPT Chennai (D). Postal Directorate	100.	ಐಟಿಯ ಕಮಾಂಡ್ ಕಂಟ್ರೋಲ್ ಕೇಂದ್ರದ ಸ್ಥಳ? (ಎ) ಸಿಇಪಿಟಿ ಮೈಸೂರು (ಬಿ) ಸಿಇಪಿಟಿ ಬೆಂಗಳೂರು (ಸಿ) ಸಿಇಪಿಟಿ ಚೆನ್ನೈ (ಡಿ) ಅಂಚೆ ನಿರ್ದೇಶನಾಲಯ