

<p>What is the discount that a customer gets if he purchases 101 My Stamp Sheetlets from a Post Office Counter?</p>	1	<p>यदि कोई ग्राहक डाकघर काउंटर से 101 माई स्टैम्प शीटलेट्स खरीदता है तो उसे कितनी छूट मिलेगी?</p>
<p>A. No Discount B. Rs 3060 C. Rs 6060 D. Rs 3030</p>		<p>A. कोई छूट नहीं B. 3060 रुपये C. 6060 रुपये D. 3030 रुपये</p>
<p>In Deen Dayal SPARSH Yojna, SPARSH stands for:</p>	2	<p>दीन दयाल स्पर्श योजना में SPARSH का तात्पर्य है:</p>
<p>A. Scholarship for Promotion of Aptitude & Research in School as a Hobby B. Scholars for Promotion of Aptitude & Research in Stamps as a Hobby C. School for Promotion of Aptitude & Research in Stamps as a Hobby D. Scholarship for Promotion of Aptitude & Research in Stamps as a Hobby</p>		<p>A. स्कूल में रुचि के रूप में योग्यता और अनुसंधान को बढ़ावा देने के लिए छात्रवृत्ति B. विद्वानों को रुचि के रूप में टिकटों में योग्यता और अनुसंधान को बढ़ावा देने के लिए C. स्कूल को रुचि के रूप में टिकटों में योग्यता और अनुसंधान को बढ़ावा देने के लिए D. रुचि के रूप में टिकटों में योग्यता और अनुसंधान को बढ़ावा देने के लिए छात्रवृत्ति</p>
<p>3 How many commemorative postage stamps were released on the theme "Bharat – The Mother of Democracy" on January 25, 2024?</p>	3	<p>25 जनवरी, 2024 को "भारत-लोकतंत्र की जननी" विषय पर कितने स्मारक डाक टिकट जारी किए गए?</p>
<p>A. 1 B. 2 C. 3 D. 4</p>		<p>A. 1 B. 2 C. 3 D. 4</p>
<p>4 Who is the authority to revive a silent POSB Account?</p>	4	<p>बंद पड़े पी.ओ.एस.बी. खाते को पुनर्जीवित करने का प्राधिकारी कौन है?</p>
<p>A. Respective SO B. Respective HO C. Respective DO D. Respective RO</p>		<p>A. संबंधित एसओ B. संबंधित एचओ C. संबंधित डीओ D. संबंधित आरओ</p>
<p>5 Night Post office on Sunday will not generally do the following transaction</p>	5	<p>रविवार को रात्रिकालीन डाकघर सामान्यतः निम्नलिखित लेन-देन नहीं करेगा</p>
<p>A. Booking Registered Article B. Booking VP Article C. Booking of Money Order D. SB Transactions</p>		<p>A. पंजीकृत डाक की बुकिंग B. वीपी डाक की बुकिंग C. मनी ऑर्डर की बुकिंग D. एसबी लेनदेन</p>

<p>6 Memo of Distribution of Work (MDW) will be initially prepared by</p> <p>A. Concerned Postmaster B. PRI(P) or any other field staff other than Inspecting Authority C. Sub Divisional Head D. Divisional Office</p>	<p>6 कार्य वितरण ज्ञापन (एमडीडब्ल्यू) प्रारंभ में तैयार किया जाएगा?</p> <p>A. संबंधित पोस्टमास्टर B. पीआरआई (पी) या निरीक्षण प्राधिकारी के अलावा कोई अन्य फील्ड स्टाफ C. उप मंडल प्रमुख D. मंडल कार्यालय</p>
<p>7 Who may be employed to make enquiries into minor complaints, verify payment of e-money orders and test the work of postmen and letter-box attendants when they can be spared for such a purpose?</p> <p>A. Other Beat Postman B. Head Postman C. Postal Assistant D. Sorting Postman</p>	<p>7 छोट्टी-मोट्टी शिकायतों की जांच करने, ई-मनीऑर्डर के भुगतान का सत्यापन करने तथा डाकियों और पत्र-पेटी परिचारकों के कार्य का परीक्षण करने के लिए किसे नियोजित किया जा सकता है, जबकि उन्हें ऐसे प्रयोजनों के लिए छुट्टी दी जा सकती है?</p> <p>A. अन्य बीट पोस्टमैन B. हेड पोस्टमैन C. डाक सहायक D. सॉर्टिंग पोस्टमैन</p>
<p>8 Which of the following articles have no special columns in the form of Postman's Book for entry?</p> <p>(i) Insured Parcel (ii) Advices of payment for delivery to the remitters of foreign money orders (iii) Value Payable Parcel (iv) Registered Parcel AD</p> <p>A. (i) (iii) (iv) B. (i) only C. (i) & (iii) D. (ii) only</p>	<p>8 निम्नलिखित में से किस डाक को पोस्टमैन की पुस्तक के रूप में प्रविष्टि के लिए कोई विशेष कॉलम नहीं है? (i) बीमित पार्सल (ii) विदेशी मनीऑर्डर के प्रेषकों को डिलीवरी के लिए भुगतान की सलाह (iii) मूल्य देय पार्सल (iv) पंजीकृत पार्सल AD</p> <p>A. (i) (iii) (iv) B. केवल (i) C. (i) और (iii) D. केवल (ii)</p>
<p>9 Printing of AAR Books and ASLAAS-5 cards will be carried out by the:</p> <p>A. PSDs identified in the circle B. India Security Press, Nashik C. Printing Press, Hyderabad D. National Savings Organization</p>	<p>9 एएआर पुस्तकों और एसएलएएस-5 कार्डों का मुद्रण निम्नलिखित द्वारा किया जाएगा:</p> <p>A. परिमंडलके अंतर्गत आने वाले PSD B. इंडिया सिक्योरिटी प्रेस, नासिक C. प्रिंटिंग प्रेस, हैदराबाद D. राष्ट्रीय बचत संगठन</p>
<p>10 Mail Abstract for Transit Sections and Mail Offices are maintained in the formats:</p>	<p>10 पारगमन अनुभागों और मेल कार्यालयों के लिए मेल सार निम्नलिखित प्रारूपों में बनाए रखा जाता है:</p>

<p>11</p> <p>In Mail offices where LSG Supervisors have been sanctioned in addition to LSG/HSG Head Sorting Assistants, each LSG Supervisor will submit a daily note in a prescribed form to the:</p> <p>A. Assistant Superintendent of RMS B. Superintendent of RMS. C. Inspector of RMS D. Head Sorting Assistant</p>	<p>11</p> <p>उन मेल कार्यालयों में जहाँ एलएसजी/एचएसजी हेड सॉर्टिंग असिस्टेंट के अतिरिक्त एलएसजी पर्यवेक्षकों को भी मंजूरी दी गई है, प्रत्येक एलएसजी पर्यवेक्षक निर्धारित प्रपत्र में निम्नलिखित को एक दैनिक नोट प्रस्तुत करेगा:</p> <p>A. आरएमएस के सहायक अधीक्षक को B. आरएमएस के अधीक्षक को C. आरएमएस के निरीक्षक को D. हेड सॉर्टिंग सहायक को</p>
<p>12</p> <p>Who should explain the meaning of the "B" Orders or "TB" Orders to all the Sorting Assistants or to the Mail Guard who should initial the Order in evidence of having understood it?</p> <p>A. ASRM B. Head Sorting Assistant C. Record Officer D. Dealing Assistant in Record Office</p>	<p>12</p> <p>सभी छंटाई सहायकों या मेल गार्ड को "बी" आदेश या "टीबी" आदेश का अर्थ कौन समझाएगा, जिसे इसे समझने के प्रमाण के रूप में आदेश पर हस्ताक्षर करना चाहिए?</p> <p>A. ASRM B. हेड सॉर्टिंग असिस्टेंट C. रिकॉर्ड ऑफिसर D. रिकॉर्ड ऑफिस में डीलिंग असिस्टेंट</p>
<p>13</p> <p>The fee for blind literature packet to be air lifted to a foreign country is</p> <p>A. Air surcharge as applicable to letter post B. Free of charge C. Air surcharge as applicable to printed paper D. None of the above</p>	<p>13</p> <p>किसी विदेशी देश में हवाई मार्ग से भेजे जाने वाले नेत्रहीन साहित्य पैकेट का शुल्क है:</p> <p>A. लेटर पोस्ट पर लागू एयर सरचार्ज B. निःशुल्क. C. प्रिंटेड पेपर पर लागू एयर सरचार्ज D. उपरोक्त में से कोई नहीं</p>
<p>14</p> <p>The country in which article of correspondence or parcel is posted initially is called as which of the following?</p> <p>A. Country of origin B. Country of sending C. Country of destination D. Country of receiving</p>	<p>14</p> <p>वह देश जिसमें पत्र-व्यवहार या पार्सल सर्वप्रथम पोस्ट की जाती है, उसे निम्नलिखित में से क्या कहा जाता है?</p> <p>A. उद्गम देश B. भेजने का देश C. गंतव्य का देश D. प्राप्त करने वाला देश</p>

15	Where is the Head Quarters of the Andhra Pradesh Postal Circle located?	15	आंध्र प्रदेश डाक परिमंडल का मुख्यालय कहां स्थित है?
	A. Hyderabad B. Vijayawada C. Trivandrum D. New Delhi		A. हैदराबाद B. विजयवाड़ा C. त्रिवेंद्रम D. नई दिल्ली
16	Which types of postal business are normally transacted at the first two classes of post offices?	16	प्रथम दो श्रेणी के डाकघरों में सामान्यतः किस प्रकार का डाक व्यवसाय किया जाता है?
	A. Only delivery of mails B. Only booking of articles C. All types of postal business D. Only SB related work		A. केवल डाक वितरण B. केवल डाक की बुकिंग C. सभी प्रकार के डाक व्यवसाय D. केवल एसबी से संबंधित कार्य
17	What transactions can be carried out at Night Post Offices during extended hours?	17	रात्रिकालीन डाकघरों में विस्तारित समय के दौरान कौन से लेन-देन किए जा सकते हैं?
	A. Only sale of postage stamps B. Booking registered articles and selling I.P.Os and postage stamps C. Only acceptance of SB deposits D. Payment of Money Orders only		A. केवल डाक टिकटों की बिक्री B. पंजीकृत डाक की बुकिंग और I.P.O. और डाक टिकटों की बिक्री C. केवल एसबी जमा की स्वीकृति D. केवल मनीऑर्डर का भुगतान
18	Who has the authority to extend the working hours of any post office up to 8:30 P.M.?	18	किसी भी डाकघर के कार्य समय को रात्रि 8:30 बजे तक बढ़ाने का अधिकार किसके पास है?
	A. Director-General B. Head of Circle C. SSPOs/SPOs D. P.M.G		A. महानिदेशक B. मुख्य पोस्टमास्टर जनरल C. प्रवर अधीक्षक डाकघर/ अधीक्षक डाकघर D. पोस्टमास्टर जनरल
19	What is NOT a valid method of paying postage charges?	19	डाक शुल्क का भुगतान करने का कौन सा तरीका वैध नहीं है?
	A. Using Revenue stamps issued by the Central Government B. Affixing postage stamps C. Making cash payments as indicated in specific cases D. Franking of articles		A. केंद्र सरकार द्वारा जारी राजस्व टिकटों का उपयोग करना B. डाक टिकट चिपकाना C. विशिष्ट मामलों में बताए अनुसार नकद भुगतान करना D. डाक की फ्रैंकिंग
20	How will machine franked articles posted in letter boxes be treated?	20	लैटर बॉक्स में पोस्ट किए गए मशीन फ्रैंकड डाक को किस तरह की डाक के रूप में माना जाएगा?

- A. As regular
- B. As priority
- C. As unpaid articles
- D. As fraud

21 Why is it important to leave a clear margin at the top of the postal article according to the method of address?

- A. To display decorative stickers
- B. To accommodate additional addresses
- C. For postage stamps and labels, postmarks, and other indications
- D. To prevent postal theft

22 How does the post office ordinarily handle articles addressed to deceased persons?

- A. Refused articles
- B. Unclaimed articles
- C. Insured articles
- D. None of the above

23 How should strong smelling articles be enclosed for mailing?

- A. Wrapped in perfumed bag
- B. Enclosed in a hermetically sealed case of tin or other metal
- C. Enclosed in a paper bag
- D. Placed in a plastic bag

24 What is the required superscription for official postal articles posted by Government officials authorized to use service postage stamps?

- A. "Priority Mail"
- B. "To be opened by Government official only"
- C. "Confidential Article"
- D. "On India Government service"

25 What are the two broad categories of foreign postal articles exchanged in the foreign post?

- A. नियमित रूप में
- B. प्राथमिकता के रूप में
- C. अनपेड डाक के रूप में
- D. धोखाधड़ी के रूप में

21 पता लिखने की विधि के अनुसार डाक के शीर्ष पर स्पष्ट मार्जिन छोड़ना क्यों महत्वपूर्ण है?

- A. मजावटी स्टिकर प्रदर्शित करने के लिए
- B. अतिरिक्त पते समायोजित करने के लिए
- C. डाक टिकटों और लेबल, पोस्टमार्क और अन्य संकेतों के लिए
- D. डाक चोरी को रोकने के लिए

22 डाकघर आमतौर पर मृत व्यक्तियों को प्रेषित डाक का प्रबंधन किस प्रकार करता है?

- A. अस्वीकृत डाक
- B. अनक्लेम डाक
- C. बीमाकृत डाक
- D. उपरोक्त में से कोई नहीं

23 डाक द्वारा भेजे जाने वाले तीव्र गंध वाले सामान को किस प्रकार से बंद किया जाना चाहिए?

- A. सुगंधित बैग में लपेटा हुआ
- B. टिन या अन्य धातु के सीलबंद डिब्बे में बंद
- C. कागज़ के बैग में बंद
- D. प्लास्टिक बैग में रखा हुआ

24 सेवा डाक टिकटों का उपयोग करने के लिए अधिकृत सरकारी अधिकारियों द्वारा पोस्ट किए गए आधिकारिक डाक के लिए आवश्यक उपशीर्षक क्या है?

- A. "प्राथमिकता मेल"
- B. "केवल सरकारी अधिकारी द्वारा खोला जाना चाहिए"
- C. "गोपनीय डाक"
- D. "भारत सरकार की सेवा पर"

25 विदेशी डाक द्वारा आदान-प्रदान किये जाने वाले विदेशी डाक पत्रों की दो व्यापक श्रेणियां क्या हैं?

	A. Letter post and parcel post B. Postcards and envelopes C. Magazines and newspapers D. Packages and documents		A. लेटर पोस्ट और पैरसल पोस्ट B. पोस्टकार्ड और लिफाफे C. पत्रिकाएँ और समाचार पत्र D. पैकेज और दस्तावेज़
26	What type of mail items are eligible for free redirection by air within India?	26	भारत के भीतर हवाई मार्ग से किस प्रकार के मेल आइटम निःशुल्क पुनर्निर्देशन के लिए पात्र हैं?
	A. Letters, aerogrammes, and postcards B. Printed papers and newspapers C. Small packets D. Parcels		A. पत्र, एरोग्राम और पोस्टकार्ड B. मुद्रित कागज और समाचार पत्र C. छोटे पैकेट D. पैरसल
27	When was the Asian Pacific Postal Union established?	27	एशियाई प्रशांत डाक संघ की स्थापना कब हुई?
	A. 1961 B. 1962 C. 1963 D. 1964		A. 1961 B. 1962 C. 1963 D. 1964
28	Which type of recordings are admitted as literature for the blind?	28	किस प्रकार की रिकॉर्डिंग को दृष्टिहीनों के लिए साहित्य के रूप में स्वीकार किया जाता है?
	A. Digital Recordings B. Audio Books C. Sound Recordings for Personal Use D. Sound Recordings sent by a recognized institute for the blind		A. डिजिटल रिकॉर्डिंग B. ऑडियो पुस्तकें C. व्यक्तिगत उपयोग के लिए ध्वनि रिकॉर्डिंग D. दृष्टिहीनों के लिए मान्यता प्राप्त संस्थान द्वारा भेजी गई ध्वनि रिकॉर्डिंग
29	What is the purpose of the indication 'A.R.' on a registered article?	29	किसी पंजीकृत वस्तु पर 'A.R.' अंकित करने का उद्देश्य क्या है?
	A. To signify Advice of Delivery B. To indicate Express delivery C. To show the sender's address D. To highlight insurance coverage		A. डिलीवरी की पावती दर्शाने के लिए B. एक्सप्रेस डिलीवरी दर्शाने के लिए C. प्रेषक का पता दर्शाने के लिए D. बीमा कवरेज को प्रमुखता से दिखाना
30	How are perishable biological substances that are infectious or reasonably suspected to be infectious for man and animals declared?	30	ऐसे नाशवान जैविक पदार्थों को कैसे घोषित किया जाता है जो संक्रामक हैं या जिनके मनुष्य और पशुओं के लिए संक्रामक होने का संदेह है?
	A. Handle with Care B. Potentially hazardous substances C. Infectious substances D. Dangerous goods		A. सावधानी से संभालें B. संभावित रूप से खतरनाक पदार्थ C. संक्रामक पदार्थ D. खतरनाक सामान

<p>Which country has a special bilateral agreement for the exchange of parcels with India?</p> <p>A. Srilanka B. China C. Pakistan D. Russia</p>	<p>31 किस देश के साथ भारत का पार्सल के आदान-प्रदान के लिए विशेष द्विपक्षीय समझौता है?</p> <p>A. श्रीलंका B. चीन C. पाकिस्तान D. रूस</p>
<p>32 Which services require additional charges in the international Parcel Post Service?</p> <p>A. Prepayment of customs duty B. Advice of delivery C. Insurance D. All of the above</p>	<p>32 अंतर्राष्ट्रीय पार्सल पोस्ट सेवा में किन सेवाओं के लिए अतिरिक्त शुल्क देना पड़ता है?</p> <p>A. सीमा शुल्क का पूर्व भुगतान B. डिलीवरी की पावती C. बीमा D. उपरोक्त सभी</p>
<p>33 What is the maximum period of detention for value payable parcels addressed 'Poste Restante'?</p> <p>A. One week B. Two weeks C. Three weeks D. One month</p>	<p>33 'पोस्टे रेस्टांटे' पते पर देय मूल्य वाले पार्सल के लिए रोकने की अधिकतम अवधि क्या है?</p> <p>A. एक सप्ताह B. दो सप्ताह C. तीन सप्ताह D. एक महीना</p>
<p>34 As per the "Prohibitions and Restrictions" described in the Post office guide part - II which type of articles should not contain loose advertisement sheets?</p> <p>A. Letters B. Registered Newspapers C. Small packets D. Parcels</p>	<p>34 डाकघर गाइड भाग - II में वर्णित "निषेध और प्रतिबंध" के अनुसार किस प्रकार की डाक में खुले हुए विज्ञापन शीट नहीं होने चाहिए?</p> <p>A. पत्र B. पंजीकृत समाचार पत्र C. छोटे पैकेट D. पार्सल</p>
<p>35 Which one of the following committee is not part of the IT Modernization Project 2022?</p> <p>A. Steering Committee B. Project Implementation Committee (PIC) C. Project Evaluation Committee (PEC) D. Project Management Committee (PMC)</p>	<p>35 निम्नलिखित में से कौन सी समिति आईटी आधुनिकीकरण परियोजना 2022 का हिस्सा नहीं है?</p> <p>A. स्टीयरिंग समिति B. परियोजना कार्यान्वयन समिति (पीआईसी) C. परियोजना मूल्यांकन समिति (पीईसी) D. परियोजना प्रबंधन समिति (पीएमसी)</p>

36	Who is appointed as a consultant to study the status of the acquisition of IT capabilities in the organization and submit a report keeping the future growth of the organization in mind under IT Modernization Project 2.0?	36	आईटी आधुनिकीकरण परियोजना 2.0 के तहत में आईटी क्षमताओं के अधिग्रहण की स्थिति का अद्य- करने और संगठन के भविष्य के विकास को ध्यान में रख हुए एक रिपोर्ट प्रस्तुत करने के लिए सलाहकार के रूप में किसे नियुक्त किया गया है?
	<p>A. Accenture, Ireland B. Tata Consultancy Services, Mumbai C. PricewaterhouseCoopers Pvt. Ltd (PWC), London D. Deloitte, London</p>		<p>A. एक्सेंचर, आयरलैंड B. टाटा कंसल्टेंसी सर्विसेज, मुंबई <input checked="" type="checkbox"/> C. प्राइसवाटरहाउसकूपर्स प्राइवेट लिमिटेड (PWC), लंदन D. डेलोइट, लंदन</p>
37	The Silo in IT Modernization Project that aims at preparation of all the employees of the Department to enable them to function effectively in the IT environment is:	37	आईटी आधुनिकीकरण परियोजना में किस खंड का उद्देश्य विभाग के सभी कर्मचारियों को आईटी वातावरण में प्रभावी ढंग से कार्य करने के लिए तैयार करना है?
	<p>A. CSI B. FSI C. Change Management D. RSI</p>		<p>A. सीएसआई B. एफएसआई <input checked="" type="checkbox"/> C. परिवर्तन प्रबंधन D. आरएसआई</p>
38	Disaster Recovery Centre for India Posts has been functioning since:	38	भारतीय डाक के लिए आपदा रिकवरी केंद्र निम्नलिखित तिथि से कार्य कर रहा है:
	<p>A. 03-04-2013 B. 03-04-2015 C. 15-05-2015 D. 04-03-2013</p>		<p><input checked="" type="checkbox"/> A. 03-04-2013 B. 03-04-2015 C. 15-05-2015 D. 04-03-2013</p>
39	HDMS in CSI refers to :	39	सीएसआई में HDMS का तात्पर्य है:
	<p>A. Help Desk Management System B. Help Desk Monitoring Setup C. Hard Disk Management System D. High Definition Management Setup</p>		<p>A. हेल्प डेस्क प्रबंधन प्रणाली <input checked="" type="checkbox"/> B. हेल्प डेस्क मॉनिटरिंग सेटअप C. हार्ड डिस्क प्रबंधन प्रणाली D. हाई डेफिनेशन प्रबंधन सेटअप</p>
40	Expand "SMPS" used in a computer services?	40	कंप्यूटर सेवाओं में प्रयुक्त "SMPS" का विस्तार करें?
	<p>A. Short- Mode Power Supply B. Short Message Power Supply C. Switched- Mode Power Supply D. Switched- Mode Power Service</p>		<p>A. शॉर्ट-मोड पावर सप्लाय <input checked="" type="checkbox"/> B. शॉर्ट मैसेज पावर सप्लाय C. स्विचड-मोड पावर सप्लाय D. स्विचड-मोड पावर सर्विस</p>

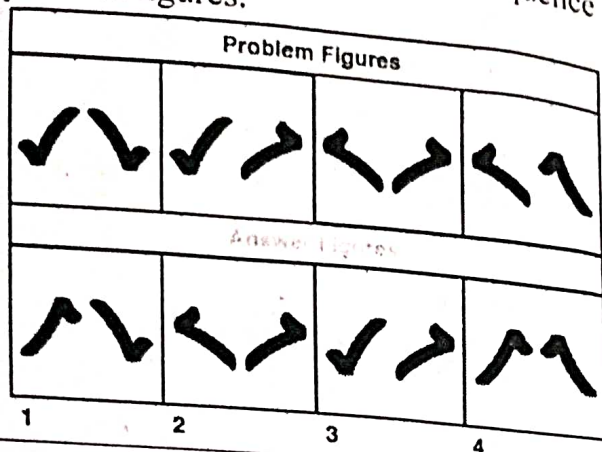
<p>Name the project under IT Modernization that has facilitated the payment of Postal Life Insurance in Branch Post offices which was earlier restricted to SO/HOs?</p>	<p>41</p>	<p>आईटी आधुनिकीकरण के अंतर्गत उस परियोजना का नाम बताइए जिसने शाखा डाकघरों में डाक जीवन बीमा के भुगतान को सुगम बनाया है, जो पहले एसओ/एचओ तक ही सीमित था?</p>
<p>A. CSI B. DARPAN C. Postman Mobile App D. IPPB App</p>		<p>A. सीएसआई B. DARPAN C. पोस्टमैन मोबाइल ऐप D. आईपीपीबी ऐप</p>
<p>42 According to the IT modernization Project, "ECMS" stands for?</p>	<p>42</p>	<p>आईटी आधुनिकीकरण परियोजना के अनुसार, " ECMS " का तात्पर्य क्या है?</p>
<p>A. Enterprise Capacity Management System B. Enterprise Content Management System C. Electronic Content Management Solution D. Electronics Control Measurement and Signals</p>		<p>A. एंटरप्राइज़ क्षमता प्रबंधन प्रणाली B. एंटरप्राइज़ सामग्री प्रबंधन प्रणाली C. इलेक्ट्रॉनिक सामग्री प्रबंधन समाधान D. इलेक्ट्रॉनिक्स नियंत्रण माप और सिग्नल</p>
<p>43 Which of the following offices are not part of the IT Modernization Project? (i) RLO (ii) CSD (iii) PSD (iv) RSD</p>	<p>43</p>	<p>निम्नलिखित में से कौन से कार्यालय आईटी आधुनिकीकरण परियोजना का हिस्सा नहीं हैं? (i) आरएलओ (ii) सीएसडी (iii) पीएसडी (iv) आरएसडी</p>
<p>A. (i) (ii) only B. (ii) (iv) only C. (ii) (iii) only D. All of these</p>		<p>A. (i) (ii) केवल B. (ii) (iv) केवल C. (ii) (iii) केवल D. ये सभी</p>
<p>44 Which of the following statements is true w.r.t. Network Integrator in IT Modernisation Project?</p>	<p>44</p>	<p>आईटी आधुनिकीकरण परियोजना में नेटवर्क इंटीग्रेटर के संबंध में निम्नलिखित में से कौन सा कथन सत्य है?</p>
<p>A. There are 3 Network service providers namely NSP1, NSP2 and NSP3 B. There are 2 Network service providers namely NSP1 and NSP2 C. There is only 1 Network service provider namely NSP1 D. There are 4 Network service providers from NSP1 to NSP4</p>		<p>A. 3 नेटवर्क सेवा प्रदाता हैं, जिनके नाम NSP1, NSP2 और NSP3 हैं B. 2 नेटवर्क सेवा प्रदाता हैं, जिनके नाम NSP1 और NSP2 हैं C. केवल 1 नेटवर्क सेवा प्रदाता है, जिसका नाम NSP1 है D. NSP1 से NSP4 तक 4 नेटवर्क सेवा प्रदाता हैं</p>

45	<p>Which of the following statements are true w.r.t ePassbook: ePassbook is a feature providing the following services through an online webpage -</p> <p>Statement-1: Mini statement will be available for SB, PPF and SSA schemes currently.</p> <p>Statement-2: Full statement will be introduced for POSB schemes in a phased manner.</p>	45	<p>ई-पासबुक के संबंध में निम्नलिखित में से कौन सत्य है: ई-पासबुक एक ऐसी सुविधा है जो वेबपेज के माध्यम से निम्नलिखित सेवाएँ प्रदान करेगी -</p> <p>कथन-1: मिनी स्टेटमेंट वर्तमान में एसबी, पीपीएफ और एसएसए योजनाओं के लिए उपलब्ध होगा।</p> <p>कथन-2: चरणबद्ध तरीके से पीओएसबी योजनाओं के लिए पूर्ण स्टेटमेंट उपलब्ध किया जाएगा।</p>
	<p>A. Only Statement-1 is true B. Only Statement-2 is true C. Both Statement-1 & Statement-2 are true D. Both Statement-1 & Statement-2 are not true</p>		<p>A. केवल कथन-1 सत्य है B. केवल कथन-2 सत्य है C. कथन-1 और कथन-2 दोनों सत्य हैं D. कथन-1 और कथन-2 दोनों सत्य नहीं हैं</p>
46	<p>What is the maximum period after which a speed post article will be treated as lost from the date of booking?</p>	46	<p>बुकिंग की तारीख से अधिकतम कितनी अवधि के बाद स्पीड पोस्ट डाक को खोया हुआ माना जाएगा?</p>
	<p>A. 90 days from the date of booking or 60 days from the date of receipt of complaint whichever is later B. 30 days from the date of booking or 60 days from the date of receipt of complaint whichever is later C. 60 days from the date of booking or 30 days from the date of receipt of complaint whichever is later D. 90 days from the date of booking or 15 days from the date of receipt of complaint whichever is later</p>		<p>A. बुकिंग की तारीख से 90 दिन या शिकायत प्राप्त होने की तारीख से 60 दिन जो भी बाद में हो B. बुकिंग की तारीख से 30 दिन या शिकायत प्राप्त होने की तारीख से 60 दिन जो भी बाद में हो C. बुकिंग की तारीख से 60 दिन या शिकायत प्राप्त होने की तारीख से 30 दिन जो भी बाद में हो D. बुकिंग की तारीख से 90 दिन या शिकायत प्राप्त होने की तारीख से 15 दिन जो भी बाद में हो</p>
47	<p>DNK refers to:</p> <p>A. Dakghar Niryat Kendra B. Direct Network Key C. Digital Networking Key D. Dak Network Kendra</p>	47	<p>DNK का तात्पर्य है:</p> <p>A. डाकघर निर्यात केंद्र B. डायरेक्ट नेटवर्क की C. डिजिटल नेटवर्किंग की D. डाक नेटवर्क केंद्र</p>
48	<p>Service standards for delivery of speed post (from Booking to delivery) for State Capital to State Capital is</p>	48	<p>राज्य की राजधानी से राज्य की राजधानी तक स्पीड पोस्ट की डिलीवरी (बुकिंग से डिलीवरी तक) के लिए सेवा मानक हैं</p>
	<p>A. 1 to 2 days B. 1 to 3 days C. 1 to 4 days D. 4 to 5 days</p>		<p>A. 1 से 2 दिन B. 1 से 3 दिन C. 1 से 4 दिन D. 4 से 5 दिन</p>

<p>What is the rate of discount on speed post booking for walk in customers who bring daily revenue of Rs 1000?</p> <p>A. 2% B. 5% C. 10% D. No discount</p>	49	<p>उन ग्राहकों के लिए स्पीड पोस्ट बुकिंग पर छूट की दर क्या है जो प्रतिदिन 1000 रुपये का राजस्व लाते हैं?</p> <p>A. 2% B. 5% C. 10% D. कोई छूट नहीं</p>
<p>What is the compensation for partial damage of International Speed Post article?</p> <p>A. Double the Speed Post charges or Rs. 1000 whichever is less. B. Limited to the value of lost or damaged content. In any case it shall not exceed the corresponding amounts mentioned for EMS Merchandise in case of loss or total damage. Postage paid will not be refunded. C. Value of contents or 30 SDR, whichever is less, plus the postage paid D. Value of contents or 130 SDR, whichever is less, plus the postage paid</p>	50	<p>अंतर्राष्ट्रीय स्पीड पोस्ट डाक की आंशिक क्षति के लिए मुआवजा क्या है?</p> <p>A. स्पीड पोस्ट शुल्क का दोगुना या 1000 रुपये जो भी कम हो। B. खोई या क्षतिग्रस्त सामग्री के मूल्य तक सीमित। किसी भी मामले में यह नुकसान या कुल क्षति के मामले में ईएमएस मर्चेन्डाइज के लिए उल्लिखित संबंधित राशि से अधिक नहीं होगा। भुगतान किया गया डाक शुल्क वापस नहीं किया जाएगा। C. सामग्री का मूल्य या 30 एसडीआर, जो भी कम हो, साथ ही भुगतान किया गया डाक शुल्क D. सामग्री का मूल्य या 130 एसडीआर, जो भी कम हो, साथ ही भुगतान किया गया डाक शुल्क</p>

<p>51 Pointing to a lady, Suresh said, 'She is the daughter of the woman, who is the mother of the husband of my mother'? What is the relation of the lady to Suresh?</p>	<p>51</p>	<p>एक महिला की ओर इशारा करते हुए, सुरेश ने कहा, 'वह उस महिला की बेटी है, जो मेरी माँ के पति की माँ है?' महिला का सुरेश से क्या संबंध है?</p>
<p>A. Aunt B. Grand daughter C. Daughter D. Sister</p>		<p>A. बुआ B. पोती C. बेटी D. बहन</p>
<p>52 Kishore walks 10 km towards north. Then he walked 6 km towards south. Then he walks 3 km towards east. How far and in which direction is he with reference to his starting point?</p>	<p>52</p>	<p>किशोर उत्तर की ओर 10 किमी चलता है। फिर वह 6 किमी दक्षिण की ओर चला। फिर वह पूर्व की ओर 3 किमी चलता है। वह अपने प्रारंभिक बिंदु के संदर्भ में कितनी दूर और किस दिशा में है?</p>
<p>A. 7 km east B. 5 km west C. 5 km north east D. 7 km west</p>		<p>A. 7 किमी पूर्व B. 5 किमी पश्चिम C. 5 किमी उत्तर पूर्व D. 7 किमी पश्चिम</p>
<p>53 How many 7s immediately preceded by 6 but not immediately followed by 4 are there in the following series? 74276436753578437672406743</p>	<p>53</p>	<p>निम्नलिखित श्रृंखला में कितने ऐसे 7 हैं जिनके ठीक पहले 6 है लेकिन ठीक बाद 4 नहीं है? 74276436753578437672406743</p>
<p>A. 1 B. 2 C. 4 D. 6</p>		<p>A. 1 B. 2 C. 4 D. 6</p>
<p>54 If in the examination hall, you find that the question paper is too tough to be answered satisfactorily by you, the best thing to do for you is to:</p>	<p>54</p>	<p>यदि परीक्षा हॉल में, आपको लगता है कि प्रश्नपत्र इतना कठिन है कि आप उसका संतोषजनक उत्तर नहीं दे सकते, तो आपके लिए सबसे अच्छी बात यह है कि:</p>
<p>A. tell the examiner that the questions are out of course. B. provoke the candidates to walk out of the examination hall. C. try to know something from your neighbor. D. try to solve the questions as much as you know with a cool head.</p>		<p>A. परीक्षक को बताएं कि प्रश्न पाठ्यक्रम से बाहर हैं। B. अभ्यर्थियों को परीक्षा हॉल से बाहर जाने के लिए उकसायेंगे। C. अपने पड़ोसी से कुछ जानने का प्रयास करेंगे। D. जितना आप जानते हैं उतने प्रश्नों को ठंडे दिमाग से हल करने का प्रयास करेंगे।</p>

The following question consists of some Problem Figures followed by other figures marked 1, 2, 3, 4 called the Answer Figures. Find out the correct answer figure that should come next in the sequence of problem figures.

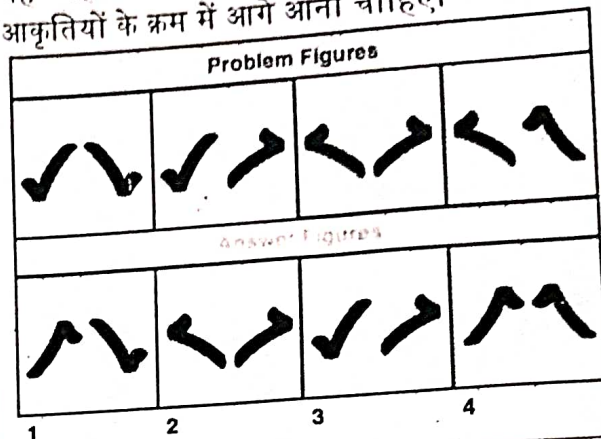


- A. 1
- B. 2
- C. 3
- D. 4

55

निम्नलिखित प्रश्न में कुछ समस्या चित्र हैं और उसके बाद 1, 2, 3, 4 चिह्नित अन्य चित्र हैं जिन्हें उत्तर चित्र कहा जाता है।


वह सही उत्तर आकृति ज्ञात कीजिए जो समस्या आकृतियों के क्रम में आगे आनी चाहिए।



- A. 1
- B. 2
- C. 3
- D. 4

56

The following question consists of some Problem Figures followed by other figures marked 1, 2, 3, 4 called the Answer Figures. Find out the correct answer figure that should come next in the sequence of problem figures.




- A. 1
- B. 2
- C. 3
- D. 4

56

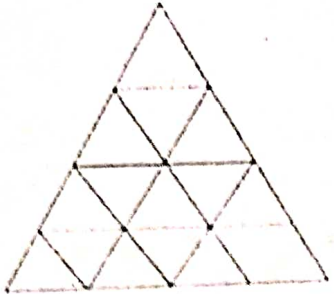
निम्नलिखित प्रश्न में कुछ समस्या चित्र हैं और उसके बाद 1, 2, 3, 4 चिह्नित अन्य चित्र हैं जिन्हें उत्तर चित्र कहा जाता है।

वह सही उत्तर आकृति ज्ञात कीजिए जो समस्या आकृतियों के क्रम में आगे आनी चाहिए।



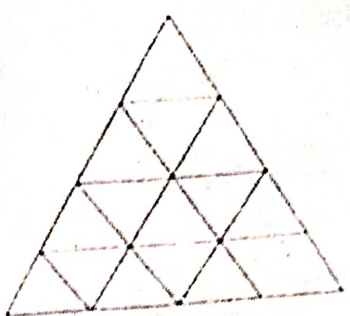
- A. 1
- B. 2
- C. 3
- D. 4

57 How many straight lines are there in the following figure?



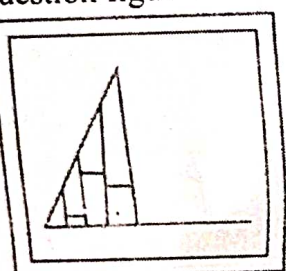
- A. 9
- B. 11
- C. 15
- D. 48

57 निम्नलिखित आकृति में कितनी साधा




- A. 9
- B. 11
- C. 15
- D. 48

58 In the following question, which answer figure will complete the question figure?
Question figure:




Answer figure:




1 2 3 4

- A. 1
- B. 2
- C. 3
- D. 4

58 निम्नलिखित प्रश्न में, कौन सी उत्तर आकृति प्रश्न आकृति को पूरा करेगी?
प्रश्न आकृति:




उत्तर आकृति:




1 2 3 4

- A. 1
- B. 2
- ~~C. 3~~
- D. 4

59 Find the answer figure which includes the question figure.
Question figure

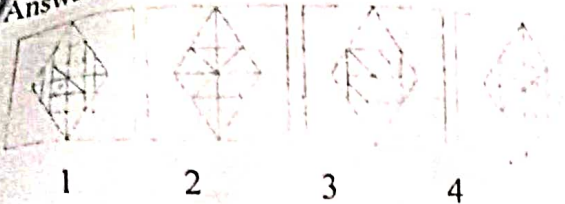


59 निम्नलिखित में से किस उत्तर आकृति में प्रश्न आकृति शामिल है?
प्रश्न आकृति:



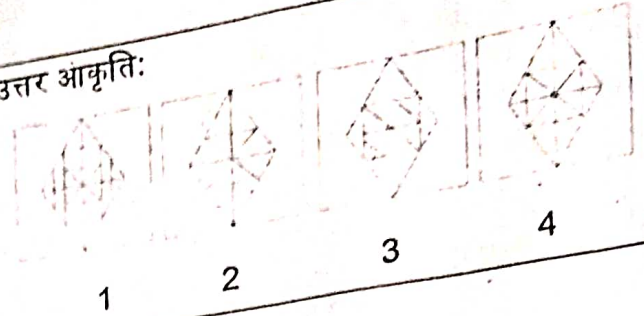
श्री श्री रेखांकन

Answer figure



- A. 1
- B. 2
- C. 3
- D. 4

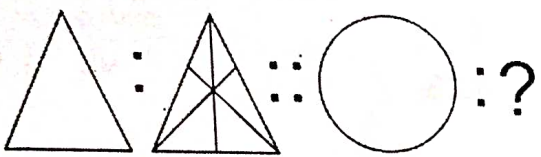
उत्तर आकृति:



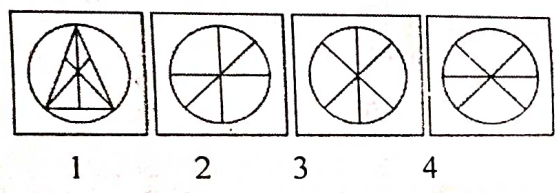
- A. 1
- ~~B. 2~~
- C. 3
- D. 4

From the given answer figures, find that answer figure which will replace the question mark in the question figure.

Question Figures



Answer Figures

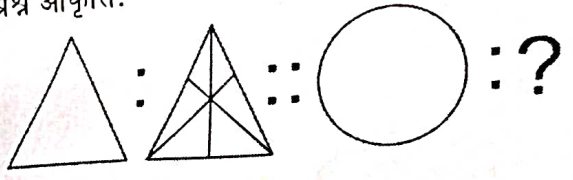


- A. 1
- B. 2
- C. 3
- D. 4

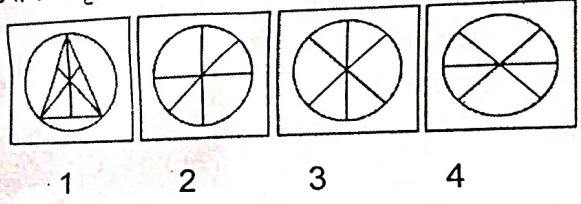
60

दी गई उत्तर आकृतियों में से वह उत्तर आकृति ज्ञात कीजिए जो प्रश्न आकृति में प्रश्न चिह्न को प्रतिस्थापित कर देगी।

प्रश्न आकृति:



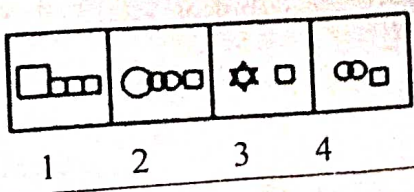

उत्तर आकृति:



- A. 1
- B. 2
- C. 3
- D. 4

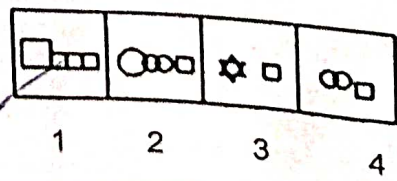
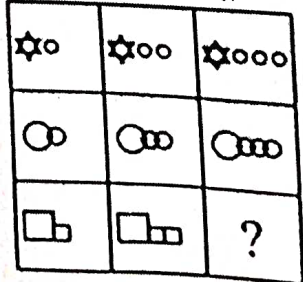
61

Select a suitable figure from the four alternatives that would complete the figure matrix.



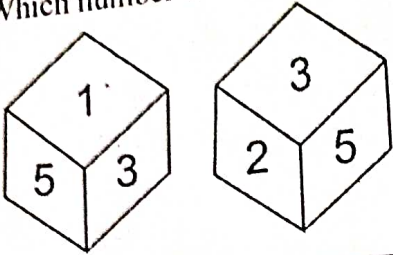
61

चार विकल्पों में से एक उपयुक्त आकृति का चयन करें जो आकृति मैट्रिक्स को पूरा करेगी।



- A. 1
- B. 2
- C. 3
- D. 4

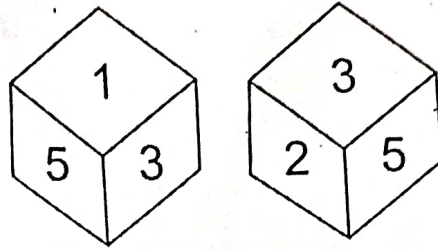
Which number is in opposite plane of 2?



62

- A. 1
- B. 2
- C. 3
- D. 4

2 के विपरीत तल में कौन सी संख्या है?

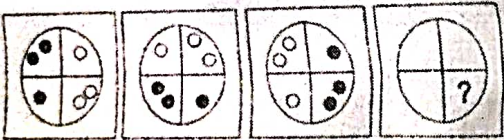


- A. 1
- B. 4
- C. 6
- D. 5

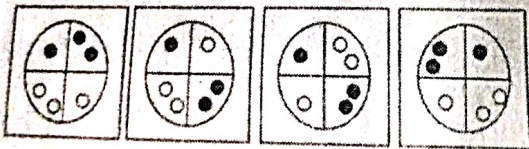
- A. 1
- B. 4
- C. 6
- ~~D. 5~~

3 From the given answer figures, find that answer figure which will replace the question mark in the question figure.

Question Figures



Answer Figures



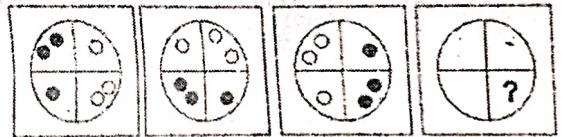
1 2 3 4

- A. 1
- B. 2
- C. 3
- D. 4

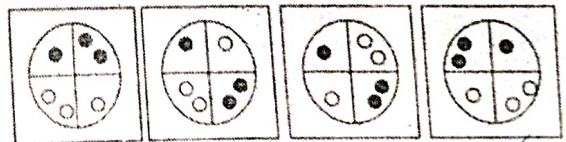
63

दी गई उत्तर आकृतियों में से वह उत्तर आकृति ज्ञात कीजिए जो प्रश्न आकृति में प्रश्न चिह्न को प्रतिस्थापित कर देगी।

प्रश्न आकृति:



उत्तर आकृति:



1 2 3 ~~4~~

- ~~A. 1~~
- B. 2
- C. 3
- ~~D. 4~~

64 From the given answer figures, find that answer figure which will replace the question mark in the question figure.

Question Figures




64

दी गई उत्तर आकृतियों में से वह उत्तर आकृति ज्ञात कीजिए जो प्रश्न आकृति में प्रश्न चिह्न को प्रतिस्थापित कर देगी।

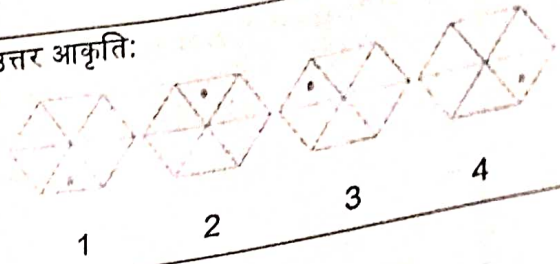
प्रश्न आकृति:



Answer Figures



उत्तर आकृति:



- A. 1
B. 2
C. 3
D. 4

- A. 1
B. 2
C. 3
D. 4

65 The Tropic of Cancer does not pass through which of Indian State

65 कर्क रेखा किस भारतीय राज्य से होकर नहीं गुजरती है ?

- A. Madhya Pradesh
B. West Bengal
C. Rajasthan
D. Odisha.

- A. मध्य प्रदेश
B. पश्चिम बंगाल
 C. राजस्थान
D. ओडिशा

66 The Nalanda University was founded by

66 नालंदा विश्वविद्यालय की स्थापना किसके द्वारा की गई थी?

- A. Samudra Gupta
B. Chandra Gupta
C. Kumar Gupta
D. Harsh Vardhana

- A. समुद्र गुप्त
B. चंद्र गुप्त
C. कुमार गुप्त
 D. हर्ष वर्धन

67 The Pass that connects Himachal Pradesh and Tibet is

67 हिमाचल प्रदेश और तिब्बत को जोड़ने वाला दर्रा कौन सा है?

- A. Shipki La
B. Nathula
C. Banihal
D. Jozilla

- A. शिपकी ला
B. नाथुला
 C. बनिहाल
D. जोजिला

68 Department of Official Language (Raj Bhasha Vibhag) comes under which one of the following Ministries?

68 राजभाषा विभाग निम्नलिखित में से किस मंत्रालय के अंतर्गत आता है?

- A. Ministry of Culture
B. Ministry of Home Affairs
C. Ministry of Human Resource Development
D. Ministry of Information and Broad Casting

- A. संस्कृति मंत्रालय
B. गृह मंत्रालय
C. मानव संसाधन विकास मंत्रालय
 D. सूचना एवं प्रसारण मंत्रालय

69	The Supreme Court has declared the internet a fundamental right under article of Indian Constitution ?	69	सर्वोच्च न्यायालय ने भारतीय संविधान के के तहत इंटरनेट तक पहुंच को माा अधिकार घोषित किया है?
	A.17 B.21 C.14 D.19		A.17 B.21 C.14 D.19
70	In which year Delhi became the capital of India ?	70	दिल्ली किस वर्ष भारत की राजधानी बनी?
	A. 1911 B.1912 C.1910 D.1905		A. 1911 B.1912 C.1910 D.1905
71	Who is the founder of Telegram?	71	टेलीग्राम के संस्थापक कौन हैं?
	A. Brian Acton B. Kevin Bharti Mittal C. Jan Koum D. Pavel Durov		A. ब्रायन एक्टन B. केविन भारती मित्तल C. जान कौम D. पावेल डुरोव
72	Aurobindo Ghosh was defended in the Alipore Bomb case by	72	अलीपुर बम कांड में अरविंदो घोष का वचाव किया गया था
	A. Bhula Ram Desai B. Bipin Chandra Pal C. Moti Lal Nehru D. C.R. Das		A. भूला राम देसाई द्वारा B. बिपिन चंद्र पाल द्वारा C. मोती लाल नेहरू द्वारा D. सी.आर.दाम द्वारा
73	A company, 'Y', falsely advertises its product as "environmentally friendly" to increase sales. This is an example of:	73	एक कंपनी, 'Y', विक्री बढ़ाने के लिए अपने उत्पाद को "पर्यावरण के अनुकूल" बताकर गलत तरीके से विज्ञापित करती है। यह इसका एक उदाहरण है:
	A. Unethical advertising B. Ethical business practice C. Social responsibility D. Environmental sustainability		A. अनैतिक विज्ञापन B. नैतिक व्यावसायिक व्यवहार C. सामाजिक जिम्मेदारी D. पर्यावरणीय स्थिरता
74	A company, 'P', prioritizes environmental sustainability and donates a portion of its profits to eco-friendly initiatives. This is an example of:	74	एक कंपनी, 'P', पर्यावरणीय स्थिरता को प्राथमिकता देती है और अपने मुनाफे का एक हिस्सा पर्यावरण-अनुकूल पहलों के लिए दान करती है। यह इसका एक उदाहरण है:

<p>प्रश्न को पढ़ें</p> <p>A) Corporate social responsibility B) Environmental exploitation C) Unethical business practice D) Financial greed</p>	<p>A) कॉर्पोरेट सामाजिक जिम्मेदारी B) पर्यावरण शोषण C) अनैतिक व्यावसायिक व्यवहार D) वित्तीय लालच</p>
<p>75 Evaluate: $5 \times (2 \times 34) \div 6 + 7 - 8$</p> <p>A. 132 B. 134 C. 232 D. 234</p>	<p>75 हल करें: $5 \times (2 \times 34) \div 6 + 7 - 8$</p> <p>A. 132 B. 134 C. 232 D. 234</p>
<p>76 Evaluate: $16[8 - \{5 - 2(\overline{2 - 1} + 1)\}]$</p> <p>A. 92 B. 112 C. 130 D. 144</p>	<p>76 हल करें: $16[8 - \{5 - 2(\overline{2 - 1} + 1)\}]$</p> <p>A. 92 B. 112 C. 130 D. 144</p>
<p>77 Evaluate: $16 + \frac{3}{4}$ of $[32 - 16 \div 4 \times 6 + \overline{23 - 11} + 3 - 2 \times 6] = ?$</p> <p>A. $89/4$ B. $77/4$ C. $97/4$ D. $81/4$</p>	<p>77 हल करें: $16 + \frac{3}{4}$ of $[32 - 16 \div 4 \times 6 + \overline{23 - 11} + 3 - 2 \times 6] = ?$</p> <p>A. $89/4$ B. $77/4$ C. $97/4$ D. $81/4$</p>
<p>78 Evaluate: $88\% \text{ of } 370 + 24\% \text{ of } 210 - ? = 118$</p> <p>A. 256 B. 258 C. 268 D. 358</p>	<p>78 हल करें: $88\% \text{ of } 370 + 24\% \text{ of } 210 - ? = 118$</p> <p>A. 256 B. 258 C. 268 D. 358</p>
<p>79 Two-fifths of one-third of three-seventh of a number is 15. What is 40 percent of that number?</p> <p>A. 72 B. 84 C. 136 D. None of these</p>	<p>79 किसी संख्या के तीन-सातवें भाग के एक-तिहाई का दो-पांचवां भाग 15 है। उस संख्या का 40 प्रतिशत क्या है?</p> <p>A. 72 B. 84 C. 136 D. इनमें से कोई नहीं</p>

80	A student multiplied a number by $\frac{3}{5}$ instead of $\frac{5}{3}$. What is the percentage error in the calculation?	80	एक छात्र ने किसी संख्या को $\frac{5}{3}$ के बजाय $\frac{3}{5}$ किया। गणना में प्रतिशत त्रुटि क्या है?
	A. 34% B. 44% C. 54% D. 64%		A. 34% B. 44% C. 54% D. 64%
81	A trader buys 100 units at Rs 50 each and sells them at Rs 60 each. What is his profit percent?	81	एक व्यापारी 100 इकाइयाँ 50 रुपये प्रति इकाई की दर से खरीदता है और उन्हें 60 रुपये प्रति इकाई की दर में बेचता है। उसका लाभ प्रतिशत क्या है?
	A. 10% B. 20% C. 25% D. 30%		A. 10% B. 20% C. 25% D. 30%
82	A sells an article to B at a profit of 20% and B sells it to C at a loss of 10%. If C pays Rs 540 for it, at what price did A buy?	82	A, B को एक वस्तु 20% लाभ पर बेचता है और B, C को 10% हानि पर बेचता है। यदि C इसके लिए 540 रुपये चुकाता है, तो A ने इसे किम कीमत पर खरीदा?
	A. 400 B. 500 C. 600 D. 700		A. 400 B. 500 C. 600 D. 700
83	When Ram sold his book for Rs 255 he made a loss of 15%. For how much he should have sold it if he wanted to make a profit of 5%?	83	जब राम ने अपनी किताब 255 रुपये में बेची तो उसे 15% की हानि हुई। यदि वह 5% का लाभ कमाना चाहता था तो उसे इसे कितने में बेचना चाहिए था?
	A. 275 B. 315 C. 295 D. 335		A. 275 B. 315 C. 295 D. 335
84	A person borrows Rs 8,000 at 5% per annum simple interest. What is the total amount payable after 4 years?	84	एक व्यक्ति 5% प्रति वर्ष साधारण ब्याज पर 8,000 रुपये उधार लेता है। 4 वर्ष बाद देय कुल राशि कितनी है?
	A. Rs 10,400 B. Rs 11,000 C. Rs 11,600 D. Rs 12,000		A. 10,400 रुपये B. 11,000 रुपये C. 11,600 रुपये D. 12,000 रुपये

If Rs 640 will Rs 80 same rate of

A. Rs 1
B. Rs 1

540
270
11

3) 255 85
24
15 255
15 85
340

50
200

<p>If Rs 640 amounts to Rs 832 in 2 years, what will Rs 860 amounts to in 4 years at the same rate of interest per annum?</p> <p>A. Rs 1736 B. Rs 1376 C. Rs 3176 D. Rs 3716</p>	<p>85 यदि 640 रुपये 2 वर्षों में 832 रुपये हो जाते हैं, तो समान वार्षिक ब्याज दर पर 860 रुपये 4 वर्षों में कितने हो जायेंगे?</p> <p>A. 1736 रुपये B. 1376 रुपये C. 3176 रुपये D. 3716 रुपये</p>
<p>86 The average height of the students of a class of 20 is 105cm. If ten more students of average height of 120 cm join the class, the average height of the class will become:</p> <p>A. 117.5 cm B. 115 cm C. 110 cm D. 112.5cm</p>	<p>86 20 छात्रों की एक कक्षा के छात्रों की औसत ऊंचाई 105 सेमी है। यदि 120 सेमी की औसत ऊंचाई वाले दस और छात्र कक्षा में शामिल हो जाते हैं, तो कक्षा की औसत ऊंचाई हो जाएगी:</p> <p>A. 117.5 सेमी B. 115 सेमी C. 110 सेमी D. 112.5 सेमी</p>
<p>87 A cricketer has a certain average for 10 innings. In the eleventh inning, he scored 108 runs, thereby increasing his average by 6 runs. His new average is</p> <p>A. 48 runs B. 52 runs C. 55 runs D. 60 runs</p>	<p>87 एक क्रिकेटर का 10 पारियों का एक निश्चित औसत है। ग्यारहवीं पारी में उसने 108 रन बनाए, जिससे उसका औसत 6 रन बढ़ गया। उसका नया औसत है</p> <p>A. 48 रन B. 52 रन C. 55 रन D. 60 रन</p>
<p>88 Find the average of all the numbers between 6 and 34 which are divisible by 5</p> <p>A. 18 B. 20 C. 24 D. 30</p>	<p>88 6 और 34 के बीच की सभी संख्याओं का औसत ज्ञात करें जो 5 से विभाज्य हैं</p> <p>A. 18 B. 20 C. 24 D. 30</p>
<p>89 Ten men can do a piece of work in 12 days. How many men are needed to complete the work in 20 days?</p> <p>A. 4 B. 3 C. 6 D. 8</p>	<p>89 दस आदमी एक काम को 12 दिन में कर सकते हैं। उसी काम को 20 दिन में पूरा करने के लिए कितने आदमियों की आवश्यकता होगी?</p> <p>A. 4 B. 3 C. 6 D. 8</p>

90	<p>P and Q can do a piece of work in 30 and 40 days respectively. They began the work together, but P left after some days and Q finished the remaining work in 12 days. After how many days did P leave?</p>	90	<p>P और Q किसी काम को क्रमशः 30 और 40 दिनों में पूरा कर सकते हैं। उन्होंने एक साथ काम शुरू किया, लेकिन P कुछ दिनों बाद काम छोड़ देता है और Q शेष काम 12 दिनों में पूरा करता है। P ने कितने दिनों बाद काम छोड़ा?</p>
	<p>A. 8 days B. 10 days C. 12 days D. 14 days</p>		<p>A. 8 दिन B. 10 दिन C. 12 दिन D. 14 दिन</p>
91	<p>A bus travels for 7 hours, the first half at 30 km/hr and the second half at 40 km/hr. Find the distance.</p>	91	<p>एक बस 7 घंटे यात्रा करती है, पहला आधा भाग 30 किमी/घंटा और दूसरा आधा भाग 40 किमी/घंटा की गति से। दूरी ज्ञात कीजिए।</p>
	<p>A. 210 B. 220 C. 230 D. 240</p>		<p>A. 210 B. 220 C. 230 D. 240</p>
92	<p>The distance between two cities A and B is 330 Km. A train starts from A at 8 a.m. and travel towards B at 60 km/hr. Another train starts from B at 9 a.m and travels towards A at 75 Km/hr. At what time do they meet?</p>	92	<p>दो शहरों A और B के बीच की दूरी 330 किलोमीटर है। एक ट्रेन सुबह 8 बजे A से शुरू होती है और 60 किलोमीटर/घंटा की गति से B की ओर जाती है। दूसरी ट्रेन सुबह 9 बजे B से शुरू होती है और 75 किलोमीटर/घंटा की गति से A की ओर जाती है। वे किस समय मिलते हैं?</p>
	<p>A. 10 am B. 11 am C. 12 pm D. 1 pm</p>		<p>A. सुबह 10 बजे B. सुबह 11 बजे C. दोपहर 12 बजे D. दोपहर 1 बजे</p>
93	<p>If 4 machines can produce 240 units in 6 hours, how many units can 8 machines produce in 9 hours?</p>	93	<p>यदि 4 मशीनें 6 घंटे में 240 इकाइयाँ उत्पादित कर सकती हैं, तो 8 मशीनें 9 घंटे में कितनी इकाइयाँ उत्पादित कर सकती हैं?</p>
	<p>A. 480 B. 640 C. 720 D. 960</p>		<p>A. 480 B. 640 C. 720 D. 960</p>

<p>कमरा: 30 और 41 माध्य काम शुरू</p> <p>2000 soldiers in a fort had enough food for 20 days. But some soldiers were transferred to another fort and the food lasted for 25 days. How many soldiers were transferred?</p>	<p>94 एक किले में 2000 सैनिकों के पास 20 दिनों के लिए पर्याप्त भोजन था। लेकिन कुछ सैनिकों को दूसरे किले में स्थानांतरित कर दिया गया और भोजन 25 दिनों तक चला। कितने सैनिकों को स्थानांतरित किया गया?</p>
<p>A. 400 B. 450 C. 525 D. 500</p>	<p>A. 400 B. 450 C. 525 D. 500</p>
<p>95 There is certain relation between two given words on one side of :: and one word is given on the other side of :: while other word is to be found from the given alternatives, having the same relation with this word as the given pair of words bear. Choose the best alternative. Fossils: Creatures :: Mummies: ?</p>	<p>95 :: के एक तरफ दिए गए दो शब्दों के बीच एक निश्चित संबंध है और :: के दूसरी तरफ एक शब्द दिया गया है, जबकि दूसरा शब्द दिए गए विकल्पों में से पाया जाना है, जिसका इस शब्द के साथ दिए गए जोड़े के समान संबंध है। सर्वोत्तम विकल्प का चयन करें। जीवाश्म: जीव-जंतु :: ममियाँ: ?</p>
<p>A. Egypt B. Human beings C. Animals D. Martyrs</p>	<p>A. मिस्र B. मनुष्य C. पशु D. शहीद</p>
<p>96 The following question consist of two words each that have a certain relationship to each other, followed by four lettered pair of words. Select the lettered pair that has the same relationship as the original pair of words. Iodine: Goitre</p>	<p>96 निम्नलिखित प्रश्न में दो शब्द शामिल हैं जिनका एक-दूसरे से एक निश्चित संबंध है, इसके बाद चार शब्दों की जोड़ी हैं। उस अक्षर युग्म का चयन करें जिसमें शब्दों के मूल युग्म के समान संबंध हो। आयोडीन: घेंघा</p>
<p>A. Insuline : Diabetes B. Mango : Anaemia C. Hormones : Haemophilia D. Fat : Obesity</p>	<p>A. इंसुलिन: मधुमेह B. आम : एनीमिया C. हार्मोन: हीमोफीलिया D. वसा : मोटापा</p>
<p>97 Choose the word which is different from the rest.</p> <p>A. Mercury B. Venus C. Earth D. Sun</p>	<p>97 उस शब्द का चयन कीजिए जो अन्य से भिन्न है।</p> <p>A. बुध B. शुक C. पृथ्वी D. रवि</p>

98	<p>Select the number that will come next in the following sequence: 1, 2, 4, 7, 11, 16, (?)</p>	98	<p>निम्नलिखित क्रम में आगे आने वाली संख्या का चयन करें: 1, 2, 4, 7, 11, 16, (?)</p>
	<p>A. 22 B. 23 C. 24 D. 25</p>		<p>A. 22 B. 23 C. 24 D. 25</p>
99	<p>In the following question, various terms of a letter series are given with one term missing as shown by (?). Choose the missing term out of the given alternative AZ, BY, CX, ?</p>	99	<p>निम्नलिखित प्रश्न में, एक अक्षर श्रृंखला के विभिन्न पद दिए गए हैं जिनमें एक पद लुप्त है जैसा कि (?) द्वारा दर्शाया गया है। दिए गए विकल्प में से लुप्त पद चुनिए AZ, BY, CX, ?</p>
	<p>A. EF B. GH C. IJ D. DW</p>		<p>A. EF B. GH C. IJ D. DW</p>
100	<p>If in a certain language NATURE is code as MASUQE, how is FAMINE coded in that code?</p>	100	<p>यदि किसी निश्चित कोड में NATURE को MASUQE लिखा जाता है, तो उस कोड में FAMINE को कैसे कोडित किया जाएगा?</p>
	<p>A. FBMJND B. FZMHND C. GANIOE D. EALIME</p>		<p>A. FBMJND B. FZMHND C. GANIOE D. EALIME</p>
