

Roll No.
Time: 120 Minutes

Tamil Nadu Circle – 21.07.2024

Marks: 100x1 = 100 Marks

1	The Abdul Kalam Island is located off the coast of: (A) Gujarat (B) West Bengal (C) Odisha (D) Punjab	1	அப்துல் கலாம் தீவு எந்த கடற்கரையில் அமைந்துள்ளது: (A) குஜராத் (B) மேற்கு வங்காளம் (C) ஒடிசா (D) பஞ்சாப்
2	Select the most suitable answer. Holders of public office must take decisions solely: (A) in terms of public interest (B) by balancing public and private interests (C) serving the interests of the poor (D) serving the interest of the organization they serve in	2	மிகப் பொருத்தமான பதிலைத் தேர்ந்தெடுக்கவும். பொது பதவியில் இருப்பவர்கள் முடிவுகளை _____ மூலம் மட்டுமே எடுக்க வேண்டும் (A) பொது நலன் அடிப்படையில் (B) பொது மற்றும் தனியார் நலன்களை சமநிலைப்படுத்துவதன் மூலம் (C) ஏழைகளின் நலன்களுக்கு சேவை செய்தல் (D) அவர்கள் பணியாற்றும் அமைப்பின் நலன்களுக்கு சேவை செய்தல்
3	The 2024 General Elections were conducted to elect the _____ Lok Sabha: (A) 16th (B) 17th (C) 18th (D) 19th	3	2024 பொதுத் தேர்தல்கள் _____ மக்களவையைத் தேர்ந்தெடுப்பதற்காக நடத்தப்பட்டன (A) 16வது (B) 17வது (C) 18வது (D) 19வது
4	Patachitra is a form of painting practised in: (A) Punjab (B) Bihar (C) Odisha (D) West Bengal	4	படசிதிரா என்ற ஒரு வகை ஓவியம் _____-ல் வழக்கத்தில் உள்ளது (A) பஞ்சாப் (B) பீகார் (C) ஒடிசா (D) மேற்கு வங்காளம்
5	The first Indian freedom fighter to hoist the Indian flag was: (A) Pundit Jawaharlal Nehru (B) Sarojini Naidu (C) Madam Bhikaji Cama (D) Annie Mascarene	5	இந்தியக் கொடியை ஏற்றிய முதல் இந்திய சுதந்திரப் போராட்ட வீரர்: (A) பண்டித ஜவஹர்லால் நேரு (B) சரோஜினி நாயுடு (C) மேடம் பிகாஜி காமா (D) அன்னி மஸ்கரீன்
6	Surya Sen was associated with: (A) The Swadeshi Movement (B) The Indian National Army (C) The Chittagong Armoury Raid (D) Annie Mascarene	6	சூர்யா சென் எதனுடன் தொடர்புடையவர் (A) சுதேசி இயக்கம் (B) இந்திய தேசிய இராணுவம் (C) சிட்டகாங் ஆயுதக் களஞ்சியம் (D) அன்னி மஸ்கரீன்
7	The Allah's Bund is situated in (A) Lahore, Pakistan (B) Kutch, Gujarat (C) Mecca, Saudi Arabia (D) Jerusalem, Israel	7	அல்லாஹ்வின் பந்தல் எங்கு அமைந்துள்ளது (A) லாகூர், பாகிஸ்தான் (B) கட்ச், குஜராத் (C) மெக்கா, சவுதி அரேபியா (D) ஜெருசலேம், இஸ்ரேல்
8	The Directive Principles of State Policy are mentioned in _____ of our Constitution: (A) Part III (B) Part IV (C) Part V (D) Part IX	8	மாநிலக் கொள்கையின் வழிகாட்டு கோட்பாடுகள் நமது அரசியலமைப்பின் _____-ல் குறிப்பிடப்பட்டுள்ளன (A) பகுதி III (B) பகுதி IV (C) பகுதி V (D) பகுதி IX
9	Which of the following is not one of the three pillars of democracy: (A) Bureaucracy (B) Judiciary (C) Legislature (D) Executive	9	பின்வருவனவற்றில் எது ஜனநாயகத்தின் மூன்று தூண்களில் ஒன்றல்ல (A) அதிகாரத்துவம் (B) நீதித்துறை (C) சட்டமன்றம் (D) நிர்வாகி
10	Dr. Muthulakshmi Reddy started an orphanage known as: (A) Saraswathi Illam (B) Anbu Illam (C) Lakshmi Illam (D) Avvai Illam	10	டாக்டர் முத்துலட்சுமி ரெட்டி தொடங்கிய அனாதை இல்லம் (A) சரஸ்வதி இல்லம் (B) அன்பு இல்லம் (C) லட்சுமி இல்லம் (D) அவ்வை இல்லம்

Roll No.

Tamil Nadu Circle – 21.07.2024

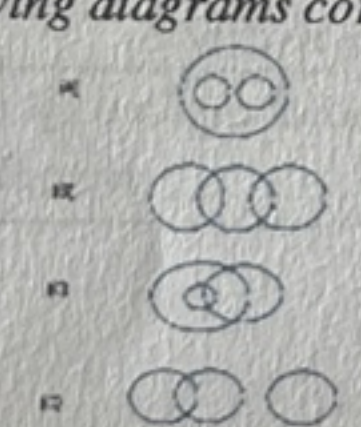

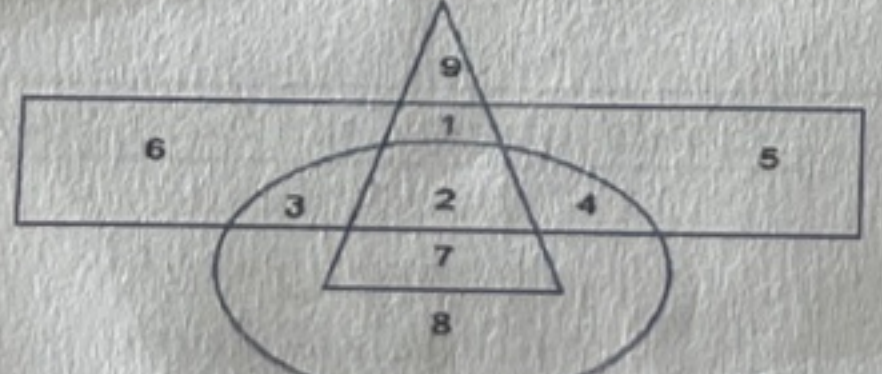
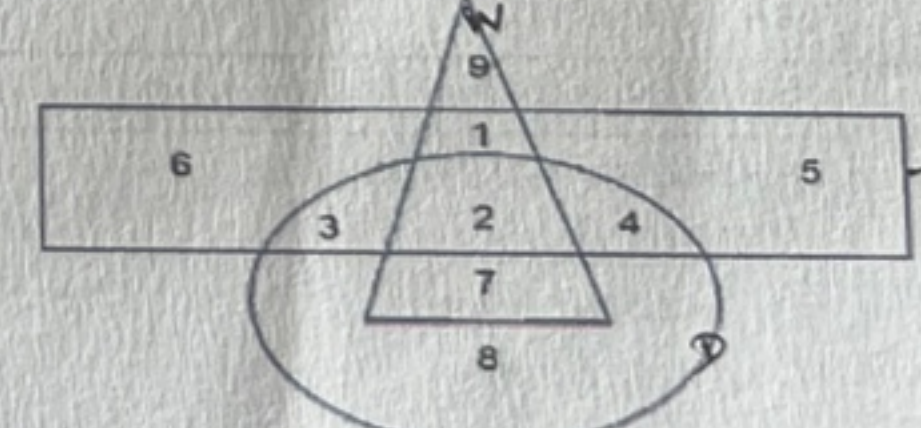
Marks: 100x1 = 100 Marks

Time: 120 Minutes

Read the following information carefully and answer the questions that follow:

$A + B$ means A is the son of B. $A - B$ means A is the wife of B. $A \times B$ means A is the brother of B. $A \div B$ means A is the mother of B and $A = B$ means A is the sister of B.

பின்வரும் தகவலை கவனமாகப் படித்து பின்வரும் கேள்விகளுக்கு பதிலளிக்கவும்:
 $A + B$ என்றால் A என்பது B இன் மகன். $A - B$ என்றால் A என்பது B இன் மனைவி. $A \times B$ என்றால் A என்பது B யின் சகோதரர். $A \div B$ என்றால் A என்பது B யின் தாய் என்றும் $A = B$ என்றால் A என்பது B யின் சகோதரி என்றும் பொருள்படும்.

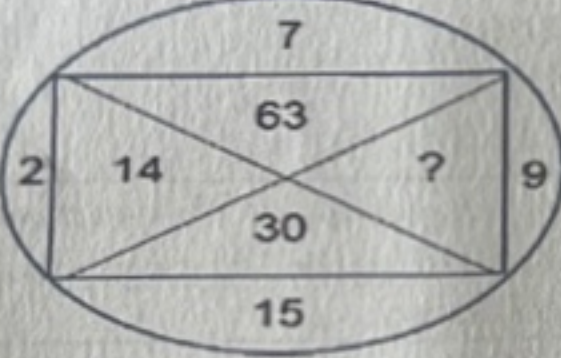
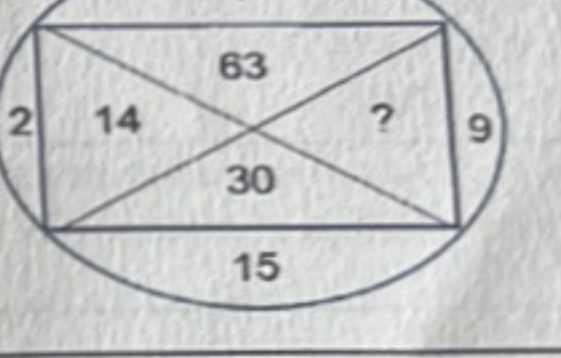
- | | | | |
|----|---|----|---|
| 11 | What does $P + R - Q$ mean?
(A) Q is the father of P
(B) Q is the son of P
(C) Q is the uncle of P
(D) Q is the brother of P | 11 | $P + R - Q$ என்றால் என்ன பொருள்படும்?
(A) Q என்பது P இன் தந்தை
(B) Q என்பது P இன் மகன்
(C) Q என்பது P இன் மாமா
(D) Q என்பது P இன் சகோதரர் |
| 12 | What does $P \times R \div Q$ mean?
(A) P is the brother of R
(B) P is the father of Q
(C) P is the uncle of Q
(D) P is the nephew of Q | 12 | $P \times R \div Q$ என்றால் என்ன பொருள்படும்?
(A) P என்பது R இன் சகோதரர்
(B) P என்பது Q இன் தந்தை
(C) P என்பது Q இன் மாமா
(D) P என்பது Q இன் மருமகன் |
| 13 | What does $P = R + Q$ mean?
(A) P is the aunt of Q
(B) P is the daughter of Q
(C) P is the niece of Q
(D) P is the sister of Q | 13 | $P = R + Q$ என்றால் என்ன?
(A) P என்பது Q இன் அத்தை
(B) P என்பது Q இன் மகள்
(C) P என்பது Q இன் மருமகள்
(D) P என்பது Q இன் சகோதரி |
| 14 | What does $P = R \div Q$ mean?
(A) P is the aunt of Q
(B) P is the sister of Q
(C) Q is the niece of P
(D) Q is the daughter of P | 14 | $P = R \div Q$ என்றால் என்ன?
(A) P என்பது Q இன் அத்தை
(B) P என்பது Q இன் சகோதரி
(C) Q என்பது P இன் மருமகள்
(D) Q என்பது P இன் மகள் |
| 15 | A child is looking for his father. He went 90 metres in the east before turning to his right. He went 20 metres before turning to his right again to look for his father at his uncle's place 30 metres from this point. His father was not there. From there, he went 100 metres to his north before meeting his father in a street. How far did the son meet the father from the starting point?
(A) 80 metres
(B) 100 metres
(C) 140 metres
(D) 260 metres | 15 | ஒரு குழந்தை தன் தந்தையைத் தேடுகிறான். அவன் தனது வலதுபுறம் திரும்புவதற்கு முன் கிழக்கில் 90 மீட்டர் சென்றான். அவன் மீண்டும் வலதுபுறம் திரும்புவதற்கு முன் 20 மீட்டர் முன் சென்று அந்த இடத்திலிருந்து 30 மீட்டர் தொலைவில் உள்ள தனது மாமாவின் இடத்தில் தனது தந்தையைத் தேடுவதற்காக சென்றான். அவரது தந்தை அங்கு இல்லை. அங்கிருந்து அவன் தந்தையை ஒரு தெருவில் சந்திக்கும் முன், 100 மீட்டர் தூரம் வடக்கே சென்றான். தொடக்கப் புள்ளியிலிருந்து மகன் தந்தையை எவ்வளவு தூரத்தில் சந்தித்தான்?
(A) 80 மீட்டர்
(B) 100 மீட்டர்
(C) 140 மீட்டர்
(D) 260 மீட்டர் |
| 16 | Which of the following diagrams correctly represents Elephants, Wolves, Animals?
 | 16 | பின்வரும் வரைபடங்களில் எது யானைகள், ஓநாய்கள், விலங்குகள் ஆகியவற்றை சரியாகக் குறிக்கிறது?
 |
| 17 | In the figure given below, the triangle represents women, the rectangle represents the employed and the circle represents doctors. Find out the area of the figure which represents women doctors who are not employed.
 | 17 | கீழே கொடுக்கப்பட்டுள்ள படத்தில், முக்கோணம் பெண்களையும், செவ்வகம் பணியாளரையும், வட்டம் மருத்துவர்களையும் குறிக்கிறது. பணியில் இல்லாத பெண் மருத்துவர்களைக் குறிக்கும் உருவத்தின் பகுதியைக் கண்டறியவும்
 |

Roll No.

Time: 120 Minutes



Tamil Nadu Circle – 21.07.2024

Marks: 100x1 = 100 Marks

18	If in the word DISTURBANCE, the first letter is interchanged with the last letter, the second one is interchanged with the tenth one and so on, which letter will come after the letter "T" in the newly formed word? (A) I (B) N (C) S (D) U	18	எனது சொல் 'DISTURBANCE' என்ற வார்த்தையில் முதல் எழுத்தை கடைசி எழுத்து எனவும், இரண்டாவது எழுத்தை பத்தாவது எழுத்து எனவும், மற்ற எழுத்துக்களையும் அதே வரிசையில் மாற்றி போடப்பட்டு, புதிதாக உருவாகும் வார்த்தையில் "T" என்ற எழுத்துக்குப் பிறகு எந்த எழுத்து வரும்? (A) I (B) N (C) S (D) U
19	Arrange the following in a meaningful order, from particular to general: 1. Family 2. Community 3. Member 4. Locality 5. Country (A) 3, 1, 2, 4, 5 (B) 3, 1, 2, 5, 4 (C) 3, 1, 4, 2, 5 (D) 3, 1, 4, 5, 2	19	பின்வருவனவற்றை ஒரு அர்த்தமுள்ள வரிசையில் குறிப்பிட்டதிலிருந்து பொது வரை வரிசைப்படுத்துங்கள். 1. குடும்பம் 2. சமூகம் 3. உறுப்பினர் 4. வட்டாரம் 5. நாடு (A) 3, 1, 2, 4, 5 (B) 3, 1, 2, 5, 4 (C) 3, 1, 4, 2, 5 (D) 3, 1, 4, 5, 2
20	A man has a certain number of small boxes to pack into parcels. If he packs 3, 4, 5 or 6 boxes in a parcel, he is left with one over; if he packs 7 boxes in a parcel, none is left over. What is the number of boxes he may have to pack? (A) 106 (B) 301 (C) 309 (D) 400	20	ஒரு நபரிடம் பார்சல்களில் அடைக்க குறிப்பிட்ட எண்ணிக்கையிலான சிறிய பெட்டிகள் உள்ளன. அவர் ஒரு பார்சலில் 3, 4, 5 அல்லது 6 பெட்டிகளை அடைத்தால், அவருக்கு ஒரு பெட்டி மிச்சமாகும்; அவர் 7 பெட்டிகளை ஒரு பார்சலில் அடைத்தால், எதுவும் மிச்சமில்லை. அவர் பேசு செய்ய வேண்டிய பெட்டிகளின் எண்ணிக்கை என்ன? (A) 106 (B) 301 (C) 309 (D) 400
21	Find the missing character in the following figure 	21	பின்வரும் படத்தில் விடுபட்ட எழுத்தைக் கண்டறியவும் 
22	Viralimalai Wildlife Sanctuary is situated in: (A) Madurai District (B) Tiruchirappalli District (C) Kancheepuram District (D) Nilgiris District	22	விராலிமலை வனவிலங்கு சரணாலயம் எங்கு அமைந்துள்ளது (A) மதுரை மாவட்டம் (B) திருச்சிராப்பள்ளி மாவட்டம் (C) காஞ்சிபுரம் மாவட்டம் (D) நீலகிரி மாவட்டம்
23	Madras State was renamed as Tamilnadu on: (A) 14th January, 1969 (B) 14th January, 1950 (C) 14th January, 1968 (D) 14th January, 1965	23	மெட்ராஸ் மாநிலம் தமிழ்நாடு என எப்போது மறுபெயரிடப்பட்டது (A) ஜனவரி 14, 1969 (B) ஜனவரி 14, 1950 (C) ஜனவரி 14, 1968 (D) ஜனவரி 14, 1965
24	Rajanikant can build a boat in 20 days while Surya can do it in 30 days. How many days will they take to build it together? (A) 10 days (B) 12 days (C) 15 days (D) 18 days	24	ராஜனிகாந்த் 20 நாட்களில் படகை உருவாக்குவார். சூர்யா அதை 30 நாட்களில் செய்வார். அவர்கள் சேர்ந்து உருவாக்க எத்தனை நாட்கள் ஆகும்? (A) 10 நாட்கள் (B) 12 நாட்கள் (C) 15 நாட்கள் (D) 18 நாட்கள்
25	Rajarajan is 6 times as old as his son Rajendran. After 4 years, he will be 4 times as old as his son. What are their present ages? (A) 30, 5 (B) 36, 6 (C) 48, 8 (D) 24, 4	25	ராஜராஜனுக்கு அவரது மகன் ராஜேந்திரனை விட 6 மடங்கு வயது. 4 ஆண்டுகளுக்குப் பிறகு, அவர் தனது மகனை விட 4 மடங்கு அதிகமாக இருப்பார். அவர்களின் தற்போதைய வயது என்ன? (A) 30, 5 (B) 36, 6 (C) 48, 8 (D) 24, 4
26	The average marks of 10 students is "X". If each student increases her score by 10%, then "X": (A) is increased by 10% (B) is increased by 10 (C) remains unchanged (D) cannot say	26	10 மாணவர்களின் சராசரி மதிப்பெண்கள் "X" ஆகும். ஒவ்வொரு மாணவரும் தனது மதிப்பெண்ணை 10% அதிகரித்தால், "X" என்பது (A) 10% அதிகரித்துள்ளது (B) 10 ஆல் அதிகரிக்கப்பட்டுள்ளது (C) மாறாமல் உள்ளது (D) கூற இயலாது

Roll No.

Time: 120 Minutes

27	Jaya bought two boxes of laddus, the same number in each box. She bought the first box of laddus at ₹ 5 a piece, but the second at 3 for ₹ 13. She then mixed them all together and sold them to Janaki at ₹ 70 a dozen. Find her profit %.	27	ஜெயா ஒவ்வொரு பெட்டியிலும் சம எண்ணிக்கையுடைய லட்டுக்கள் இருந்த இரண்டு பெட்டி லட்டுகளை வாங்கினாள். முதல் லட்டு பெட்டியை ஒரு லட்டு ₹ 5க்கு வாங்கினாள், ஆனால் இரண்டாம் பெட்டியை 3 லட்டு ₹ 13 விலை வாங்கினாள். பிறகு அவைத்தையும் ஒன்றாகக் கலந்து ஜானகிக்கு ஒரு டஜனுக்கு ₹ 70-விலை விற்காள். அவளது லாப சதவிகிதத்தை % கண்டுபிடி.
	(A) 20% (B) 25% (C) 15% (D) A loss of 18%		(A) 20% (B) 25% (C) 15% (D) 18% இழப்பு
28	$5(10+15 \div 5 \times 4 - 2 \times 2) =$	28	$5(10+15 \div 5 \times 4 - 2 \times 2) =$
	(A) 90 (B) 95 (C) 80 (D) 85		(A) 90 (B) 95 (C) 80 (D) 85
29	Personal commitment to work hard and do one's very best is associated with which of the following?	29	கடினமாக உழைக்கவும் மற்றும் ஒருவரின் சிறந்ததைச் செய்வதற்குமான தனிப்பட்ட அர்ப்பணிப்பு, பின்வருவனவற்றில் எதுடன் தொடர்புடையது?
	(A) Confidentiality (B) Loyalty (C) Work ethic (D) Impartiality		(A) இரகசியத்தன்மை (B) விகவாசம் (C) பணி நெறிமுறை (D) பாரபட்சமற்ற தன்மை
30	The salary of 9 workers is ₹ 27,000. What will be the salary of 4 workers?	30	9 தொழிலாளர்களின் சம்பளம் ₹ 27,000. 4 தொழிலாளர்களின் சம்பளம் என்னவாக இருக்கும்?
	(A) ₹ 12,000 (B) ₹ 4,000 (C) ₹ 9,000 (D) ₹ 15,000		(A) ₹ 12,000 (B) ₹ 4,000 (C) ₹ 9,000 (D) ₹ 15,000
31	Mr. Ajay has invested an amount of ₹ 9,000 for 5 years at a simple interest of 5% per annum. The interest earned will be:	31	திரு அஜய் ஆண்டுக்கு 5% என்ற தனி வட்டியில் ₹ 9,000 தொகையை 5 ஆண்டுகளுக்கு முதலீடு செய்துள்ளார். பெறப்பட்ட வட்டி பின்வருமாறு
	(A) ₹ 2,000 (B) ₹ 2150 (C) ₹ 2250 (D) ₹ 2350		(A) ₹ 2000 (B) ₹ 2150 (C) ₹ 2250 (D) ₹ 2350
32	An MMS driver has to deliver parcel bags 260 km away in 4 hours. He drives the MMS van at a speed of 56 km/hr for the first 75 minutes and the next 90 km at a speed of 60 km/hr. At what speed (in km/hr) must he drive the remaining distance to make the delivery on time?	32	ஒரு MMS ஓட்டுநர் 4 மணி நேரத்தில் 260 கிமீ தொலைவில் பார்சல் பைகளை டெலிவரி செய்ய வேண்டும். MMS வேளை முதல் 75 நிமிடங்களுக்கு 56 கிமீ வேகத்திலும், அடுத்த 90 கிமீ மீட்டரை 60 கிமீ வேகத்திலும் ஓட்டுகிறார். சரியான நேரத்தில் டெலிவரி செய்ய மீதமுள்ள தூரத்தை எந்த வேகத்தில் (கிமீ மணியில்) ஓட்ட வேண்டும்?
	(A) 78 (B) 75 (C) 80 (D) 70		(A) 78 (B) 75 (C) 80 (D) 70
33	Find the number of triangles in the given figure:	33	கொடுக்கப்பட்ட படத்தில் உள்ள முக்கோணங்களின் எண்ணிக்கையைக் கண்டறியவும்
			
	(A) 28 (B) 12 (C) 25 (D) 13		(A) 28 (B) 12 (C) 25 (D) 13
34	Virology : Virus :: Semantics : ?	34	வைராலஜி : வைரஸ் :: செமான்டிக்ஸ் : ?
	(A) Amoeba (B) Language (C) Nature (D) Society		(A) அமீபா (B) மொழி (C) இயற்கை (D) சமூகம்

Roll No.
Time: 120 Minutes

Tamil Nadu Circle – 21.07.2024

Marks: 100x1 = 100 Marks

35	Pick the odd one out: (A) Arrow (B) Axe (C) Dagger (D) Sword	35	வேறுபட்ட ஒன்றைத் தேர்ந்தெடுக்கவும்: (A) அம்பு (B) கோடாரி (C) குத்துவாள் (D) வாள்
36	Which number comes next in the sequence: 0, 6, 24, 60, 120, 210, ? (A) 240 (B) 290 (C) 336 (D) 504	36	இந்த வரிசையில் அடுத்து வரும் எண்: 0, 6, 24, 60, 120, 210, ? (A) 240 (B) 290 (C) 336 (D) 504
37	Choose the term which will continue the following series: P 3 C, R 5 F, T 8 I, V 12 L, ? (A) Y 17 O (B) X 17 M (C) X 17 O (D) X 16 M	37	பின்வரும் தொடரைத் தொடரும் சொல்லைத் தேர்ந்தெடுக்கவும்: P 3 C, R 5 F, T 8 I, V 12 L, ? (A) Y 17 O (B) X 17 M (C) X 17 O (D) X 16 M
38	If BOMBAY is written as MYMYMY in a certain language, TAMILNADU can be written in the same language as: (A) TIATIATIA (B) MNUMNUMNU (C) IATIATIAT (D) ALDALDALD	38	BOMBAY என்பது ஒரு குறிப்பிட்ட மொழியில் MYMYMY என்று எழுதப்பட்டால், அதே மொழியில் TAMILNADU என்பதை எவ்வாறு எழுதலாம்: (A) TIATIATIA (B) MNUMNUMNU (C) IATIATIAT (D) ALDALDALD
39	If pen is table, table is fan, fan is chair, and chair is roof, on which of the following will a person sit? (A) fan (B) chair (C) roof (D) pen	39	பேனா என்பது மேசை, மேசை என்பது விசிறி, விசிறி என்பது நாற்காலி, நாற்காலி என்பது கூரை எனில், பின்வருவனவற்றில் எதில் ஒருவர் அமர்வார்? (A) விசிறி (B) நாற்காலி (C) கூரை (D) பேனா
40	Pointing out to a lady, Rajan said, "She is the daughter of the woman who is the mother of the husband of my mother." Who is the lady to Rajan? (A) Aunt (B) Grand daughter (C) Daughter (D) Sister	40	ஒரு பெண்ணை சுட்டிக் காட்டி, "அவள் என் அம்மாவின் கணவனின் தாயான பெண்ணின் மகள்" என்றான். ராஜனுக்கு அந்த பெண் யார்? (A) அத்தை (B) பேத்தி (C) மகள் (D) சகோதரி
41	In Presidency School, 75% per cent of the students pass and 20 fail in the examination. In Vidya Niketan School, 20 more students appear and 10 more pass the examination than those who do the same in Presidency School. The pass percentage of Vidya Niketan School is: (A) 60% (B) 70% (C) 75% (D) 65%	41	பிரசிடென்சி பள்ளியில் 75 சதவீத மாணவர்கள் தேர்ச்சியும், 20 பேர் தேர்வில் தோல்வியும் அடைந்துள்ளனர். வித்யா நிகேதன் பள்ளியில், பிரசிடென்சி பள்ளியில் படிப்பவர்களை விட 20 மாணவர்கள் கூடுதலாகத் தேர்வெழுதி 10 பேர் அதிகம் தேர்ச்சி பெற்றுள்ளனர். வித்யா நிகேதன் பள்ளியின் தேர்ச்சி சதவீதம் (A) 60% (B) 70% (C) 75% (D) 65%
42	The individual weight (in kgs) of 10 players of the Tamil Super Stars cricket team are 54, 55, 56, 57, 58, 59, 60, 61, 62 and 63. Calculate the average weight (in kgs): (A) 56.5 (B) 57.5 (C) 58.5 (D) 59.5	42	தமிழ் சூப்பர் ஸ்டார்ஸ் கிரிக்கெட் அணியின் 10 வீரர்களின் தனிப்பட்ட எடை (கிலோவில்) 54, 55, 56, 57, 58, 59, 60, 61, 62 மற்றும் 63 ஆகும். சராசரி எடையைக் கணக்கிடுக (கிலோவில்) (A) 56.5 (B) 57.5 (C) 58.5 (D) 59.5
43	The average of 25 results is 18. The average of the first twelve of them is 14 and that of the last twelve is 17. Find the thirteenth result: (A) 74 (B) 78 (C) 72 (D) 76	43	25 முடிவுகளின் சராசரி 18. அவற்றில் முதல் பன்னிரண்டின் சராசரி 14 மற்றும் கடைசி பன்னிரண்டின் சராசரி 17. பதின்மூன்றாவது முடிவைக் கண்டறியவும் (A) 74 (B) 78 (C) 72 (D) 76
44	If loss incurred is one-third of the selling price, then the loss percentage is: (A) 33.33% (B) 33.33% (C) 33.33% (D) 33.33%	44	ஏற்பட்ட இழப்பு விற்பனை விலையில் மூன்றில் ஒரு பங்காக இருந்தால், இழப்பு சதவீதம் (A) 33.33% (B) 33.33% (C) 33.33% (D) 33.33%

LDCE / CE for Postal Assistant / Sorting Assistant – 2024

B

Roll No.

Tamil Nadu Circle – 21.07.2024

Marks: 100x1 = 100 Marks

Time: 120 Minutes

	(A) 16.66 % (B) 20 % (C) 25 % (D) 33.33%		(A) 16.66 % (B) 20 % (C) 25 % (D) 33.33%
45	How many minutes does Vikram take to cover a distance of 2 km, if he runs at a speed of 20 km/hr? (A) 5 minutes (B) 6 minutes (C) 3 minutes (D) 9 minutes	45	விக்ரம் மணிக்கு 20 கிமீ வேகத்தில் ஓடினால், 2 கிமீ தூரத்தை கடக்க எத்தனை நிமிடங்கள் ஆகும்? (A) 5 நிமிடங்கள் (B) 6 நிமிடங்கள் (C) 3 நிமிடங்கள் (D) 9 நிமிடங்கள்
46	If a sum of money at simple interest doubles in 6 years, it will become 4 times in: (A) 12 years (B) 14 years (C) 16 years (D) 18 years	46	தனி வட்டியில் பணம் 6 ஆண்டுகளில் இரட்டிப்பானால், அது 4 மடங்கு எப்போது ஆகும்? (A) 12 ஆண்டுகள் (B) 14 ஆண்டுகள் (C) 16 ஆண்டுகள் (D) 18 ஆண்டுகள்
47	Prakash completes a journey from Tiruppur to Thanjavur in 10 hours. He travels the first half of the journey at a speed of 21 km/hr and the second half at a speed of 24 km/hr. The total distance travelled is (A) 220 km (B) 224 km (C) 230 km (D) 234 km	47	பிரகாஷ் திருப்பூரில் இருந்து தஞ்சாவூருக்கு 10 மணி நேரத்தில் பயணத்தை முடிக்கிறார். பயணத்தின் முதல் பாதியை மணிக்கு 21 கிமீ வேகத்திலும், இரண்டாவது பாதியில் 24 கிமீ வேகத்திலும் பயணிக்கிறார். பயணித்த மொத்த தூரம் (A) 220 கி.மீ (B) 224 கி.மீ (C) 230 கி.மீ (D) 234 கி.மீ
48	A person crosses a 600-metre-long railway platform in 5 minutes. What is his speed in km/hr? (A) 3.6 (B) 7.2 (C) 6.0 (D) 8.4	48	ஒரு நபர் 600 மீட்டர் நீளமுள்ள ரயில்வே பிளாட்பாரத்தை 5 நிமிடங்களில் கடக்கிறார். கிமீ/மணியில் (Km/hr) அவரது வேகம் என்ன? (A) 3.6 (B) 7.2 (C) 6.0 (D) 8.4
49	2000 soldiers were stationed in a fort with enough food for 20 days. But when some soldiers were transferred to another fort, the food lasted for five more days. How many soldiers were transferred? (A) 400 (B) 450 (C) 600 (D) 500	49	ஒரு கோட்டையில் 20 நாட்களுக்குத் தேவையான உணவுடன் 2000 வீரர்கள் நிறுத்தப்பட்டனர். ஆனால் சில வீரர்கள் வேறொரு கோட்டைக்கு மாற்றப்பட்டபோது, உணவு மேலும் ஐந்து நாட்களுக்கு நீடித்தது. எத்தனை வீரர்கள் மாற்றப்பட்டனர்? (A) 400 (B) 450 (C) 600 (D) 500
50	If cricketer Mithali Raj has an average score of 80 runs in eight innings, how much must she score in the ninth innings to raise the average score to 81? (A) 89 (B) 88 (C) 87 (D) 86	50	கிரிக்கெட் வீராங்கனை மிதாலி ராஜ் எட்டு இன்னிங்ஸ்களில் சராசரியாக 80 ரன்கள் எடுத்திருந்தால், சராசரி ஸ்கோரை 81 ஆக உயர்த்த அவர் ஒன்பதாவது இன்னிங்ஸில் எவ்வளவு ஸ்கோர் செய்ய வேண்டும்? (A) 89 (B) 88 (C) 87 (D) 86
51	"Warehousing services" is a feature offered by which service of India Post? (A) Speed Post (B) Media Post (C) Logistics Post (D) Direct Post	51	"கிடங்கு சேவைகள்" என்பது இந்திய அஞ்சல் துறையின் எந்த சேவையால் வழங்கப்படும் அம்சமாகும்? (A) விரைவு அஞ்சல் (B) மீடியா அஞ்சல் (C) லாஜிஸ்டிக்ஸ் அஞ்சல் (D) நேரடி அஞ்சல்
52	What is the discount rate given to a corporate customer who pays ₹ 90 lakhs monthly for booking Speed Post articles? (A) 10% (B) 15% (C) 20% (D) None of the above	52	விரைவு அஞ்சல் உருப்படிகளை முன்பதிவு செய்வதற்கு மாதந்தோறும் ₹ 90 லட்சம் செலுத்தும் கார்ப்பரேட் வாடிக்கையாளருக்கு வழங்கப்படும் தள்ளுபடி விகிதம் என்ன? (A) 10% (B) 15% (C) 20% (D) மேற்குறிப்பிட்டவை ஏதுமில்லை
53	A traveller may not use "Post Restante" for more than:	53	ஒரு பயணி போஸ்ட் ரெஸ்டாண்டேவை (Post Restante) இதற்கு மேல் பயன்படுத்தக்கூடாது:

Roll No.
Time: 120 Minutes

Tamil Nadu Circle – 21.07.2024

Marks: 100x1 = 100 Marks

54	(A) 1 month (B) 2 months (C) 15 days (D) 3 months	54	(A) 1 மாதம் (B) 2 மாதங்கள் (C) 15 நாட்கள் (D) 3 மாதங்கள்
54	The preservation period of work papers of RMS offices and sections is:	54	RMS அலுவலகங்கள் மற்றும் பிரிவுகளின் பணி ஆவணங்களின் பாதுகாப்பு காலம்:
55	(A) 6 months (B) 12 months (C) 18 months (D) 24 months	55	(A) 6 மாதங்கள் (B) 12 மாதங்கள் (C) 18 மாதங்கள் (D) 24 மாதங்கள்
55	Post Offices are classified into how many classes?	55	அஞ்சல் அலுவலகங்கள் எத்தனை வகுப்புகளாக வகைப்படுத்தப்பட்டுள்ளன?
56	(A) One (B) Two (C) Three (D) Four	56	(A) ஒன்று (B) இரண்டு (C) மூன்று (D) நான்கு
56	A Philatelic Deposit Account can be opened with a minimum deposit amount of:	56	ஒரு அஞ்சல் தலை சேகரிப்புக் கணக்கைத் (Philatelic Deposit Account) துவக்க குறைந்தபட்ச வைப்புத் தொகை
57	(A) ₹ 1000 (B) ₹ 500 (C) ₹ 400 (D) ₹ 200	57	(A) ₹ 1000 (B) ₹ 500 (C) ₹ 400 (D) ₹ 200
57	In which year was the India Post Payments Bank formally launched by the Prime Minister of India?	57	இந்தியப் பிரதமரால் எந்த ஆண்டு இந்தியா போஸ்ட் பேமென்ட் வங்கி முறைப்படி தொடங்கப்பட்டது?
58	(A) 2017 (B) 2018 (C) 2019 (D) 2016	58	(A) 2017 (B) 2018 (C) 2019 (D) 2016
58	Coin, bullion, precious stones and jewellery, currency notes or articles of gold or silver can be sent through inland post, only through:	58	நாணயம், பொன், விலையுயர்ந்த கற்கள் மற்றும் நகைகள், கரன்சி நோட்டுகள் அல்லது தங்கம் அல்லது வெள்ளிப் பொருட்களை கீழ்க்கண்ட எந்த உள்நாட்டு தபால் மூலம் மட்டுமே அனுப்ப முடியும்
59	(A) Registered Post (B) Insured Post (C) Confidential Post (D) Cannot be sent	59	(A) பதிவு செய்யப்பட்ட அஞ்சல் (B) காப்பீட்டு (Insured) அஞ்சல் (C) ரகசிய அஞ்சல் (D) அனுப்ப முடியாது
59	Minimum amount of advance payment of subsequent deposits for resetting of franking machines will be:	59	ஃபிராங்கிங் இயந்திரங்களை மீட்டமைக்க, அடுத்தடுத்த வைப்புத்தொகைகளின் முன்பணத்தின் குறைந்தபட்ச தொகை
60	(A) ₹ 2000 + multiples of ₹ 200 (B) ₹ 5000 + multiples of ₹ 500 (C) ₹ 10,000 + multiples of ₹ 1000 (D) ₹ 1000 + multiples of ₹ 100	60	(A) ₹ 2000 + ₹ 200 இன் மடங்குகள் (B) ₹ 5000 + ₹ 500 இன் மடங்குகள் (C) ₹ 10,000 + ₹ 1000 இன் மடங்குகள் (D) ₹ 1000 + ₹ 100 இன் மடங்குகள்
60	Under the International Financial System (IFS), money remittances upto _____ can be received in cash:	60	சர்வதேச நிதி அமைப்பின் (IFS) கீழ், _____ வரை அனுப்பும் பணத்தை ரொக்கமாகப் பெறலாம்
61	(A) ₹ 50,000 (B) ₹ 1,00,000 (C) ₹ 75,000 (D) ₹ 2,00,000	61	(A) ₹ 50,000 (B) ₹ 1,00,000 (C) ₹ 75,000 (D) ₹ 2,00,000
61	A sample packet weighing 70 grams is posted by a person but with no postage affixed on it. How much will it be charged on delivery?	61	ஒருவர் அஞ்சல்தலை ஒட்டாமல் 70 கிராம் எடை கொண்ட ஒரு மாதிரி பாக்கெட்டை (Sample Packet) அஞ்சல் வாயிலாக அனுப்பினால், அதனை பட்டுவாடா செய்யும்போது எவ்வளவு கட்டணம் வசூலிக்கப்படும்?
62	(A) ₹ 7 (B) ₹ 14 (C) ₹ 15 (D) ₹ 21	62	(A) ₹ 7 (B) ₹ 14 (C) ₹ 15 (D) ₹ 21
62	In the National Pension Scheme, the important term PRAN stands for:	62	தேசிய ஓய்வூதிய திட்டத்தில் (NPS) முக்கிய சொல்லான PRAN என்பதன் விரிவாக்கம்?
63	(A) Permanent Retirement Account Number (B) Progressive Retirement Account Number (C) Postal Retirement Account Number (D) None of these.	63	(A) Permanent Retirement Account Number (B) Progressive Retirement Account Number (C) Postal Retirement Account Number (D) மேற்கூறப்பட்டவை ஏதுமில்லை
63	Through CSI, the Department of Posts has digitalized:	63	CSI வழியாக, அஞ்சல் துறை எதை டிஜிட்டல் மயமாக்கியது
	(A) Mails and Counter operations (B) Finance and Accounts (C) Human Resource Management Functions (D) All of the above		(A) மெயில் மற்றும் கவுண்டர் செயல்பாடுகள் (B) நிதி மற்றும் கணக்குகள் (C) மனித வள மேலாண்மை செயல்பாடுகள் (D) மேற்கூறிய அனைத்தும்

LDCE / CE for Postal Assistant / Sorting Assistant – 2024
Tamil Nadu Circle – 21.07.2024

B

Marks: 100x1 = 100 Marks

64	Roll No. Time: 120 Minutes The counter user at the post office cannot login to multiple systems at the same time as the systems are bound with: (A) MAC - Media Access Control (B) MAC - Mapped Access Control (C) MAC - Mapped Automated Control (D) None of the Above	64	தபால் அலுவலகத்தில் உள்ள கவுண்டர் யூசர் ஒரே நேரத்தில் பல கணினிகளில் உள்நுழைய முடியாது. ஏனெனில் கணினிகள் இந்த அமைப்பின் பிணைக்கப்பட்டுள்ளது. (A) MAC - Media Access Control (B) MAC - Mapped Access Control (C) MAC - Mapped Automated Control (D) மேற்குறிப்பிட்டவை ஏதுமில்லை
65	What are the customs declaration forms used to book International Speed Post articles? (A) CN 21 and CN 23 (B) CN 22 and CN 23 (C) CN 23 and CN 25 (D) CN 21 and CN 25	65	சர்வதேச விரைவு தபால் உருப்படிகளை முன்பதிவு செய்ய பயன்படுத்தப்படும் சுங்க அறிவிப்பு படிவங்கள் (Customs Declaration Forms) என்ன (A) CN 21 மற்றும் CN 23 (B) CN 22 மற்றும் CN 23 (C) CN 23 மற்றும் CN 25 (D) CN 21 மற்றும் CN 25
66	Find the odd one out of the following Post Cards issued by the Department: (A) Meghdoot Post Card (B) Reply Post Card (C) Printed Post Card (D) Competition Post Card	66	அஞ்சல் துறையால் வெளியிடப்பட்ட பின்வரும் அஞ்சல் அட்டைகளில் வேறுபட்ட ஒன்றைக் கண்டறியவும் (A) மெக்தூத் அஞ்சல் அட்டை (B) ரிப்ளை அஞ்சல் அட்டை (C) பிரிண்டெட் அஞ்சல் அட்டை (D) காம்பெடிஷன் அஞ்சல் அட்டை
67	Night Office hours can be extended up to _____ hours by the _____ (A) 0830 pm; Director General of Posts (B) 1000 pm; Postmaster General (C) 0700 am; Head of Circle (D) 1200 am; Senior Superintendent of Posts	67	இரவு அலுவலக நேரத்தை _____ மணிநேரம் வரை _____ ஆல் நீட்டிக்க முடியும் (A) 0830 pm; டைரக்டர் ஜெனரல் (B) 1000 pm; போஸ்ட்மாஸ்டர் ஜெனரல் (C) 0700 am; தலைமை அஞ்சல் துறை தலைவர் (D) 1200 am; முதுநிலை கோட்ட கண்காணிப்பாளர்
68	Under which section of the Indian Penal Code is the manufacture and use of fictitious postage stamps for any purpose whatsoever prohibited? (A) Section 263-A (B) Section 253-A (C) Section 71 (D) Section 191(B)	68	இந்திய தண்டனைச் சட்டத்தின் எந்தப் பிரிவின் கீழ், போலி (Fictitious) தபால்தலைகளை தயாரிப்பதும் பயன்படுத்துவதும் தடை செய்யப்பட்டுள்ளது? (A) பிரிவு 263-A (B) பிரிவு 253-A (C) பிரிவு 71 (D) பிரிவு 191-B
69	In any post office other than a branch post office, a booked article can be insured for a maximum amount of: (A) ₹ 500 (B) ₹ 20,000 (C) ₹ 1,00,000 (D) ₹ 100	69	கிளை அஞ்சலகம் தவிர வேறு எந்த அஞ்சலகத்திலும், பதிவு செய்யப்பட்ட உருப்படியை கீழ்க்காணும் அதிகபட்ச தொகைக்கு காப்பீடு செய்யலாம்? (A) ₹ 500 (B) ₹ 20,000 (C) ₹ 1,00,000 (D) ₹ 100
70	In each set of a mail sorting office, there are _____ departments: (A) four (B) three (C) two (D) five	70	ஒரு மெயில் சார்ட்டிங் அலுவலகத்தில் ஒவ்வொரு செட்டிலும் _____ துறைகள் உள்ளன (A) நான்கு (B) மூன்று (C) இரண்டு (D) ஐந்து
71	Loan facility is available in Whole Life Assurance (Suraksha) Policy after: (A) 2 years (B) 3 years (C) 4 years (D) No loan facility is available	71	முழு ஆயுள் காப்பீட்டு (சுரக்ஷா) பாலிசியில் கடன் வசதி எப்பொழுது கிடைக்கும் (A) 2 ஆண்டுகள் (B) 3 ஆண்டுகள் (C) 4 ஆண்டுகள் (D) கடன் வசதி இல்லை
72	What is the dimension of the Meghdoot Post Card? (A) 14 cm x 10 cm (B) 10 cm x 7 cm (C) 14 cm x 9 cm (D) None of the above	72	மெக்தூத் அஞ்சல் அட்டையின் பரிமாணம் என்ன? (A) 14 செ.மீ x 10 செ.மீ (B) 10 செ.மீ x 7 செ.மீ (C) 14 செ.மீ x 9 செ.மீ (D) மேற்குறிப்பிட்டவை ஏதுமில்லை
73	What is the Proof of Delivery charges for Speed Post articles, apart from Speed Post charges? (A) ₹ 5 per article (B) ₹ 20 per article (C) ₹ 10 per article (D) ₹ 25 per article	73	விரைவு அஞ்சல் கட்டணங்கள் தவிர, விரைவு அஞ்சல் உருப்படியை பட்டுவாடா செய்ததற்கான ஆதாரம் பெற கட்டணம் என்ன? (A) ஒரு உருப்படிக்கு ₹ 5 (B) ஒரு உருப்படிக்கு ₹ 20 (C) ஒரு உருப்படிக்கு ₹ 10 (D) ஒரு உருப்படிக்கு ₹ 25

Roll No.
Time: 120 Minutes

Tamil Nadu Circle – 21.07.2024

Marks: 100x1 = 100 Marks

74	Cash on Delivery facility provides collection of an amount upto _____ at the time of delivery of consignments:	74	கேஷ் ஆன் டெலிவரி வசதி மூலம், சரக்குகளை பட்டுவாடா செய்யும் போது _____ வரைமீலான தொகையை வசூலிக்கலாம்
	(A) ₹ 10,000 (B) ₹ 20,000 (C) ₹ 50,000 (D) ₹ 1,00,000		(A) ₹ 10,000 (B) ₹ 20,000 (C) ₹ 50,000 (D) ₹ 1,00,000
75	As per Postal Manual Volume – VII, all circulars issued by Heads of Circles must be destroyed after _____ years:	75	அஞ்சல் கையேடு தொகுதி – VII இன் படி, தலைமை அஞ்சல்துறை தலைவரால் வெளியிடப்பட்ட அனைத்து சுற்றறிக்கைகளும் _____ ஆண்டுகளுக்குப் பிறகு அழிக்கப்பட வேண்டும்
	(A) 1 year (B) 2 years (C) 3 years (D) 4 years		(A) 1 வருடம் (B) 2 ஆண்டுகள் (C) 3 ஆண்டுகள் (D) 4 ஆண்டுகள்
76	Registered Book Packets and International Tracked Packets (ITPS) are handled at _____ and their delivery is to be done through _____.	76	பதிவுசெய்யப்பட்ட புத்தக கட்டுகள் (பாக்கெட்டுகள்) மற்றும் சர்வதேச கண்காணிப்புப் பொதிகள் (ITPS) _____ இல் கையாளப்படுகின்றன மற்றும் அவற்றின் விநியோகம் _____ மூலம் செய்யப்பட வேண்டும்.
	(A) Computerised Registration Centres, Nodal Delivery Centres (B) Parcel Hubs, Delivery Post Offices (C) Computerised Registration Centres, Delivery Post Offices (D) Parcel Hubs, Nodal Delivery Centres		(A) கணினிமயமாக்கப்பட்ட பதிவு மையங்கள், நோடல் பட்டுவாடா மையங்கள் (B) பார்சல் ஹப்ஸ், பட்டுவாடா அஞ்சல் அலுவலகங்கள் (C) கணினிமயமாக்கப்பட்ட பதிவு மையங்கள், பட்டுவாடா அஞ்சல் அலுவலகங்கள் (D) பார்சல் ஹப்ஸ், நோடல் பட்டுவாடா மையங்கள்
77	Which of the following is correct about withdrawals from Sukanya Samriddhi Account (SSA)?	77	சுகன்யா சம்ரித்தி கணக்கிலிருந்து (SSA) பணம் எடுப்பதில் பின்வருவனவற்றில் எது சரியானது?
	(A) Withdrawals may be made when the girl child attains the age of 18 or passes 10th standard in school. (B) Withdrawal may be made upto 50% of the balance available in the account at the end of the preceding financial year. (C) Withdrawals may be done in one lump sum or in instalments, not exceeding one per year. (D) All the above are correct		(A) பெண் குழந்தை 18 வயதை அடையும் போது அல்லது பள்ளியில் 10 ஆம் வகுப்பில் தேர்ச்சி பெறும்போது திரும்பப் பெறலாம். (B) முந்தைய நிதியாண்டின் இறுதியில் கணக்கில் இருக்கும் இருப்பில் 50% வரை திரும்பப் பெறலாம். (C) திரும்பப் பெறுதல்கள் ஒரு வருடத்திற்கு ஒன்றுக்கு மிகாமல், ஒரே தொகையாக அல்லது தவணைகளில் செய்யப்படலாம். (D) மேற்கூறப்பட்டவை அனைத்தும் சரியானவை
78	Cash bag which contains cash remittances must always be packed, closed and sealed by:	78	பணம் அனுப்பும் பணப் பையை _____ பேக் செய்து, மூடி, சீல் வைக்க வேண்டும்:
	(A) Treasurer in the presence of the Sub Account Assistant (B) Sub Account Assistant in the presence of the Postmaster and the Treasurer (C) Assistant Postmaster (Treasury) in the presence of the Treasurer and the Sub Account Assistant (D) None of the above		(A) துணை கணக்கு உதவியாளர் முன்னிலையில் பொருளாளர் (B) போஸ்ட் மாஸ்டர் மற்றும் பொருளாளர் முன்னிலையில் துணை கணக்கு உதவியாளர் (C) பொருளாளர் மற்றும் துணை கணக்கு உதவியாளர் முன்னிலையில் உதவி போஸ்ட் மாஸ்டர் (கருவூலம்). (D) மேற்கூறப்பட்டவை ஏதுமில்லை
79	The Head Sorting Assistant is supposed to submit MS-83 to the Superintendent or Superintendent (Sorting) an MS-83 report which is:	79	தலைமை சார்ட்டிங் உதவியாளர் MS-83 ஐ கண்காணிப்பாளர் அல்லது கண்காணிப்பாளரிடம் (சார்ட்டிங்) சமர்ப்பிக்கும் MS-83 அறிக்கை என்பது:
	(A) A daily report on bags received and dispatched (B) A daily report on sale of postage stamps and other stationery items (C) A daily report on important irregularities observed by him or reported to him by other sorting assistants (D) None of the above		(A) பெறப்பட்ட மற்றும் அனுப்பப்பட்ட பைகள் பற்றிய தினசரி அறிக்கை (B) தபால்தலைகள் மற்றும் பிற எழுதுபொருட்கள் விற்பனை பற்றிய தினசரி அறிக்கை (C) அவரால் கவனிக்கப்பட்ட அல்லது மற்ற சார்ட்டிங் உதவியாளர்களால் அவருக்குத் தெரிவிக்கப்பட்ட முக்கியமான முறைகேடுகள் குறித்த தினசரி அறிக்கை (D) மேற்கூறப்பட்டவை ஏதுமில்லை
80	HDMS in CSI refers to:	80	CSI இல் உள்ள HDMS என்கிற குறிப்பிடுகிறது
	(A) Help Desk Management System (B) Hard Disk Management System (C) Help Desk Monitoring Setup (D) None of the above		(A) உதவி மேசை மேலாண்மை அமைப்பு (B) ஹார்ட் டிஸ்க் மேலாண்மை அமைப்பு (C) உதவி மேசை கண்காணிப்பு அமைப்பு (D) மேற்கூறப்பட்டவை ஏதுமில்லை

Roll No.	Time: 120 Minutes		
81	With reference to foreign parcels, which of the following is incorrect?	81	வெளிநாட்டு பார்சல்களைப் பொறுத்தவரை, பின்வருவனவற்றில் எது தவறானது?
	(A) The length should not exceed 1.05 metres (B) The sum of the length and the greatest circumference measured in the direction other than the length should not exceed 2 metres. (C) A parcel should have a surface measuring not less than 90 mm * 140 mm (D) The general maximum weight limit is 10 kg.		(A) நீளம் 1.05 மீட்டருக்கு மிகாமல் இருக்க வேண்டும் (B) நீளம் மற்றும் நீளம் தவிர மற்ற திசையில் அளவிடப்படும் மிகப்பெரிய சுற்றளவு ஆகியவற்றின் கூட்டுத்தொகை 2 மீட்டருக்கு மிகாமல் இருக்க வேண்டும். (C) ஒரு பார்சலில் 90 மிமீ * 140 மிமீக்கு குறையாத அளவு மேற்பரப்பு இருக்க வேண்டும் (D) பொது அதிகபட்ச எடை வரம்பு 10 கிலோ.
82	In Postal Life Insurance schemes, "Endowment Assurance" is otherwise called:	82	அஞ்சல் ஆயுள் காப்பீட்டு திட்டங்களில், "எண்டோமென்ட் அஷ்யூரன்ஸ்" வேறு எவ்விதமாக அழைக்கப்படுகிறது?
	(A) Suraksha (B) Sumangal (C) Suvidha (D) Santosh		(A) சுரக்ஷா (B) சுமங்கல் (C) சுவிதா (D) சந்தோஷ்
83	The Asia Pacific Postal Union, a restricted union has its headquarters in which city?	83	வரையறுக்கப்பட்ட தொழிற்சங்கமான ஆசியா பசிபிக் தபால் ஒன்றியத்தின் தலைமையகம் எந்த நகரத்தில் உள்ளது?
	(A) New Delhi (B) Jakarta (C) Tehran (D) Bangkok		(A) புது டெல்லி (B) ஜகார்த்தா (C) தெஹ்ரான் (D) பாங்காக்
84	Metal tokens are used by which category of officials?	84	உலோக டோக்கன்கள் எந்த வகை அதிகாரிகளால் பயன்படுத்தப்படுகின்றன?
	(A) Circle Office official (B) Postal Division official (C) Region Office official (D) Selected RMS official		(A) வட்ட அலுவலக அலுவலர்கள் (B) அஞ்சல்கோட்ட பிரிவு அலுவலர்கள் (C) மண்டல அலுவலக அலுவலர்கள் (D) தேர்ந்தெடுக்கப்பட்ட RMS அலுவலர்கள்
85	The movement of SO slip is from:	85	SO ஸ்லிப்பின் இயக்கம்
	(A) Head post office to Sub post office (B) Sub post office to Branch post office (C) Branch post office to Sub post office (D) Sub post office to Head post office		(A) தலைமை அஞ்சலகம் முதல் துணை அஞ்சலகம் (B) துணை அஞ்சலகம் முதல் கிளை அஞ்சலகம் (C) கிளை அஞ்சலகம் முதல் துணை அஞ்சலகம் (D) துணை அஞ்சலகம் முதல் தலைமை அஞ்சலகம்
86	The maximum limit for remittance of loose cash between an account office and its subordinate offices through departmental employees is:	86	ஒரு கணக்கு அலுவலகம் மற்றும் அதன் கீழ் உள்ள அலுவலகங்களுக்கு இடையே, துறை சார்ந்த பணியாளர்கள் மூலம் உதிரி பணத்தை (loose cash) அனுப்புவதற்கான அதிகபட்ச வரம்பு
	(A) ₹ 5,00,000 (B) ₹ 10,00,000 (C) ₹ 15,00,000 (D) ₹ 20,00,000		(A) ₹ 5,00,000 (B) ₹ 10,00,000 (C) ₹ 15,00,000 (D) ₹ 20,00,000
87	"EMV chip" is used in which of the following items?	87	பின்வரும் எந்தப் பொருட்களில் "EMV சிப்" பயன்படுத்தப்படுகிறது?
	(A) BI Tools (B) RICT Device (C) QR card (D) ATM Card		(A) BI கருவிகள் (B) RICT சாதனம் (C) QR கார்டு (D) ஏடிஎம் கார்டு
88	Which section of the Customs Act of 1962 empowers the Customs Department to prohibit import of certain goods?	88	1962 ஆம் ஆண்டின் சுங்கச் சட்டத்தின் எந்தப் பிரிவு, சில பொருட்களை இறக்குமதி செய்வதைத் தடை செய்ய சுங்கத் துறைக்கு அதிகாரம் அளிக்கிறது?
	(A) Section 10 (B) Section 11 (C) Section 12 (D) Section 13		(A) பிரிவு 10 (B) பிரிவு 11 (C) பிரிவு 12 (D) பிரிவு 13
89	The use of inland letter cards for foreign communication is permissible with which of the following groups of countries?	89	வெளிநாட்டுத் தொடர்புக்கு உள்நாட்டுக் கடித அட்டைகளைப் பயன்படுத்துவது பின்வரும் எந்த நாடுகளின் குழுக்களுடன் அனுமதிக்கப்படுகிறது?
	(A) Bhutan, Bangladesh and Myanmar (B) Sri Lanka, Maldives and Myanmar (C) Pakistan, Afghanistan and Iran (D) Thailand, Laos and Vietnam		(A) பூடான், பங்களாதேஷ் மற்றும் மியான்மர் (B) இலங்கை, மாலத்தீவு மற்றும் மியான்மர் (C) பாகிஸ்தான், ஆப்கானிஸ்தான் மற்றும் ஈரான் (D) தாய்லாந்து, லாவோஸ் மற்றும் வியட்நாம்
90	What is the maximum insurance coverage under Pradhan Mantri Suraksha Bima Yojana?	90	பிரதான் மந்திரி சுரக்ஷா பீமா யோஜனாவின் அதிகபட்ச காப்பீட்டுத் தொகை என்ன?

Roll No.
Time: 120 Minutes

Tamil Nadu Circle – 21.07.2024

Marks: 100x1 = 100 Marks

	(A) ₹ 10 lakhs (B) ₹ 8 lakhs (C) ₹ 4 lakhs (D) ₹ 2 lakhs		(A) ₹ 10 லட்சம் (B) ₹ 8 லட்சம் (C) ₹ 4 லட்சம் (D) ₹ 2 லட்சம்
91	Second Class mails are forwarded by air transmission under which of the following circumstances? (A) If marked for air transmission (B) If the requisite air surcharges are paid . (C) Both A and B (D) None of the above	91	இரண்டாம் வகுப்பு அஞ்சல்கள் பின்வரும் எந்த சூழ்நிலைகளில் விமான போக்குவரத்து (Air transmission) மூலம் அனுப்பப்படுகின்றன (A) Air Transmission என குறிப்பிடப்பட்டுள்ளதால் (B) தேவையான விமான கூடுதல் சேவை கட்டணம் செலுத்தப்பட்டிருந்தால் (C) (A) மற்றும் (B) இரண்டும் (D) மேற்குறிப்பிட்டவை ஏதுமில்லை
92	Who is authorized to issue franking machine license? (A) Head of Division . (B) Head of Region (C) Head of Circle (D) Head of Sub Division	92	ஃபிராங்கிங் மெஷின் உரிமத்தை வழங்க அதிகாரம் பெற்றவர் யார்? (A) கோட்ட தலைவர் (B) மண்டல தலைவர் (C) தலைமை அஞ்சல் துறை தலைவர் (D) உபகோட்ட தலைவர்
93	Registration is compulsory for which of the following articles? (A) Insured article . (B) Ordinary article (C) Registered Newspaper (D) Book Post	93	பின்வரும் உருப்புகளில் எதற்கு பதிவு செய்வது கட்டாயமாகும் (A) காப்பீட்டு (Insured) உருப்படி (B) சாதாரண உருப்படி (C) பதிவு செய்யப்பட்ட செய்தித்தாள் (D) நூல் அஞ்சல்
94	Sub Record Office is a unit of: (A) RMS Division . (B) Postal Division (C) Returned Letter Office (D) Postal Accounts Office	94	சப் ரெகார்ட் அலுவலகம் _____ - ன் ஓர் அலகு (A) ஆர்.எம்.எஸ் கோட்டம் (B) அஞ்சல் கோட்டம் (C) ரிட்டர்ன்ட் லெட்டர் அலுவலகம் (RLO) (D) போஸ்டல் அக்கவுண்ட்ஸ் அலுவலகம் (B)
95	If a Postal Division enters into a BNPL agreement with another organization, it stands for: (A) Bulk Nodal Payment Lead (B) Booking Nodal Payment Lead (C) Book Now Pay Later . (D) None of these	95	ஒரு அஞ்சல் கோட்டம் மற்றொரு நிறுவனத்துடன் BNPL ஒப்பந்தம் மேற்கொண்டால், அது _____ - ஐ குறிக்கும் (A) பல்க் நோடல் பெமென்ட் லீட் (B) புக்கிங் நோடல் பெமென்ட் லீட் (C) புக் நவ் பே லேட்டர் (D) மேற்குறிப்பிட்டவை ஏதுமில்லை (B)
96	Maximum Working hours of branch post offices are: (A) 3 hours (B) 5 hours . (C) 4 hours (D) 6 hours	96	கிளை அஞ்சல் நிலையங்களின் அதிகபட்ச வேலை நேரம்? (A) 3 மணி நேரம் (B) 5 மணி நேரம் (C) 4 மணி நேரம் (D) 6 மணி நேரம்
97	When the last day for payment of any postal dues or for the receipt of sums due from the post office falls on a Sunday or a post office holiday, which day shall be taken as the last day for such transactions? (A) The actual day even if it is a Sunday or a post office holiday (B) The next working day after the due date (C) The last working day before the due date . (D) None of these	97	தபால் நிலுவைத் தொகையை செலுத்துதல் மற்றும் தொகையை பெறுவதற்கான கடைசி நாள், ஞாயிற்றுக்கிழமை அல்லது தபால் அலுவலக விடுமுறையில் வரும்போது, பின்வரும் எந்த நாள் அத்தகைய பரிவர்த்தனைக்கான கடைசி நாளாகக் கொள்ளப்படும். (A) ஞாயிற்றுக்கிழமை அல்லது தபால் அலுவலக விடுமுறையாக இருந்தாலும் அதே நாள் (B) நிலுவைத் தேதிக்குப் பிறகு அடுத்த வேலை நாள் (C) நிலுவைத் தேதிக்கு முந்தைய கடைசி வேலை நாள் (D) மேற்குறிப்பிட்டவை ஏதுமில்லை
98	With reference to RICT, which of the following cannot be considered a peripheral of the main computing device? (A) Laser Printer . (B) Thermal Printer (C) 2D scanner (D) Fingerprint scanner	98	RICT-ஐ பொறுத்தவரை, பின்வருவனவற்றில் பிரதான கணினி சாதனத்தின் புறக்கருவியாக (Peripheral) கருத முடியாது (A) லேசர் பிரிண்டர் (B) தெர்மல் பிரிண்டர் (C) 2D ஸ்கேனர் (D) ஃபிங்கர் பிரிண்டர் ஸ்கேனர்

LDCE / CE for Postal Assistant / Sorting Assistant – 2024
Tamil Nadu Circle – 21.07.2024

B

Marks: 100x1 = 100 Marks

Roll No.	Time: 120 Minutes		
99	Registration charges for a foreign letter is:	99	வெளிநாட்டு கடிதத்திற்கான பதிவு கட்டணம் எவ்வளவு? (A) ₹ 25 (B) ₹ 50 (C) ₹ 70 (D) ₹ 100
100	What is the minimum deposit required to open a Sukanya Samriddhi Account?	100	சுகன்யா சம்ரிதி கணக்கை (SSA) தொடங்குவதற்கான குறைந்தபட்ச வைப்புத் தொகை எவ்வளவு? (A) ₹ 250 (B) ₹ 500 (C) ₹ 1000 (D) ₹ 5000